

ΓΕΩΜΕΤΡΙΚΟΙ ΜΕΤΑΣΧΗΜΑΤΙΣΜΟΙ

ΜΕΤΑΠΤΥΧΙΑΚΗ ΕΡΓΑΣΙΑ

ΑΝΔΡΕΑ ΒΑΡΒΕΡΑΚΗ

ΓΕΩΜΕΤΡΙΚΟΙ ΜΕΤΑΣΧΗΜΑΤΙΣΜΟΙ

ΑΝΔΡΕΑΣ ΒΑΡΒΕΡΑΚΗΣ
ΠΑΝΕΠΙΣΤΗΜΙΟ ΚΡΗΤΗΣ

6 Δεκεμβρίου 2006

ΕΙΣΑΓΩΓΗ

1 ΟΙ ΜΕΤΑΣΧΗΜΑΤΙΣΜΟΙ ΓΕΝΙΚΑ

Η Γεωμετρία έχει ως αντικείμενο τη μελέτη εκείνων των ιδιοτήτων των σχημάτων που παραμένουν αναλλοίωτες ως προς όλες τις στερεές κινήσεις. Λέγοντας στερεή κίνηση εννοούμε τους γεωμετρικούς μετασχηματισμούς του επιπέδου ή του χώρου που διατηρούν την απόσταση μεταξύ οποιωνδήποτε δύο σημείων, τις λεγόμενες ισομετρίες. Αυτοί είναι οι λεγόμενοι *Ευκλείδειοι Μετασχηματισμοί*. Η βασική έννοια της ισότητας στην Γεωμετρία έχει άμεση σχέση με τους γεωμετρικούς μετασχηματισμούς. Δύο σχήματα του επιπέδου, για παράδειγμα, λέμε ότι είναι *ίσα* (ισοδύναμα ίσως θα ήταν η λέξη που αποδίδει ακριβέστερα το ίδιο νόημα), αν μπορούμε να τα φέρουμε σε ταύτιση μέσω μίας κατάλληλης κίνησης. Ποιά είναι όμως αυτή η έννοια της κίνησης; Μπορεί άραγε αυτή η κίνηση να γίνει πάντα χωρίς να χρειαστεί να σηκώσουμε το σχήμα μας από το επίπεδο;

1.1 ΟΡΙΣΜΟΙ-ΣΥΜΒΟΛΙΣΜΟΙ

Ορισμός 1.1 (ΜΕΤΑΣΧΗΜΑΤΙΣΜΟΣ) Ονομάζουμε *Μετασχηματισμό*, κάθε μονοσήμαντη απεικόνιση T ενός συνόλου A σε ένα άλλο σύνολο B .

$$f : A \longrightarrow B$$

Αν αναφερόμαστε σε σύνολα σημείων, δηλαδή υποσύνολα του *Γεωμετρικού Χώρου*, τότε έχουμε ένα *Σημειακό Μετασχηματισμό*.

Ορισμός 1.2 (ΟΜΟΛΟΓΑ ΣΗΜΕΙΑ) Αν ένα σημείο A απεικονίζεται μέσω ενός μετασχηματισμού T σε ένα σημείο A^* , τα σημεία αυτά λέγονται *ομόλογα σημεία* του μετασχηματισμού αυτού.

Ορισμός 1.3 (ΔΙΠΛΑ ΣΗΜΕΙΑ-ΑΝΑΛΛΟΙΩΤΑ ΣΧΗΜΑΤΑ) Αν η εικόνα ενός σημείου A ταυτίζεται με τον εαυτό του, τότε το A λέγεται *διπλό ή σταθερό σημείο* του μετασχηματισμού. Ένα σχήμα που απεικονίζεται στον εαυτό του, το ονομάζουμε *αναλλοίωτο σχήμα* του μετασχηματισμού.

Ορισμός 1.4 (ΤΑΥΤΟΤΙΚΟΣ ΜΕΤΑΣΧΗΜΑΤΙΣΜΟΣ) Ο μετασχηματισμός που απεικονίζει κάθε σημείο στον εαυτό του, ονομάζεται *ταυτοτικός μετασχηματισμός*.

Ορισμός 1.5 (ΕΝΕΛΕΙΚΤΙΚΟΣ ΜΕΤΑΣΧΗΜΑΤΙΣΜΟΣ) Ένας μετασχηματισμός T θα ονομάζεται *ενελεικτικός (involutoric)* αν έχει την ιδιότητα $T=T^{-1}$

1.2 ΠΡΟΣΑΝΑΤΟΛΙΣΜΕΝΟ ΕΠΙΠΕΔΟ

Στα επόμενα θα μας απασχολήσουν οι 1-1 και επί μετασχηματισμοί του διδιάστατου Ευκλείδειου επιπέδου R^2 στον εαυτό του

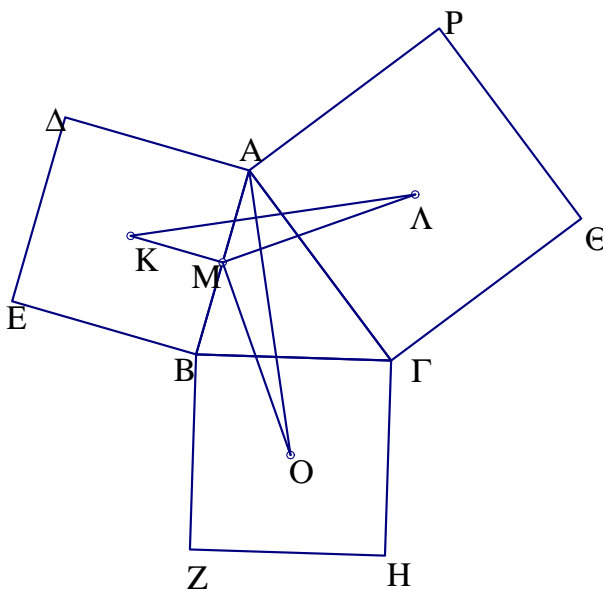
$$f : R^2 \longrightarrow R^2$$

Δηλαδή απεικονίζουμε κάθε ένα σημείο του R^2 σε ένα άλλο σημείο του. Πρώτα θα ασχοληθούμε με τους μετασχηματισμούς του επιπέδου που διατηρούν την Ευκλείδεια απόσταση, τις *Ισομετρίες* δηλαδή του επιπέδου ή διαφορετικά τους *Ευκλείδειους Μετασχηματισμούς*. Στην συνέχεια, θα δούμε τους Μετασχηματισμούς Ομοιότητας, δηλαδή τους μετασχηματισμούς εκείνους που διατηρούν τις γωνίες και τους λόγους των αποστάσεων ζευγών σημείων.

1.3 ΓΕΩΜΕΤΡΙΚΑ ΠΡΟΒΛΗΜΑΤΑ

Ας δούμε τρία κλασικά προβλήματα που μπορούν να αντιμετωπιστούν στα πλαίσια του μαθήματος της Ευκλείδειας Γεωμετρίας που διδάσκεται στην Μέση Εκπαίδευση. Στην συνέχεια θα δούμε πώς θα καταστεί δυνατό μέσα από την μελέτη των ιδιοτήτων των παραπάνω μετασχηματισμών, να δούμε τα προβλήματα αυτά από διαφορετική σκοπιά και για να λυθούν πολύ απλούστερα, αλλά κυρίως να μελετήσουμε εύκολα γενικεύσεις των προβλημάτων αυτών.

Πρόβλημα 1.1 Να κατασκευαστεί τρίγωνο $AB\Gamma$, όταν δίνονται τα κέντρα των τετραγώνων που κατασκευάζονται στις πλευρές του και εξωτερικά αυτού.



Σχήμα 1: Τετράγωνα

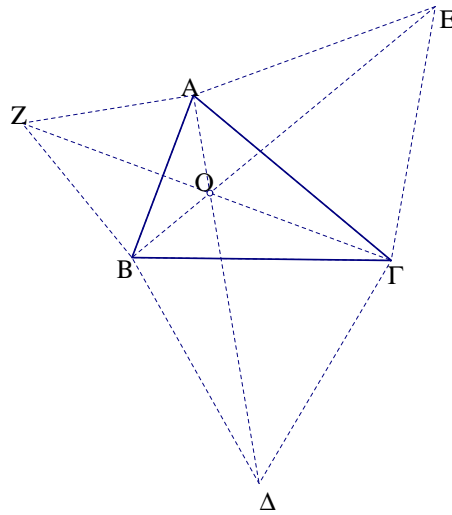
Απόδειξη:

Έστω K , Λ και O τα κέντρα των τετραγώνων με αντίστοιχες πλευρές τις AB , $A\Gamma$ και $B\Gamma$ (Σχήμα 1). Αν θεωρήσουμε το μέσον M της πλευράς AB , μπορούμε να δώσουμε μία απόδειξη όπως φαίνεται στο σχήμα, αποδεικνύοντας ότι τα MO και $M\Lambda$ είναι κάθετα και ίσα ή ότι AO και $K\Lambda$ είναι κάθετα και ίσα.

Πρόβλημα 1.2 Να κατασκευαστεί τρίγωνο, όταν δίνονται οι τρεις κορυφές ισοπλευρών τριγώνων που κατασκευάζονται εξωτερικά του ζητούμενου τριγώνου στις πλευρές αυτού.

Απόδειξη:

Εδώ αποδεικνύεται ότι οι γωνίες ΔOE , EOZ και $ZO\Delta$ είναι ίσες με 120° , καθώς επίσης ότι



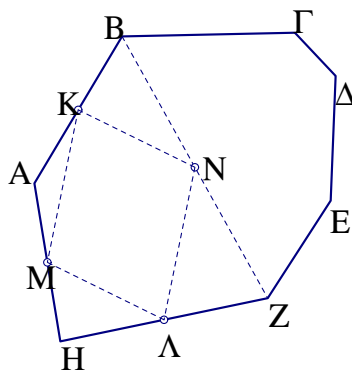
Σχήμα 2: Ισόπλευρα τρίγωνα

$OA + OB = OZ$, $OB + O\Gamma = O\Delta$ και $O\Gamma + OA = OE$, οπότε $OA = \frac{1}{2}(OZ + OE - O\Delta)$. Έτσι προσδιορίζονται πρώτα το O και στην συνέχεια οι κορυφές του ζητούμενου τριγώνου. (Σχήμα 2)

Πρόβλημα 1.3 Να κατασκευαστεί επτάγωνο όταν δίνονται τα μέσα των πλευρών του.

Απόδειξη:

Έστω $AB\Gamma\Delta EZH$ το ζητούμενο επτάγωνο. Τα μέσα των πλευρών του τετραπλεύρου $ABZH$ είναι κορυφές παραλληλογράμμου το οποίο επομένως κατασκευάζεται. Έτσι το πρόβλημα ανάγεται σε ανάλογο για πεντάγωνο και με όμοιο τρόπο το ανάγουμε σε τρίγωνο (Σχήμα 3).

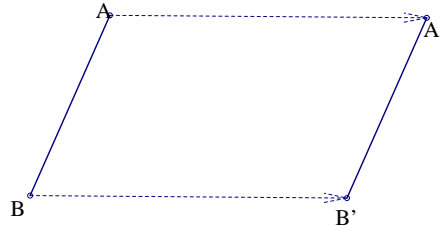


Σχήμα 3: $KN\Lambda M$ παραλληλόγραμμο

Όπως θα δούμε όμως παρακάτω, μπορούμε να αντιμετωπίσουμε τα προηγούμενα πρόβλήματα όπως και πολλά άλλα, σαν ειδικές περιπτώσεις μιας γενικότερης κατηγορίας προβλημάτων τα οποία αντιμετωπίζονται με ένα ενιαίο τρόπο με την βοήθεια των ισομετριών. Τέτοιες είναι οι (παράλληλες) μεταφορές, οι κατοπτρισμοί (ή ανακλάσεις ή αξονικές συμμετρίες) και οι στροφές, ειδική περίπτωση των οποίων είναι οι ημιστροφές ή συμμετρίες ως προς σημείο.

2 ΙΣΟΜΕΤΡΙΕΣ

2.1 ΜΕΤΑΦΟΡΑ

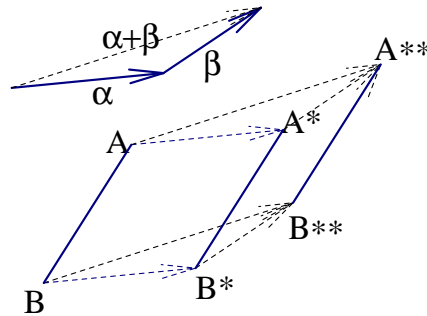


Σχήμα 4: Μεταφορά κατά διάνυσμα \vec{a}

Ορισμός 2.1 Η μεταφορά T_α ορίζεται από ένα σταθερό διάνυσμα \vec{a} και μεταφέρει όλα τα σημεία ενός σχήματος κατά αυτό το διάνυσμα.

Εύκολα προκύπτει ότι η εικόνα ενός ευθυγράμμου τμήματος AB είναι ένα άλλο ευθύγραμμο τμήμα $A'B'$ ίσο και παράλληλο προς το AB (Σχήμα 4). Γενικότερα, μία μεταφορά διατηρεί την κατεύθυνση και το μέγεθος των σχημάτων.

Πρόταση 2.1 (Σύνθεση μεταφορών) Η σύνθεση $T_\beta \circ T_\alpha$ δύο μεταφορών με αντίστοιχα



Σχήμα 5: Σύνθεση μεταφορών

διανύσματα \vec{a} και $\vec{\beta}$ είναι επίσης μία μεταφορά T_ν κατά διάνυσμα $\vec{\nu}$ ίσο με το άθροισμα των δύο αυτών διανυσμάτων:

$$\vec{\nu} = \vec{a} + \vec{\beta}$$

(Σχήμα 5)

Απόδειξη:

Πράγματι, τα AB και $A**B**$ είναι παράλληλα και ίσα, άρα το δεύτερο προκύπτει από μεταφορά του πρώτου κατά διάνυσμα $\vec{AA**}$ το οποίο είναι ίσο με το άθροισμα των \vec{a} και $\vec{\beta}$. Προφανώς η σύνθεση περισσοτέρων των δύο μεταφορών είναι μεταφορά διανύσματος ίσου με το άθροισμα των διανυσμάτων όλων των μεταφορών.

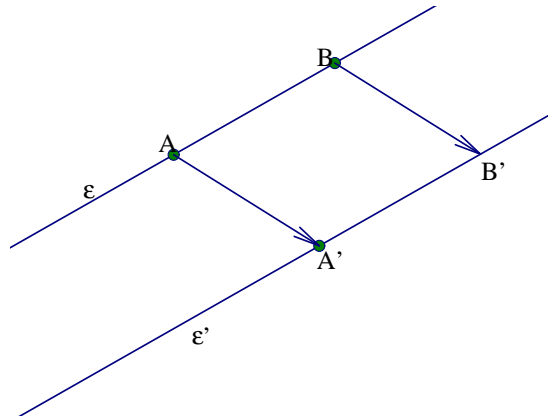
Αντίστροφος Μετασχηματισμός:

Υπάρχει πάντα ο αντίστροφος μετασχηματισμός μιάς μεταφοράς T_α που είναι μεταφορά αντιθέτου διανύσματος του \vec{a} .

$$T_\alpha^{-1} = T_{-\alpha}$$

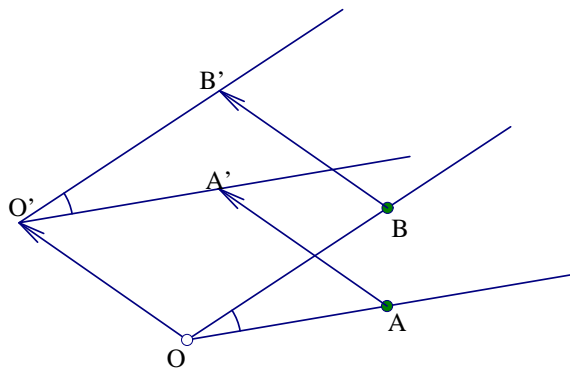
Ορισμός μεταφοράς από ζεύγος ομόλογων σημείων. Δίνονται σημείο A , καθώς και η εικόνα αυτού A^* μέσω κάποιας μεταφοράς T_α . Τότε το διάνυσμα \vec{a} της μεταφοράς είναι ίσο με $\vec{AA^*}$

Παραδείγματα μεταφοράς απλών σχημάτων



Σχήμα 6: Μεταφορά ευθείας

Η εικόνα ευθείας ϵ μέσω μεταφοράς, είναι ευθεία ϵ' παράλληλη της ϵ που κατασκευάζεται από τις εικόνες δύο τυχαίων σημείων A και B της ϵ (Σχήμα 6).



Σχήμα 7: Μεταφορά γωνίας

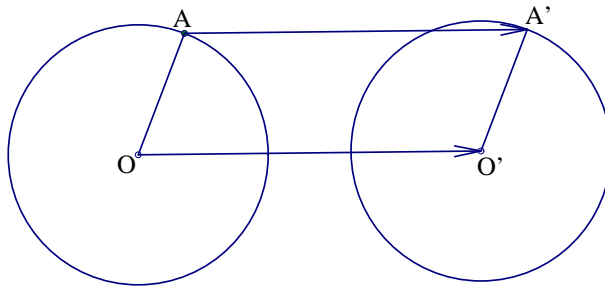
Η εικόνα γωνίας O μέσω μεταφοράς, είναι γωνία O' ίση της O με πλευρές παράλληλες των αντίστοιχων της O , που κατασκευάζονται από τις εικόνες δύο τυχαίων σημείων A και B των πλευρών της O καθώς και την εικόνα O' της κορυφής O . (Σχήμα 7).

Η εικόνα κύκλου (O, ρ) μέσω μεταφοράς, είναι κύκλος (O', ρ) ίσης ακτίνας, με κέντρο την εικόνα του O . Κατασκευάζεται με τη βοήθεια της εικόνας της τυχαίας ακτίνας OA (Σχήμα 8)

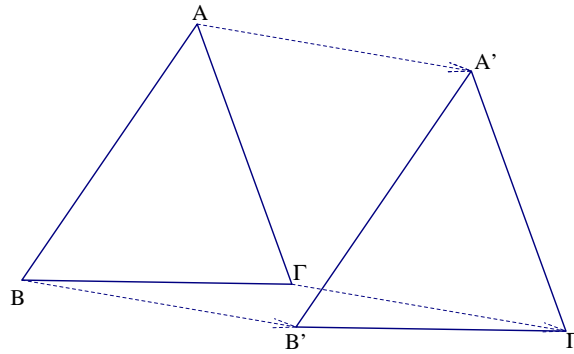
Η εικόνα τριγώνου $AB\Gamma$ είναι ίσο τρίγωνο με πλευρές παράλληλες του αρχικού. Κατασκευάζεται από τις εικόνες των τριών κορυφών του (Σχήμα 9).

2.2 ΕΦΑΡΜΟΓΕΣ ΤΗΣ ΜΕΤΑΦΟΡΑΣ ΣΕ ΓΕΩΜΕΤΡΙΚΑ ΠΡΟΒΛΗΜΑΤΑ

Πρόβλημα 2.1 Δίνονται δύο κύκλοι (K, r_1) και (O, r_2) και ένα ευθύγραμμο τμήμα α . Να βρεθεί ευθεία παράλληλη του α , ώστε η απόσταση των σημείων τομής της με τους δύο κύκλους να έχει τιμή το μήκος του α .



Σχήμα 8: Μεταφορά κύκλου



Σχήμα 9: Μεταφορά τριγώνου

Απόδειξη:

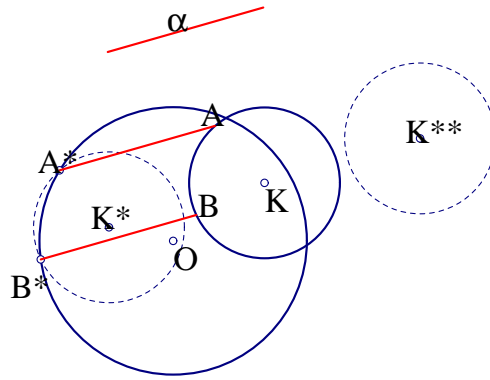
Κάνουμε μεταφορά του κύκλου (K, r_1) κατά διάνυσμα μέτρου α , επιλέγοντας μία από τις δύο κατευθύνσεις που ορίζει το δοθέν ευθύγραμμο τμήμα. Έστω (K^*, r_1) και (K^{**}, r_1) οι εικόνες των δύο μεταφορών. Κάθε τομή αυτών των εικόνων με τον δεύτερο δοθέντα κύκλο μας δίνει και μία λύση του προβλήματος [1]. (Στην περίπτωση του Σχήματος 10 έχουμε δύο λύσεις).

Πρόβλημα 2.2 Να βρεθεί το σημείο όπου πρέπει να χτιστεί μία γέφυρα σε ένα ποτάμι που χωρίζει δύο πόλεις ώστε η διαδρομή από τη μία στην άλλη να είναι η συντομότερη δυνατή. Γενικότερα να λυθεί το ίδιο πρόβλημα όταν οι δύο πόλεις χωρίζονται από πολλά ποτάμια.

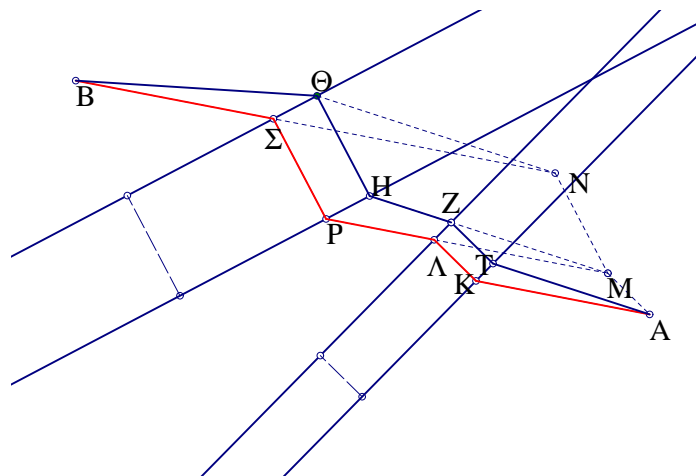
Απόδειξη:

Ας δούμε την περίπτωση με δύο γέφυρες (όμοια αντιμετωπίζεται η γενικότερη). Έστω A και B οι δύο πόλεις και ΚΛ, ΡΣ τα πλάτος των δύο ποταμιών. (Σχήμα 11) Κάνουμε μεταφορά του σημείου A κατά διάνυσμα $\overline{K\Lambda}$ και μετά κατά διάνυσμα $\overline{P\Sigma}$. Έστω N η εικόνα του A μέσω αυτών των μεταφορών και Σ η τομή της BN με την πλησιέστερη στο B παράλληλη. Αν $PA // AK // BN$, η διαδρομή AKLPΣB είναι η ζητούμενη, καθώς τα τμήματα ΚΛ και ΡΣ είναι τα σταθερά πλάτη των ποταμιών και το άθροισμα $AK + LP + \Sigma B$ ισούται με το μήκος BN το οποίο είναι η ελάχιστη διαδρομή από το B στο N. Βλέπουμε ότι κάθε άλλη διαδρομή όπως η ATZHΘB είναι μεγαλύτερη της AKLPΣB, καθώς $BK\Theta + \Theta N \geq BN$, όπου $AT // ZH // N\Theta$ και $AT + ZH = N\Theta$ [1].

Πρόβλημα 2.3 Έστω Δ, E και Z είναι τα μέσα των πλευρών AB, ΒΓ και ΓΑ αντίστοιχα ενός τριγώνου ABΓ. Αν K, O και Λ είναι τα κέντρα των περιγεγραμμένων και I, Σ και P



Σχήμα 10: Μεταφορά κύκλου

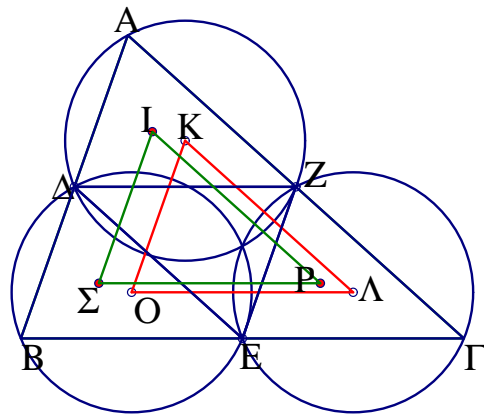


Σχήμα 11: Γέφυρες

των εγγεγραμμένων κύκλων των τριγώνων $A\Delta Z$, $B\Delta E$ και $\Gamma E Z$ αντίστοιχα, ναδειχθεί ότι τα τρίγωνα $K\Lambda O$ και $I\Pi\Pi$ είναι ίσα [1].

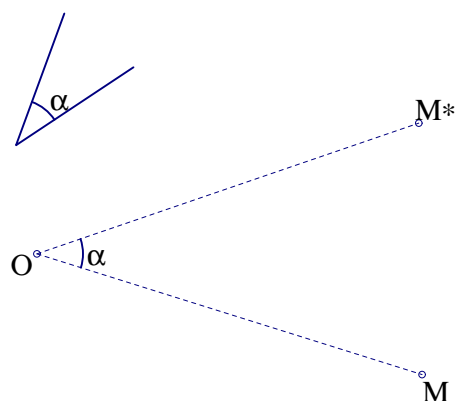
Απόδειξη:

Τα τρίγωνα $A\Delta Z$, $B\Delta E$ και $\Gamma E Z$ είναι ίσα και το κάθε ένα από αυτά προκύπτει από μεταφορά ενός από τα άλλα δύο κατά διάνυσμα μέτρου ίσου με το μισό μιάς πλευράς του τριγώνου $AB\Gamma$. Άρα και τα αντίστοιχα περικεντρα και έκκεντρα των παραπάνω τριγώνων, θα είναι κορυφές τριγώνων $K\Lambda O$ και $I\Pi\Pi$ με πλευρές ίσες με τα μέτρα των προηγούμενων μεταφορών (Σχήμα 12).



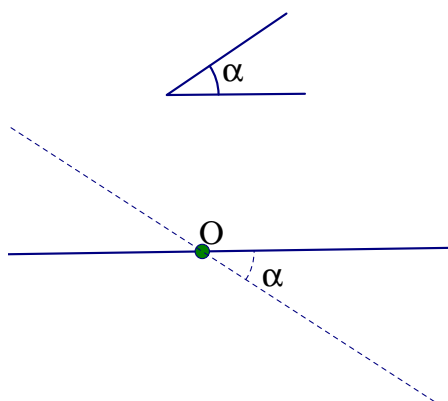
Σχήμα 12: $\text{τριγ.ΚΟΛ} = \text{τριγ.ΙΣΡ}$

2.3 ΣΤΡΟΦΗ



Σχήμα 13: Στροφή περί το O κατά γωνία α

Ορισμός 2.2 Έστω σταθερό σημείο O στο επίπεδο και προσανατολισμένη γωνία $\hat{\alpha}$. Αν M είναι ένα τυχαίο σημείο του επιπέδου, σχηματίζουμε την γωνία $\angle MOM^*$, ίση προς την $\hat{\alpha}$, με $OM=OM^*$. Το σημείο M^* είναι η εικόνα της στροφής $R_{(O,\alpha)}$ κέντρου O και γωνίας $\hat{\alpha}$ (Σχήμα 13).



Σχήμα 14: Στροφή ευθείας περί το O

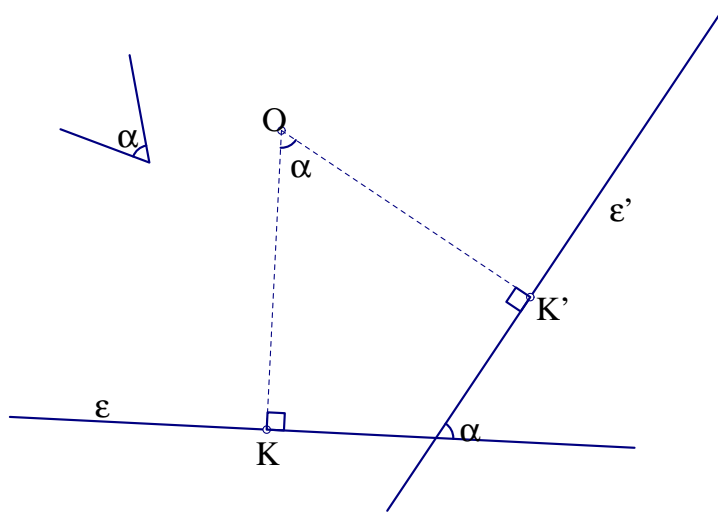
Αντίστροφος Μετασχηματισμός:

Η στροφή κέντρου O και γωνίας ίσου μέτρου και αντίθετης φοράς με την α , απεικονίζει το σημείο M^* στο M. Άρα ο αντίστροφος μετασχηματισμός $R_{(O,\alpha)}^{-1}$ είναι στροφή $R_{(O,-\alpha)}$ ίδιου κέντρου και αντίθετης γωνίας.

Η εικόνα ευθείας ε διερχόμενης από το κέντρο στροφής O είναι ευθεία ε' διερχόμενη από το O, που σχηματίζει με την ε γωνία ίση με την γωνία στροφής (Σχήμα 14).

Παραδείγματα στροφής απλών σχημάτων

Για να κατασκευάσουμε την εικόνα ευθείας ε μέσω στροφής κέντρου O και γωνίας α , αρκεί να κατασκευάσουμε την εικόνα OK' του κάθετου ευθύγραμμου τμήματος OK από το O προς την ευθεία και να φέρουμε ευθεία κάθετη στο OK' στο άκρο K' (Σχήμα 15). Η εικόνα γωνίας A μέσω στροφής κέντρου O, είναι γωνία A' ίση με την A και κατασκευάζεται με τις



Σχήμα 15: Στροφή ευθείας

εικόνες των αντίστοιχων πλευρών της (Σχήμα 16). Τα κοινά σημεία M και N των ομόλογων πλευρών βρίσκονται στον κύκλο AA'O, καθώς βλέπουν το τμήμα AA' με γωνία ίση με τη γωνία στροφής. Η εικόνα κύκλου (K, ρ) μέσω στροφής κέντρου O, είναι κύκλος ίσης ακτίνας (K', ρ) και κατασκευάζεται με τις εικόνες του κέντρου K και ενός σημείου A του κύκλου (Σχήμα 17).

Πρόταση 2.2 Η εικόνα μέσω στροφής ενός επιπέδου σχήματος είναι σχήμα ίσο προς το αρχικό και κάθε ευθύγραμμο τμήμα απεικονίζεται σε αντίστοιχο που σχηματίζει γωνία με το αρχικό, ίση με την γωνία στροφής. Επίσης κάθε ευθεία του σχήματος, σχηματίζει με την εικόνα της γωνία ίση με τη γωνία στροφής.

Απόδειξη:

Αν AM είναι τυχαία ευθεία, A*M* η εικόνα της και K το σημείο τομής τους, από την ισότητα των τριγώνων OAM και OA*M* προκύπτει ότι οι γωνίες M και M* είναι ίσες, επομένως τα σημεία O, K, M και M* είναι ομοκυκλικά. Άρα η γωνία των KM και KM* ισούται με τη γωνία των OM και OM*, δηλαδή τη γωνία στροφής.

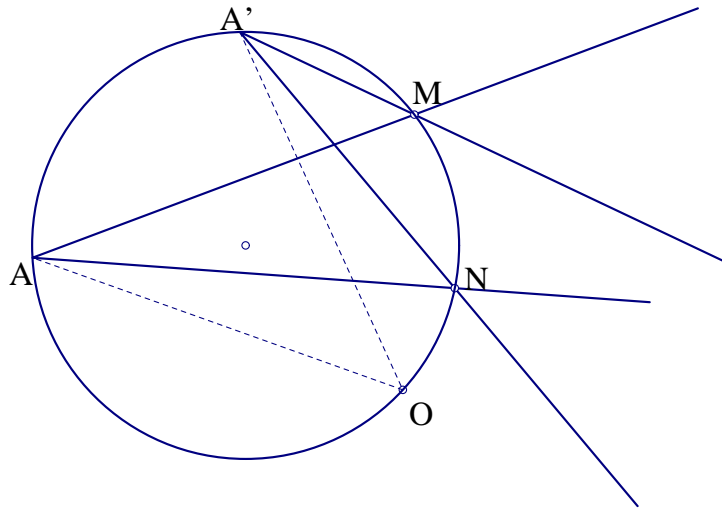
Παρατήρηση: Οι στροφές περί το ίδιο κέντρο με γωνίες που διαφέρουν κατά πολλαπλάσιο του 360° είναι ισοδύναμες. Δηλαδή η στροφή γωνίας $-\hat{\alpha}$ ισοδυναμεί με άλλη γωνίας $360^\circ - \hat{\alpha}$

Πρόταση 2.3 Η σύνθεση $R_2 \circ R_1$ δύο στροφών R_1 και R_2 γωνιών α και β αντίστοιχα ως προς το ίδιο κέντρο O, είναι στροφή γωνίας $\alpha + \beta$ κέντρου O (Σχήμα 19).

Πρόταση 2.4 Η σύνθεση $R_2 \circ R_1$ δύο στροφών R_1 και R_2 κέντρων O και K και γωνιών α και β , αντίστοιχα είναι στροφή κέντρου O αν $\hat{\alpha} + \hat{\beta} \neq 360^\circ$. Το σημείο O* προκύπτει σαν τομή των ημιευθειών που φέρουμε από τα κέντρα O και K, οι οποίες σχηματίζουν με το ευθύγραμμο τμήμα AB γωνίες ίσες με τα μισά των αντίστοιχων γωνιών στροφών και αντίθετου με αυτές προσανατολισμού και γωνίας ίσης με το αλγεβρικό άθροισμα των γωνιών α και β . Στην περίπτωση που $\hat{\alpha} + \hat{\beta} = 360^\circ$, τότε η παραπάνω σύνθεση είναι μεταφορά (Σχήμα 21). Γενικά, η σύνθεση περισσοτέρων των δύο στροφών, είναι στροφή γωνίας ίσης με το άθροισμα όλων των γωνιών στην περίπτωση που αυτό δεν είναι πολλαπλάσιο του 360°, ή μεταφορά σε περίπτωση που είναι.

Απόδειξη:

Έστω ευθύγραμμο τμήμα AB, A*B* η εικόνα του κατά την πρώτη στροφή και A**B**



Σχήμα 16: Στροφή γωνίας

η εικόνα του κατά την δεύτερη στροφή. Το τελευταίο ευθύγραμμο τμήμα έχει στραφεί σε σχέση με το πρώτο κατά γωνία ίση με το άθροισμα $\alpha + \beta$, όπως φαίνεται στο Σχήμα 20. Αυτό που μένει να προσδιορίσουμε είναι το κέντρο της στροφής αυτής. Στο Σχήμα 22 βλέπουμε ότι η εικόνα του σημείου O^* μέσω των δύο στροφών, είναι το ίδιο το σημείο άρα αυτό είναι το κέντρο της σύνθεσης. Στην περίπτωση που $\alpha + \beta = 360^\circ$ (ή 0°) παραπάνω σύνθεση είναι μεταφορά κατά διάνυσμα ίσο με το διπλάσιο της απόστασης των διχοτόμων των γωνιών που σχηματίζουν με την ίσων με τις αντίθετες των αντίστοιχων γωνιών στροφής. Σε αυτή την περίπτωση η σύνθεση δεν αλλάζει την κατεύθυνση του σχήματος. Όπως βλέπουμε στο σχήμα η εικόνα του σημείου A της ευθείας που διέρχεται από το O είναι το A^{**} της παράλληλης της από το K.

Πρόταση 2.5 Ορισμός στροφής από ζεύγη ομολόγων ευθειών

Αν θεωρήσουμε ένα ζεύγος ομολόγων ευθειών χ και χ' , κάθε σημείο O των διχοτόμων των σχηματιζόμενων γωνιών μπορεί να θεωρηθεί σαν κέντρο στροφής που απεικονίζει τη μία στην άλλη (Σχήμα 23). Αν θεωρήσουμε τώρα δύο ζεύγη παραλλήλων ευθειών με ίσες τις μεταξύ τους αποστάσεις, τότε κάθε σημείο O της ευθείας AB που ορίζεται από τα σημεία τομής των αντίστοιχων ευθειών, είναι κέντρο στροφής που απεικονίζει το ένα ζεύγος στο άλλο (Σχήμα 24).

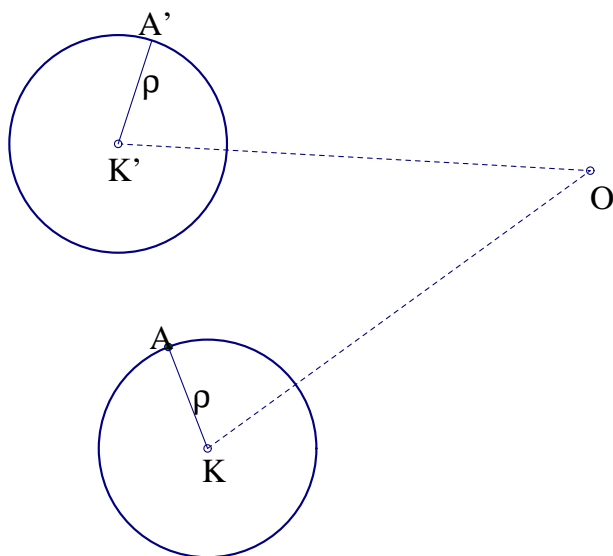
Πρόβλημα 2.4 Ορισμός στροφής από δύο ζεύγη ομολόγων σημείων

Δίνονται δύο ίσα και όχι παράλληλα ευθύγραμμα τμήματα AB και A'B'. Ποιός είναι ο μετασχηματισμός στροφής που απεικονίζει το σημείο A στο A' και το B στο B';

Απόδειξη:

Έστω K το σημείο τομής των ευθειών AB και A'B'. Έστω O το κοινό σημείο των μεσοκάθετων των AA' και BB'. Τα τρίγωνα OAB και OA'B' είναι ίσα, επομένως το O είναι το κέντρο της ζητούμενης στροφής, ενώ η γωνία είναι ίση με $\widehat{AOA'} = \widehat{BOB'}$. Το σημείο O κατασκευάζεται και σαν το δεύτερο κοινό σημείο των κύκλων AA'K και BB'K, όπως προκύπτει από τα εγγράψιμα τετράπλευρα AA'KO και BKB'O (Σχήμα 25). Αν τα AA' και BB' είναι παράλληλα, τότε και οι μεσοκάθετές τους είναι παράλληλες, οπότε οι παραπάνω κύκλοι εφάπτονται στο K, το οποίο είναι και το ζητούμενο κέντρο στροφής (Σχήμα 26).

Ορισμός στροφής από ζεύγος ομολόγων τετραγώνων



Σχήμα 17: Στροφή κύκλου

Πρόταση 2.6 Δίνονται δύο ίσα τετράγωνα $AB\Gamma\Delta$ και $A^*B^*\Gamma^*\Delta^*$. Αν M, N, Λ και K είναι τα σημεία τομής των ζευγών ομολόγων πλευρών $(A\Delta, A^*\Delta^*)$, $(B\Gamma, B^*\Gamma^*)$, $(\Gamma\Delta, \Gamma^*\Delta^*)$ και (AB, A^*B^*) αντίστοιχα, ναδειχθεί ότι $MN=K\Lambda$, οι ευθείες MN και $K\Lambda$ τέμνονται κάθετα και ότι το σημείο τομής τους O είναι κέντρο στροφής που απεικονίζει το πρώτο τετράγωνο στο δεύτερο.

Απόδειξη:

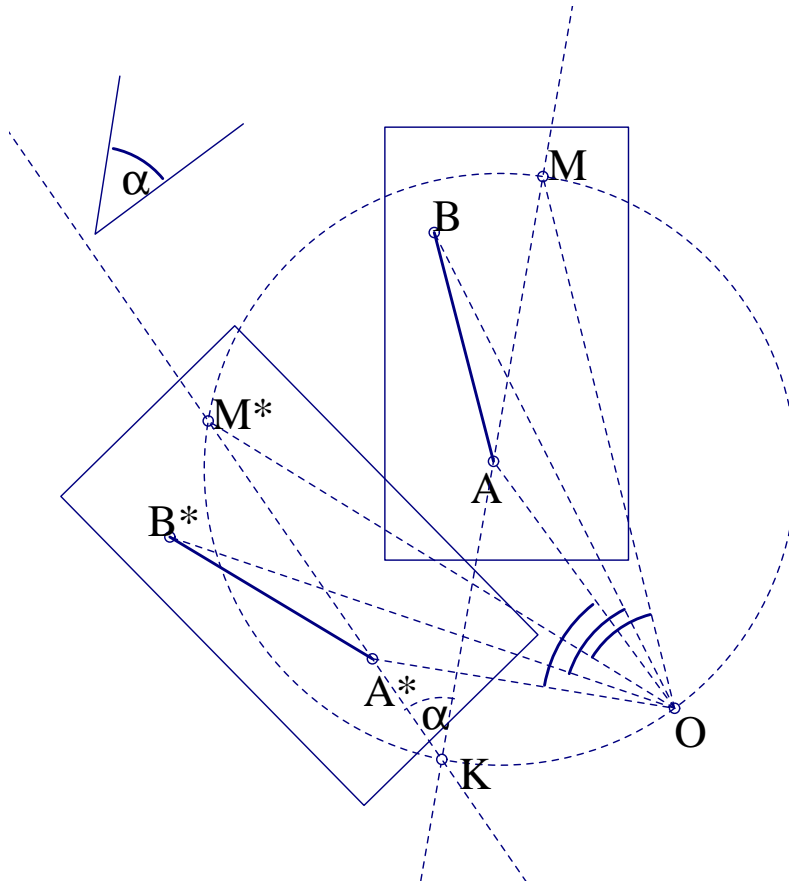
Από την Πρόταση 2.5, προκύπτει ότι τα σημεία της MN είναι κέντρα στροφών που απεικονίζουν το ζεύγος των ευθειών $B\Gamma$ και $A\Delta$ σε εκείνο των $B^*\Gamma^*$ και $A^*\Delta^*$. Ομοίως τα σημεία της $K\Lambda$ είναι κέντρα στροφών που απεικονίζουν το ζεύγος των ευθειών AB και $\Gamma\Delta$ σε εκείνο των A^*B^* και $\Gamma^*\Delta^*$. Επομένως, το κοινό σημείο O των MN και $K\Lambda$, είναι κέντρο στροφής που απεικονίζει την τετράδα των παραπάνω ευθειών $B\Gamma, A\Delta, AB, \Gamma\Delta$ σε αυτή των ομολόγων τους $B^*\Gamma^*, A^*\Delta^*, A^*B^*, \Gamma^*\Delta^*$, δηλαδή απεικονίζει το τετράγωνο $AB\Gamma\Delta$ στο $A^*B^*\Gamma^*\Delta^*$. Έστω τώρα Σ το σημείο τομής των ευθειών $B\Delta$ και $B^*\Delta^*$. Το σημείο αυτό, αποτελεί κέντρο στροφής κατά ορθή γωνία, που απεικονίζει τις ευθείες $AB, \Gamma\Delta, A^*B^*, \Gamma^*\Delta^*$ στις $B\Gamma, A\Delta, B^*\Gamma^*, A^*\Delta^*$ αντίστοιχα με όμοιο επιχείρημα όπως προηγουμένως. Η στροφή αυτή απεικονίζει τα σημεία K και Λ στα N και M αντίστοιχα. Επομένως τα τμήματα $K\Lambda$ και MN είναι κάθετα και ίσα (Σχήμα 27).

2.4 ΕΦΑΡΜΟΓΕΣ ΤΗΣ ΣΤΡΟΦΗΣ ΣΕ ΓΕΩΜΕΤΡΙΚΑ ΠΡΟΒΛΗΜΑΤΑ

Πρόβλημα 2.5 Δίνεται ένα κομμάτι χαρτί σε σχήμα τετραγώνου $AB\Gamma\Delta$. Το διπλώνουμε με τρόπο ώστε η κορυφή του A να συμπέσει με το μέσο M της $B\Gamma$. Ναδειχθεί ότι η αναδιπλωμένη πλευρά $A\Delta$, έστω ZM , τέμνει την πλευρά AB σε σημείο E με $AE=AB/3$.

Απόδειξη:

Έστω $ZMPN$ το συμμετρικό του $AB\Gamma\Delta$ ως προς την μεσοκάθετο του BM . Το σημείο O που προκύπτει σαν σημείο τομής των ευθυγράμμων τμημάτων που ενώνουν τα σημεία τομής των απέναντι αντίστοιχων πλευρών των δύο τετραγώνων, είναι το κέντρο στροφής που απεικονίζει το ένα τετράγωνο στο άλλο, με την σειρά των κορυφών $AB\Gamma\Delta \rightarrow ZMPN$. Το ίδιο σημείο είναι και σημείο τομής των διαγωνίων $A\Gamma$ και ZP . Επομένως το O ανήκει στην μεσοκάθετο



Σχήμα 18: Στροφή επίπεδου σχήματος

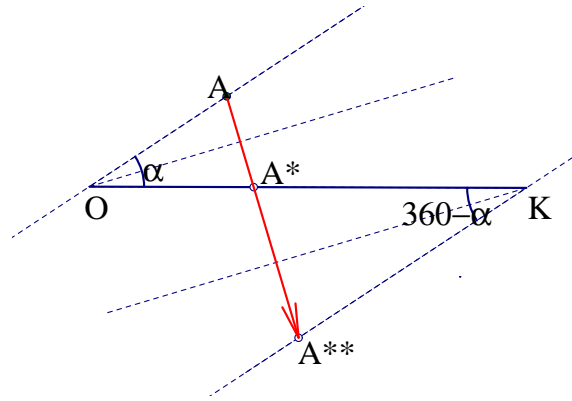
του BM , άρα ο λόγος ομοιότητας των ομοίων τριγώνων $ΑΕΟ$ και $ΔΟΓ$, είναι $1/3$, από όπου προκύπτει το ζητούμενο (Σχήμα 28).

Πρόβλημα 2.6 Το πρόβλημα αυτό αναφέρεται συχνά σαν πρόβλημα του πειρατή: Κάποιος πειρατής έκρυψε τον θησαυρό του σε ένα νησί προσδιορίζοντας την θέση του ως εξής: Στα σημεία B και $Γ$ υπάρχουν δύο πηγάδια, ενώ στο A ένας φοίνικας. Στις πλευρές AB και $ΑΓ$ του $ΑΒΓ$ έφερε κάθετα και ίσα προς αυτές τμήματα $BΔ$ και $ΓΗ$ αντίστοιχα, κάθε φορά προς διαφορετικό ημιεπίπεδο από εκείνο του $ΑΒΓ$. Στις μέσους M του $ΔΗ$ έθαψε τον θησαυρό. Το ζητούμενο είναι πώς μετά από χρόνια, κάποιος που έχει στα χέρια του τον χάρτη θα εντοπίσει το M , με δεδομένο ότι υπάρχουν μόνο τα δύο πηγάδια, ενώ δεν υπάρχει πιά ο φοίνικας.

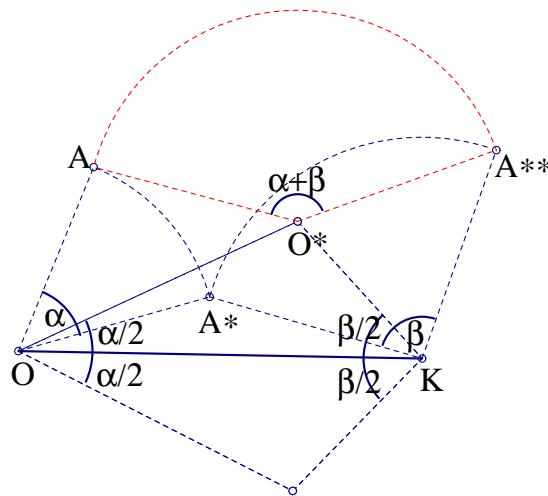
Απόδειξη:

Αποδεικνύεται ότι το σημείο M προσδιορίζεται σαν η κορυφή ορθογωνίου ισοσκελούς τριγώνου με υποτείνουσα την $BΓ$. (Προφανώς υπάρχουν δύο πιθανές θέσεις για την κορυφή, η M και η N , βλέπε σχήμα 29). Η σύνθεση των στροφών 90° περί τα κέντρα $Γ$ και B , απεικονίζουν το H στο $Δ$. Η σύνθεση όμως αυτή είναι μία ημιστροφή h_μ με κέντρο το μέσον M του $ΗΔ$, που βρίσκεται όμως και με την βοήθεια της σύνθεσης στροφών σαν το σημείο τομής ημιευθειών που σχηματίζουν γωνίες 45° με την $ΓΒ$. $R_\beta \circ R_\gamma = h_\mu$. Άρα το M είναι κορυφή ορθογωνίου και ισοσκελούς τριγώνου $MBΓ$.

Πρόβλημα 2.7 Στις πλευρές δοθέντος τετραπλεύρου $ΑΒΓΔ$ και εξωτερικά αυτού, κατασκευάζουμε τετράγωνα. Ναδειχθεί ότι τα ευθύγραμμα τμήματα KM και $NΛ$ που ορίζονται από τα κέντρα των τετραγώνων απέναντι πλευρών, είναι μεταξύ τους κάθετα και ίσα. Το πρόβλημα αυτό είναι γνωστό και σαν *Θεώρημα Van Aubel*.



Σχήμα 21: Σύνθεση στροφών με άθροισμα 360



Σχήμα 22: Σύνθεση στροφών

τετράγωνο κέντρου O .

Πρόβλημα 2.9 Έστω τετράγωνο $AB\Gamma\Delta$ και τυχαίο σημείο P έξω από αυτό. Φέρνουμε τις ευθείες $PA, PB, P\Gamma$ και $P\Delta$. Αν α είναι η κάθετη ευθεία από το A προς την PB , β η κάθετη από το B στην $P\Gamma$ και γ η κάθετη από το γ στην $P\Delta$, ναδειχθεί ότι οι τρεις ευθείες α, β και γ συντρέχουν. Τι γίνεται στην περίπτωση που το P βρίσκεται μέσα στο τετράγωνο; [10].

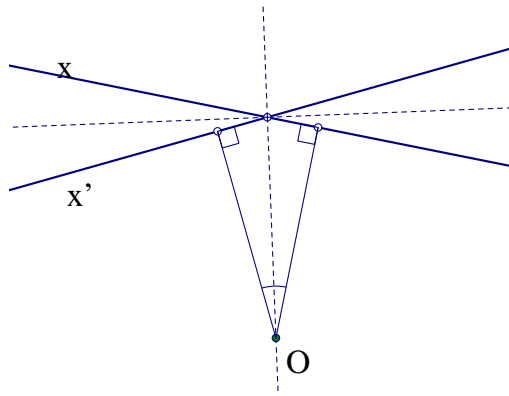
Απόδειξη:

Παρατηρούμε ότι η α προκύπτει από στροφή της PB περί το κέντρο O του τετραγώνου, κατά ορθή γωνία, κατά την φορά των δεικτών του ρολογιού. Όμοια η β είναι εικόνα της $P\Gamma$ και η γ της $P\Delta$ πάντα μέσω της παραπάνω στροφής. Έτσι και οι τρεις διέρχονται από το σημείο P^* που είναι η εικόνα του P μέσω του ίδιου μετασχηματισμού (Σχήμα 32). Στην περίπτωση που το P βρίσκεται στο εσωτερικό του $AB\Gamma\Delta$ τα επιχειρήματα εξακολουθούν να ισχύουν, άρα προκύπτει το ίδιο συμπέρασμα (Σχήμα 33).

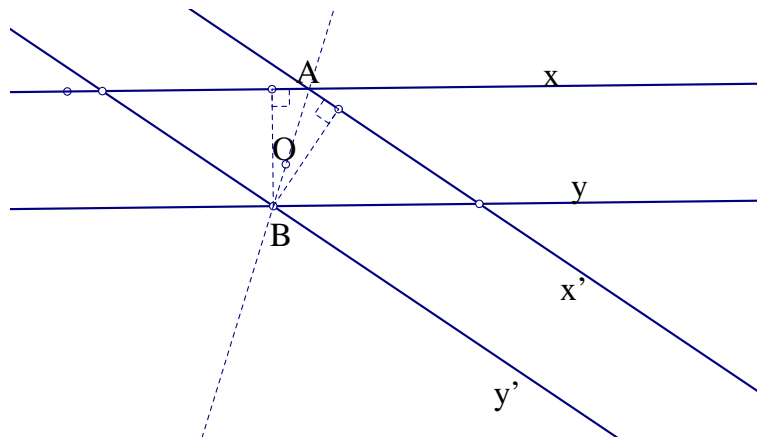
Πρόβλημα 2.10 Έστω τετράγωνο $AB\Gamma\Delta$ και ευθείες e_1, e_2 διερχόμενες από το A . Αν E, Z είναι οι προβολές της κορυφής Γ στις e_1, e_2 και Θ, H οι προβολές της Δ στις ευθείες αυτές, ναδειχθεί ότι τα ευθύγραμμα τμήματα EZ και ΘH είναι κάθετα και ίσα.

Απόδειξη:

Εφαρμόζουμε στροφή κέντρου O (κέντρο του τετραγώνου) και ορθής γωνίας κατά την αρνητική φορά (Σχήμα 34). Η εικόνα του B είναι το A και του A είναι το Δ . Επίσης το E

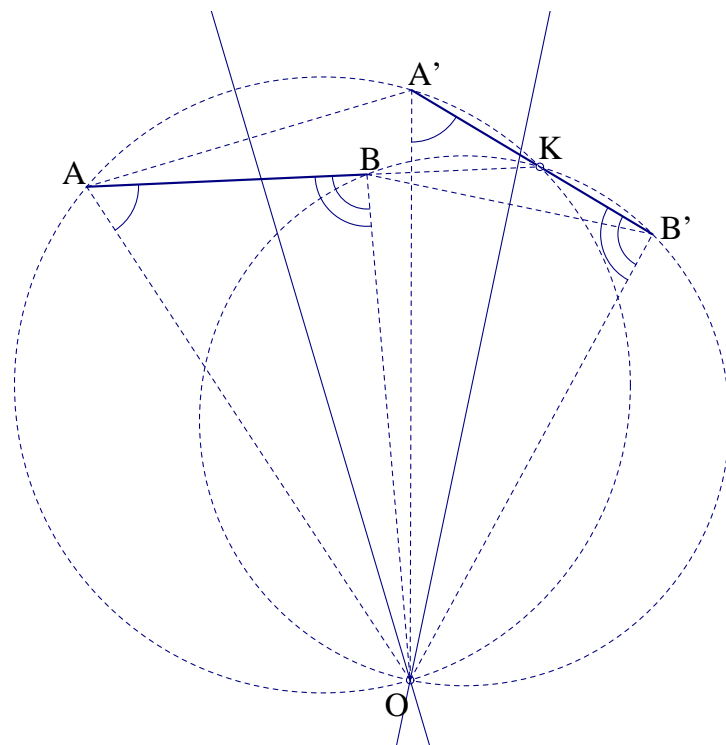


Σχήμα 23: Κέντρο στροφής ευθείας

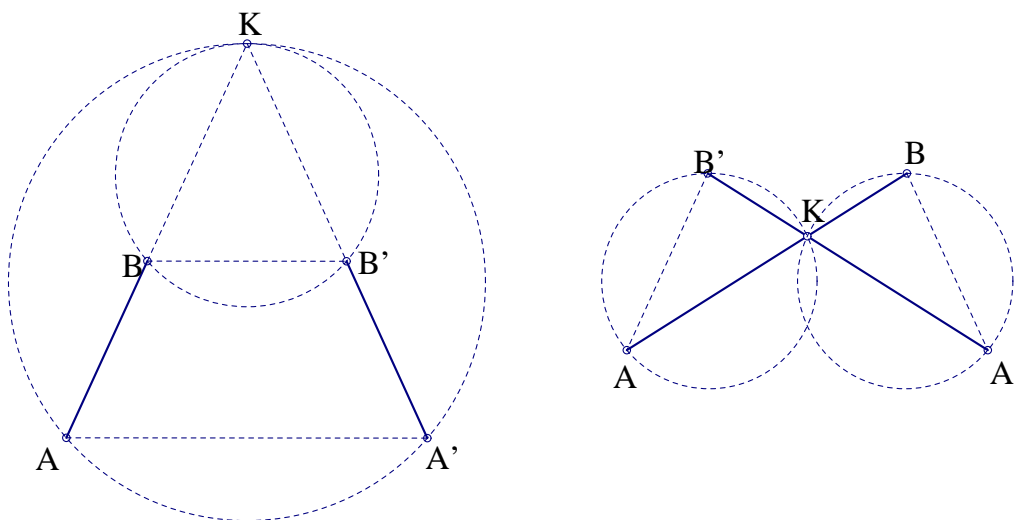


Σχήμα 24: Στροφή ζεύγους ευθειών

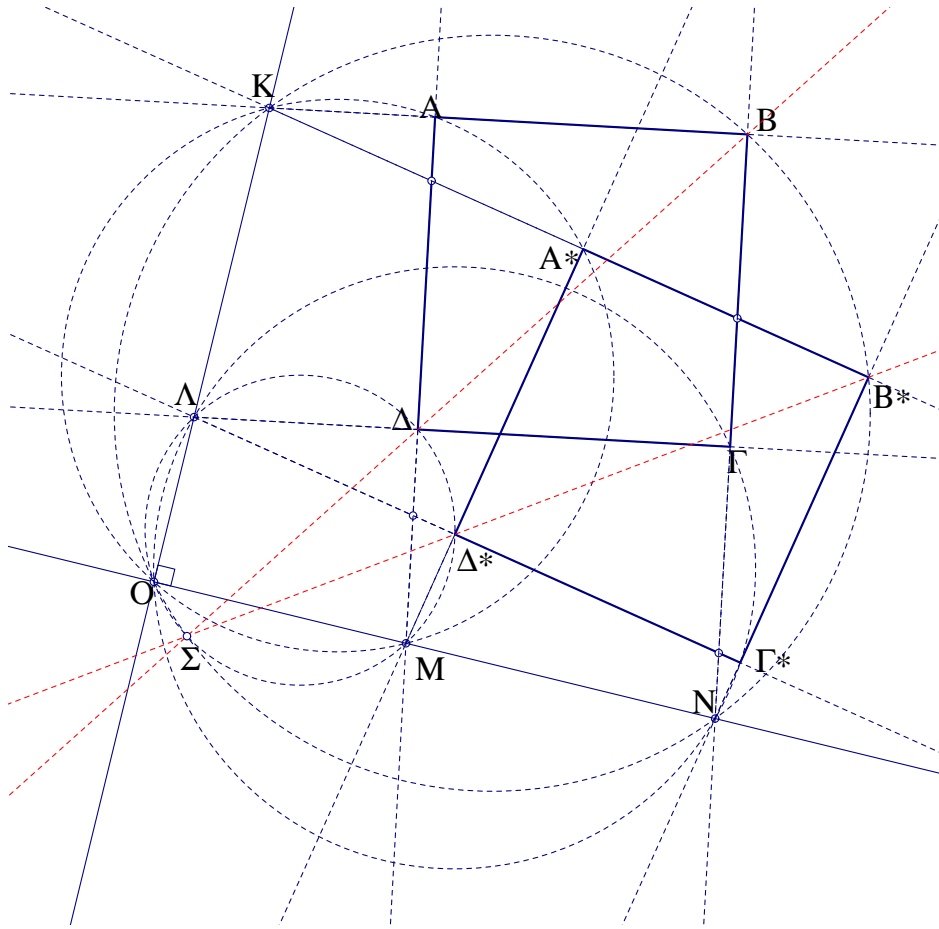
απεικονίζεται στο Θ και το Z στο H , καθώς οι ευθείες ϵ_1 και ϵ_2 απεικονίζονται στις ευθείες $\Delta\Theta$ και ΔH αντίστοιχα. Επομένως το ευθύγραμμο τμήμα ΘH είναι η εικόνα του EZ μέσω της παραπάνω στροφής [10].



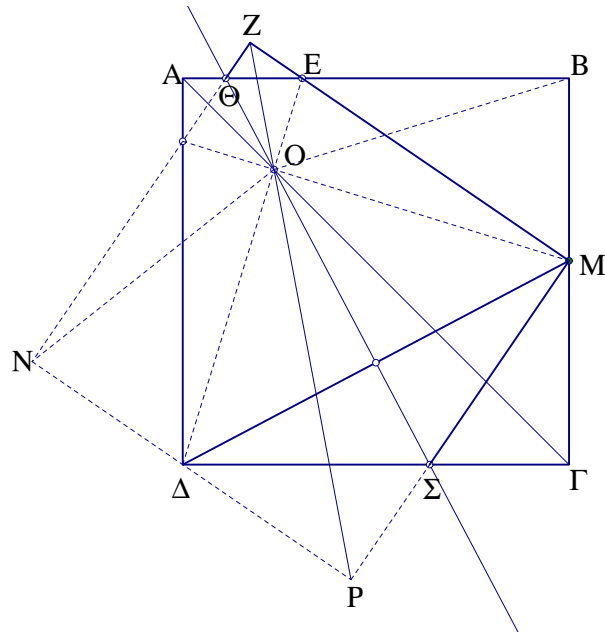
Σχήμα 25: Ορισμός στροφής



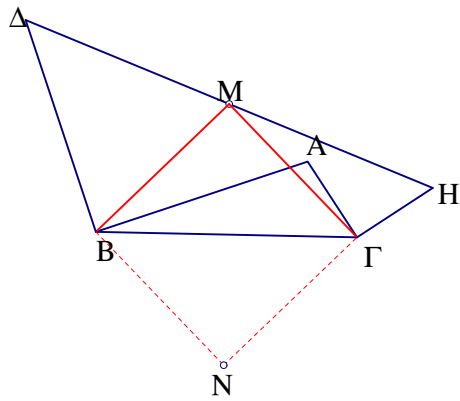
Σχήμα 26: Ορισμός στροφής με $AA' // BB'$



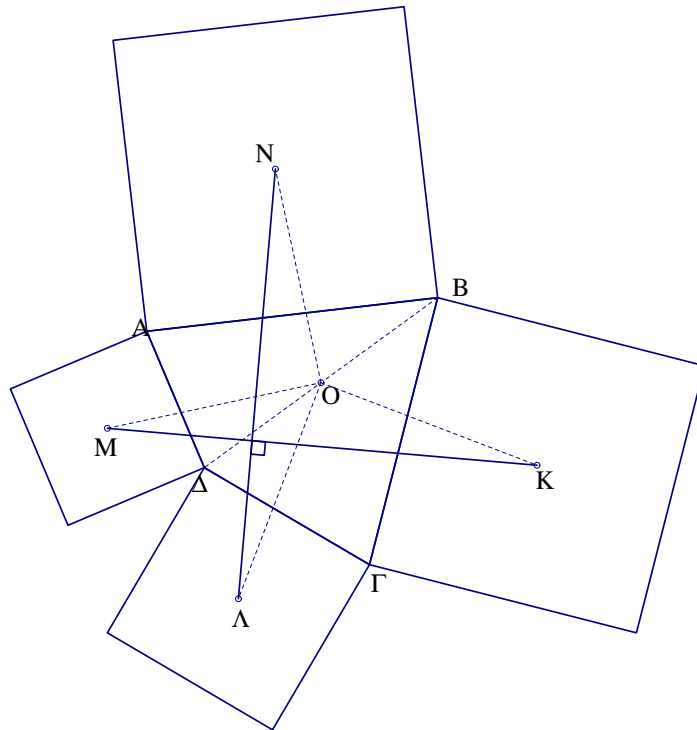
Σχήμα 27: Ορισμός στροφής σε τετράγωνο



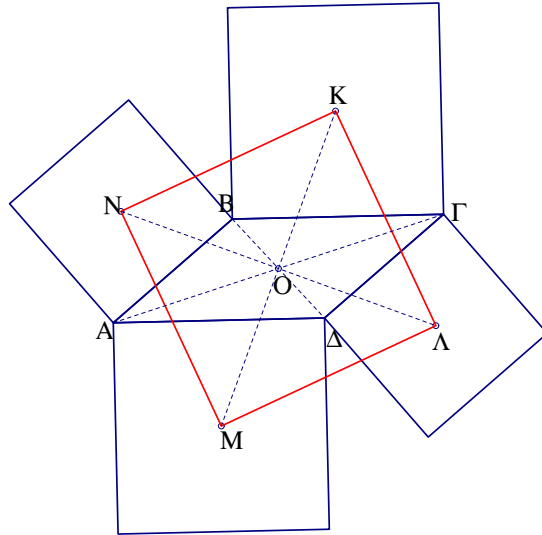
Σχήμα 28: Αναδίπλωση τετραγώνου



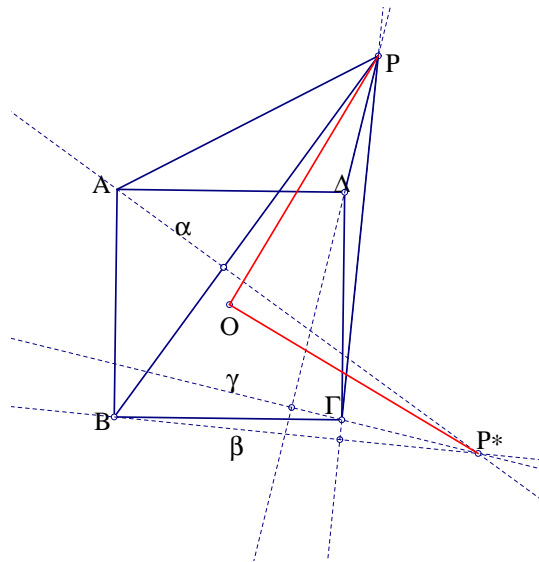
Σχήμα 29: $BM\Gamma$ ισοσκελές ορθογώνιο



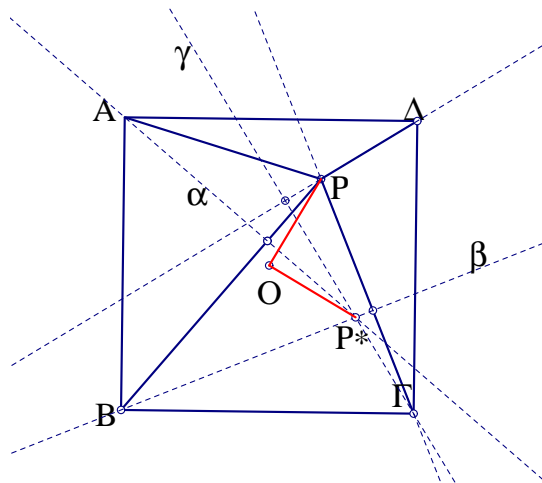
Σχήμα 30: Θεώρημα *Vanaubel*



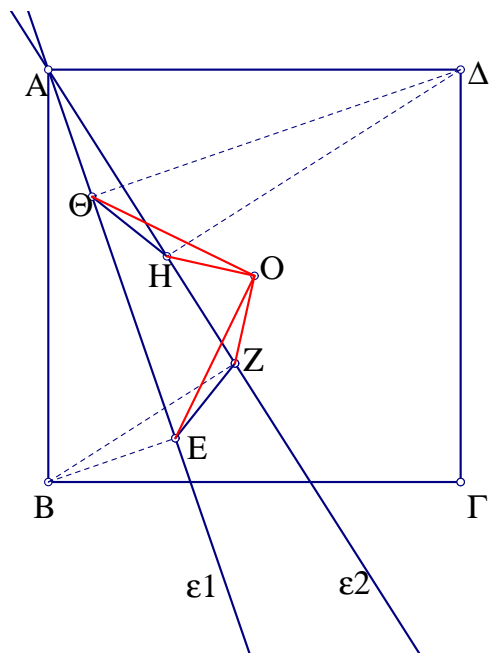
Σχήμα 31: Κορυφές τετραγώνου



Σχήμα 32: Στροφή του P κατά ορθή γωνία

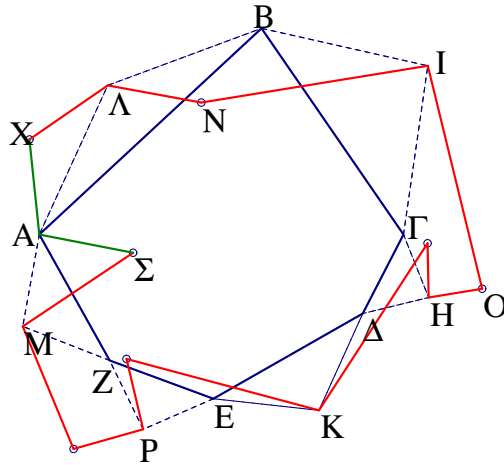


Σχήμα 33: Στροφή του P κατά ορθή γωνία



Σχήμα 34: Στροφή ορθής γωνίας περί το O

Πρόβλημα 2.11 Να κατασκευαστεί n -γώνο, όταν δίνονται n σημεία που αποτελούν κορυφές ισοσκελών τριγώνων με βάσεις τις πλευρές του n -γώνου με δοσμένες τις γωνίες των κορυφών.



Σχήμα 35: Διαδοχικές στροφές

Απόδειξη:

Έστω $AB\Gamma\Delta EZ$ το προς κατασκευή πολύγωνα για $n=6$ (Σχήμα 35) με τα ισοσκελή τρίγωνα στις πλευρές του και εξωτερικά αυτού. Η εικόνα ενός τυχαίου σημείου X μέσω της σύνθεσης των στροφών περί τις κορυφές των ισοσκελών τριγώνων με τις αντίστοιχες γωνίες, όπως φαίνεται στο σχήμα, είναι το σημείο M . Η σύνθεση αυτή είναι στροφή, της οποίας το κέντρο είναι το σημείο A καθώς η εικόνα του είναι το ίδιο το A . Τα προηγούμενα ισχύουν υπό την προϋπόθεση ότι το άθροισμα των γωνιών των στροφών δεν είναι πολλαπλάσιο του 360° . Σε αυτή την περίπτωση η σύνθεση είναι μεταφορά ή ταυτοτική, οπότε έχουμε καμία ή άπειρες λύσεις αντίστοιχα. Δύο παραδείγματα έχουμε στις περιπτώσεις που όλες οι γωνίες είναι ίσες με 180° , δηλαδή τα κέντρα των στροφών είναι μέσα των αντίστοιχων πλευρών: Στην περίπτωση περιττού πλήθους κορυφών δεν έχουμε καμία λύση, ενώ στην περίπτωση αρτίου πλήθους έχουμε άπειρες λύσεις [1].

Πρόβλημα 2.12 Να αποδειχθεί ότι τα κέντρα των ισοπλεύρων τριγώνων που κατασκευάζονται στις πλευρές τυχαίου τριγώνου και εξωτερικά αυτού, είναι κορυφές ισοπλεύρου τριγώνου.

Απόδειξη:

Η σύνθεση τριών στροφών γωνίας 120° , είναι μεταφορά ή ταυτοτική. Στην περίπτωσή μας, η κορυφή A απεικονίζεται στο A μέσω τριών τέτοιων στροφών με κέντρα τα σημεία K, M και Λ (Σχήμα 36). Επομένως εδώ έχουμε ταυτοτικό μετασχηματισμό.

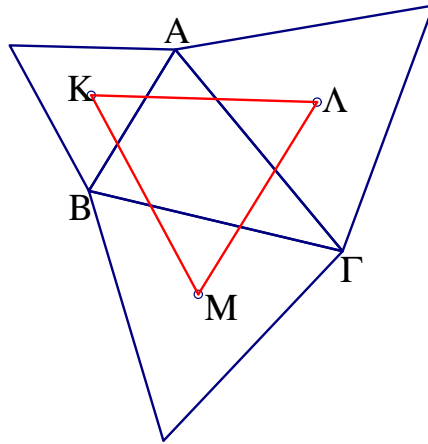
$$R_l \circ R_m \circ R_k = id$$

Για να συμβεί όμως αυτό, πρέπει η σύνθεση των στροφών $R_m \circ R_k$ να έχει κέντρο το σημείο Λ . Το κέντρο όμως αυτό προκύπτει σαν σημείο τομής ημιευθειών που σχηματίζουν με την KM γωνία ίση με $\frac{1}{2}120^\circ$ Άρα το τρίγωνο $K\Lambda M$ είναι ισόπλευρο [1].

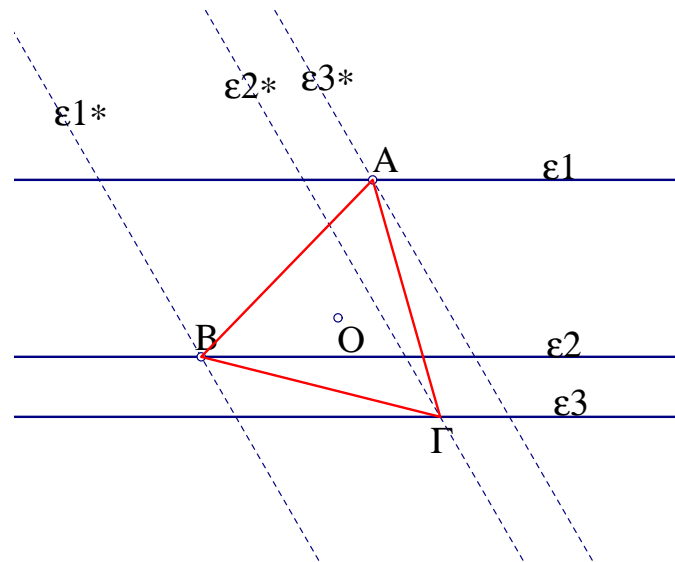
Πρόβλημα 2.13 Να κατασκευαστεί ισόπλευρο τρίγωνο, οι κορυφές του οποίου να βρίσκονται από μία πάνω σε τρεις παράλληλες ευθείες.

Απόδειξη:

Έστω $AB\Gamma$ το προς κατασκευή τρίγωνο και ϵ_1, ϵ_2 και ϵ_3 οι δοσμένες ευθείες. Στρέφουμε



Σχήμα 36: ΚΛΜ ισόπλευρο



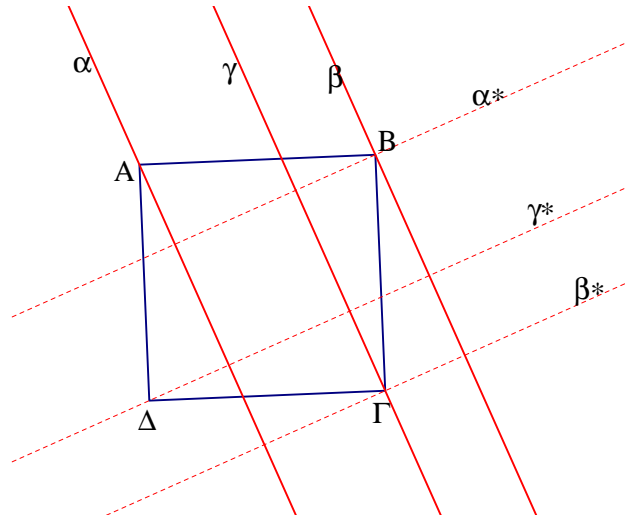
Σχήμα 37: Κατασκευή ισοπλεύρου

όλο το σχήμα κατά γωνία $\omega=120^\circ$ με κέντρο O το κέντρο του τριγώνου. Βλέπουμε ότι κάθε κορυφή του τριγώνου απεικονίζεται σε μία άλλη κορυφή του. Έτσι οι ζητούμενες κορυφές προσδιορίζονται όπως βλέπουμε στο σχήμα σαν τα σημεία τομής των ϵ_1 , ϵ_2 και ϵ_3 με τις εικόνες των ϵ_3 , ϵ_1 και ϵ_2 αντίστοιχα (Σχήμα 37).

Πρόβλημα 2.14 Να κατασκευαστεί τετράγωνο, τέτοιο ώστε τρεις από τις κορυφές του να βρίσκονται πάνω σε τρεις δεδομένες ευθείες.

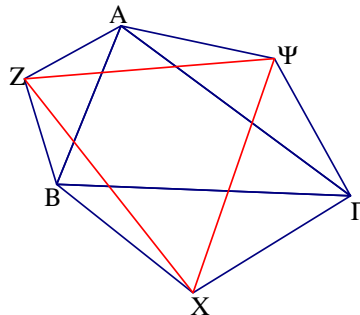
Απόδειξη:

Έστω $AB\Gamma\Delta$ το προς κατασκευή τετράγωνο και α , β και γ οι τρεις δεδομένες ευθείες, πάνω στις οποίες βρίσκονται οι κορυφές A , B και Γ αντίστοιχα (Σχήμα 38). Αν α^* , β^* και γ^* οι εικόνες των α , β και γ αντίστοιχα μέσω στροφής ορθής γωνίας περί το κέντρο του τετραγώνου, βλέπουμε ότι η α^* περνά από το β και η β^* από το Γ , καθώς η κορυφή A απεικονίζεται στη B και η B στη Γ . Επομένως η B προσδιορίζεται σαν τομή της β με την α^* και η Γ σαν τομή της γ με την β^* . Η στροφή που θα εφαρμόσουμε στις τρεις ευθείες γίνεται με τυχαίο κέντρο, καθώς όποιο κέντρο και να επιλέξουμε το τελικό σχήμα παραμένει το ίδιο.



Σχήμα 38: Κατασκευή τετραγώνου

Πρόβλημα 2.15 Στις πλευρές τυχαίου τριγώνου $AB\Gamma$ κατασκευάζονται ισοσκελή τρίγωνα $B\Gamma X, ABZ$ και $A\Gamma\Psi$ με γωνίες κορυφών ίσες με α, β και γ αντίστοιχα. Αν $\alpha+\beta+\gamma=360^\circ$, ναδειχθεί ότι οι γωνίες του τριγώνου $EZ\Delta$ είναι ίσες με $\alpha/2, \beta/2, \gamma/2$. Τι συμβαίνει στην περίπτωση που τα ισοσκελή τρίγωνα κατασκευαστούν από την μεριά του ίδιου του αρχικού τριγώνου; [1]



Σχήμα 39: Γωνίες τριγώνου $X\Psi Z$

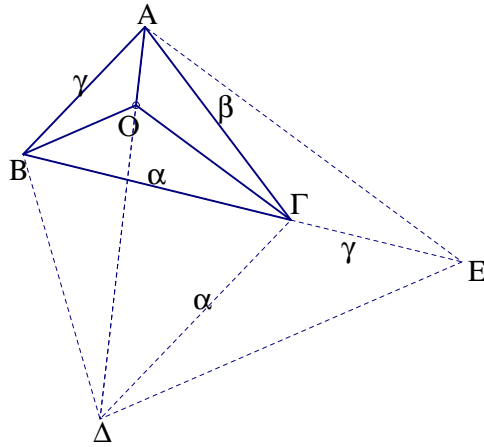
Απόδειξη:

Η κορυφή A απεικονίζεται στον εαυτό της μέσω της σύνθεσης $R_z \circ R_x \circ R_y$ των τριών στροφών με κέντρα τα σημεία Ψ, X και Z και γωνίες ίσες με αυτές των κορυφών των αντίστοιχων τριγώνων. Αυτό όμως συμβαίνει μόνο στην περίπτωση κατά την οποία η σύνθεση $R_x \circ R_y$ έχει κέντρο το σημείο Z , δηλαδή οι γωνίες X και Ψ να είναι ίσες με $\alpha/2$ και $\beta/2$ αντίστοιχα (Σχήμα 39). Μπορούμε να παρατηρήσουμε ότι το αμέσως προηγούμενο πρόβλημα είναι ειδική περίπτωση αυτού εδώ, για γωνίες $\alpha=\beta=\gamma=120^\circ$.

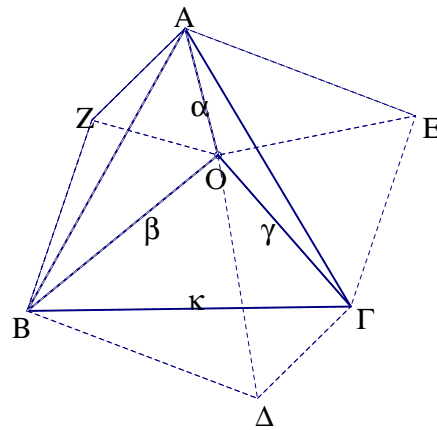
Πρόβλημα 2.16 Να βρεθεί σημείο O του επιπέδου, του οποίου το άθροισμα των αποστάσεων του από τις κορυφές δοθέντος τριγώνου $AB\Gamma$ με γωνίες μικρότερες των 120° να είναι ελάχιστο.

Απόδειξη:

Έστω τυχαίο σημείο M και MA, MB και $M\Gamma$ οι αποστάσεις από τις κορυφές του τριγώνου. Στρέφουμε το τρίγωνο $MB\Gamma$ κατά γωνία $\omega=60^\circ$, περί το σημείο B , ώστε η εικόνα της $B\Gamma$ να είναι η $B\Delta$. Το ζητούμενο άθροισμα ισούται με το μήκος της τεθλασμένης γραμμής $AMK\Delta$ (Σχήμα 40). Όμως αυτό γίνεται ελάχιστο όταν η τεθλασμένη γίνει ευθύγραμμο τμήμα.



Σχήμα 41: Ισόπλευρο τρίγωνο



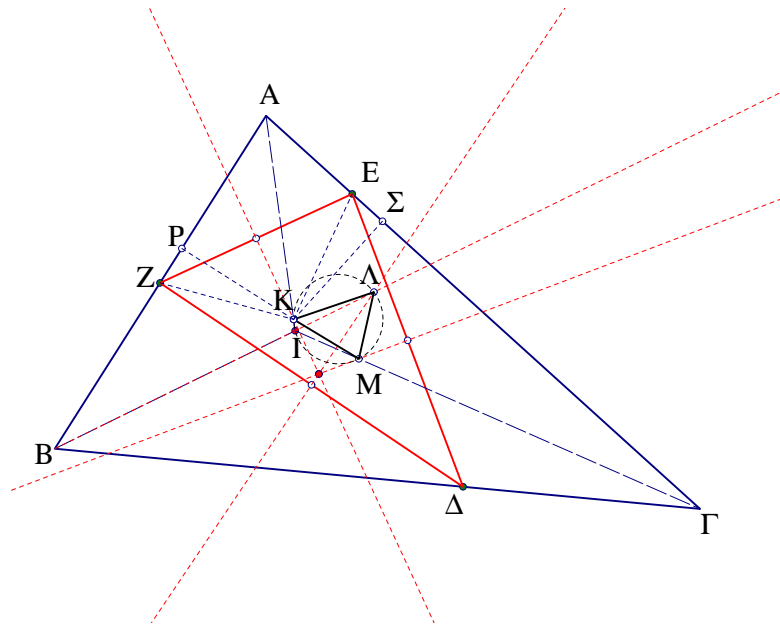
Σχήμα 42: Εμβαδόν ισοπλεύρου τριγώνου

καθώς το εξάγωνο αποτελείται από τρία ισόπλευρα τρίγωνα (πλευρών α , β και γ) και τρία ίσα τρίγωνα με πλευρές α , β και γ .

Πρόβλημα 2.19 Έστω τρίγωνο ΔEZ εγγεγραμμένο σε δοθέν $AB\Gamma$. Αν $K\Lambda M$ είναι το τρίγωνο που έχει για κορυφές τις τομές των μεσοκαθέτων των πλευρών του ΔEZ με τις αντίστοιχες διχοτόμους του $AB\Gamma$, ναδειχθεί ότι το τρίγωνο $K\Lambda M$ διατηρεί σταθερά τα μέτρα των γωνιών του όταν οι κορυφές Δ , E και Z κινούνται πάνω στις πλευρές $B\Gamma$, $A\Gamma$ και AB αντίστοιχα, καθώς και ότι ο περιγεγραμμένος κύκλος του περνά από το έγκεντρο του τριγώνου $AB\Gamma$.

Απόδειξη:

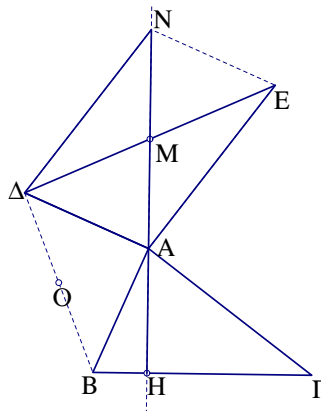
Αν K είναι το σημείο τομής της διχοτόμου της γωνίας A με την μεσοκάθετο της ZE και P, Σ οι προβολές του πάνω στις AB και $A\Gamma$ αντίστοιχα, παρατηρούμε ότι τα τρίγωνα KPZ και $K\Sigma E$ είναι ίσα, οπότε έχουμε ότι $KZ=KE$ και $\angle ZKE=\angle PK\Sigma=180^\circ-A$. Άρα η εικόνα του Z μέσω στροφής $R_K 180^\circ-A$ περί το K είναι το E . Όμοια, η εικόνα του E είναι το Δ και του Δ είναι το Z , μέσω στροφών R_M και R_Λ κέντρων M και Λ και γωνιών $180^\circ-\Gamma$ και $180^\circ-B$ αντίστοιχα. Η σύνθεση $R_\Lambda \circ R_M \circ R_K$ των παραπάνω στροφών συνολικής γωνίας 360° είναι ταυτοτική, δηλαδή μεταφορά μηδενικού διανύσματος. Για να συμβαίνει όμως αυτό, πρέπει το κέντρο της στροφής $R_M \circ R_K$ να ταυτίζεται με εκείνο της R_Λ . Άρα οι γωνίες του τριγώνου $K\Lambda M$ είναι: $\angle LKM=90^\circ-A/2$, $\angle LMK=90^\circ-\Gamma/2$ και $\angle K\Lambda M=90^\circ-B/2$. Επομένως



Σχήμα 43: Τρίγωνο σταθερών γωνιών

το τετράπλευρο ΙΚΛΜ έχει τις απέναντι γωνίες του Ι και Λ παραπληρωματικές, άρα είναι εγγράψιμο (Σχήμα 43).

Πρόβλημα 2.20 Στην κορυφή Α δοθέντος τριγώνου ΑΒΓ φέρνουμε ευθύγραμμα τμήματα $A\Delta \perp AB$ και $AE \perp AG$ προς διαφορετικό πάντα ημιεπίπεδο από αυτό που βρίσκεται η τρίτη κορυφή του τριγώνου. Ναδειχθεί ότι το ύψος ΑΗ διχοτομεί την ΔΕ.



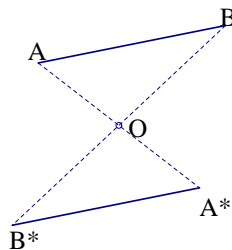
Σχήμα 44: $\Delta M = ME$

Απόδειξη:

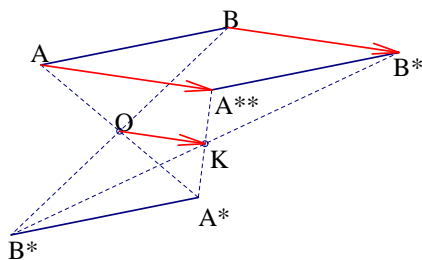
Στρέφουμε το τρίγωνο ΑΒΓ κατά γωνία $\omega = 90^\circ$ με κέντρο Ο το μέσον της ΒΔ. Η εικόνα της ΒΓ είναι η ΑΝ που είναι προέκταση του ΑΗ και η εικόνα της ΑΓ είναι η ΔΝ, παράλληλη και ίση της ΑΕ. Επομένως το ΑΔΝΕ είναι παραλληλόγραμμο, οπότε η ΑΝ διχοτομεί την ΔΕ (Σχήμα 44).

2.5 ΗΜΙΣΤΡΟΦΗ

Ορισμός 2.3 Η περίπτωση στροφής κατά γωνία ίση με 180° ονομάζεται *ημιστροφή* ή *συμμετρία* ως προς σημείο (σχήμα 45).

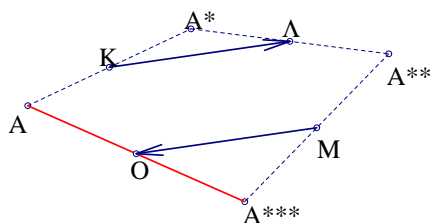


Σχήμα 45: Ημιστροφή



Σχήμα 46: Σύνθεση ημιστροφών

Πρόταση 2.7 (Σύνθεση ημιστροφών) Η σύνθεση δύο ημιστροφών $h_2 \circ h_1$ είναι μεταφορά κατά διάνυσμα ίσο με $2\overline{OK}$ όπου O και K είναι τα κέντρα των h_1 και h_2 αντίστοιχα (Σχήμα 46). Η σύνθεση τριών ημιστροφών $h_3 \circ h_2 \circ h_1$ είναι ημιστροφή ως προς κέντρο O το οποίο προκύπτει από μεταφορά του κέντρου της τρίτης κατά διάνυσμα αντίθετο του διανύσματος που ορίζουν τα δύο πρώτα κέντρα (σχήμα 47). Γενικά η σύνθεση άρτιου πλήθους ημιστροφών είναι μεταφορά και περιττού πλήθους είναι ημιστροφή.



Σχήμα 47: Σύνθεση τριών ημιστροφών

Απόδειξη:

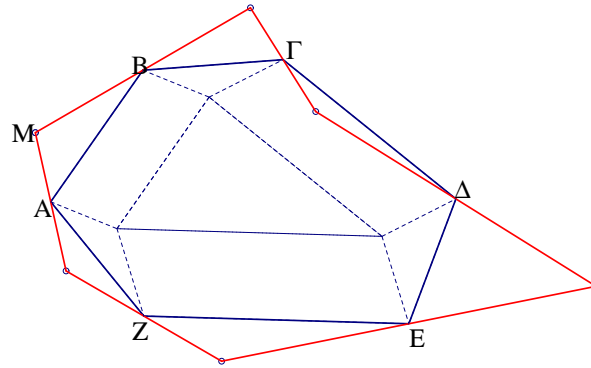
Όπως βλέπουμε στα σχήματα, η απόδειξη είναι προφανής, εφαρμόζοντας το θεώρημα που αναφέρει ότι: Το ευθύγραμμο τμήμα που ενώνει τα μέσα δύο πλευρών τριγώνου είναι παράλληλο και ίσο με το μισό της τρίτης. Η σύνθεση άρτιου πλήθους ημιστροφών είναι σύνθεση μεταφορών ή αλλιώς στροφή κατά γωνία που είναι άρτιο πολλαπλάσιο του 180° άρα μεταφορά, ενώ στην περίπτωση περιττού πλήθους έχουμε περιττό πολλαπλάσιο του 180° , άρα ημιστροφή.

Πρόταση 2.8 Δίνονται n σημεία στο επίπεδο. Η εικόνα ενός τυχαίου σημείου του επιπέδου μέσω διαδοχικών ημιστροφών περί τα σημεία O_1, O_2, \dots, O_n παραμένει ίδια και στην περίπτωση που οι ημιστροφές γίνουν με αντίστροφη σειρά, στην περίπτωση που το n είναι περιττός: $h_n \circ h_{n-1} \circ \dots \circ h_1 = h_1 \circ h_2 \circ \dots \circ h_n$ Ισχύει το ίδιο στην περίπτωση άρτιου n .

Απόδειξη:

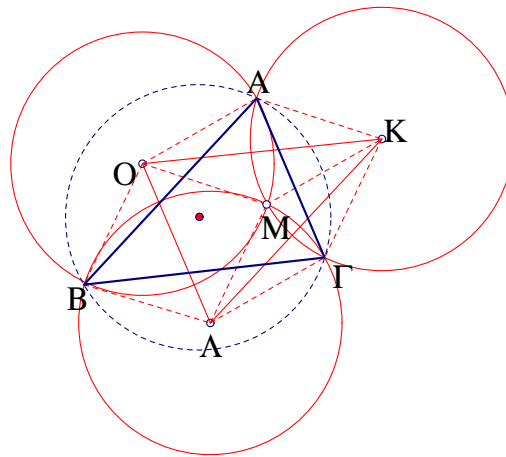
Η σύνθεση περιττού πλήθους ημιστροφών, είναι ημιστροφή. Η ημιστροφή όμως, όπως και

η ανάκλαση, είναι μετασχηματισμός που ταυτίζεται με τον αντίστροφό του, δηλαδή είναι **ενελικτικός** (*involutoric*). Έτσι έχουμε: $(h_n \circ h_{n-1} \circ \dots \circ h_1 \circ h_1)^{-1} = h_n \circ h_{n-1} \circ \dots \circ h_1 \iff (h_1)^{-1} \circ (h_2)^{-1} \circ \dots \circ (h_n)^{-1} = h_n \circ h_{n-1} \circ \dots \circ h_1 \iff h_1 \circ h_2 \circ \dots \circ h_n = h_n \circ h_{n-1} \circ \dots \circ h_1$ Στην περίπτωση που το n είναι άρτιος, η σύνθεση είναι μεταφορά, η οποία όμως δεν ταυτίζεται με τον αντίστροφο μετασχηματισμό, εκτός αν το διάνυσμα της είναι μηδενικό (ταυτοτικός μετασχηματισμός). Αυτό συμβαίνει όταν υπάρχει κλειστή πολυγωνική γραμμή με πλευρές παράλληλες και ίσες με τα διανύσματα $\overline{O_1O_2}, \overline{O_3O_4}, \dots, \overline{O_{n-1}O_n}$. Ένα τέτοιο παράδειγμα έχουμε στο εξάγωνο ΑΒΓΔΕΖ όπου που βλέπουμε στο σχήμα 48 [1].



Σχήμα 48: Το M απεικονίζεται στο M

Πρόβλημα 2.21 Δίνονται τρεις ίσοι κύκλοι κέντρων O, K και Λ και ακτίνας R , διερχόμενοι από κοινό σημείο M . Αν A, B και Γ τα υπόλοιπα σημεία τομής τους, ναδειχθεί ότι ο περιγεγραμμένος κύκλος του τριγώνου $AB\Gamma$ ισούται με τους άλλους τρεις.

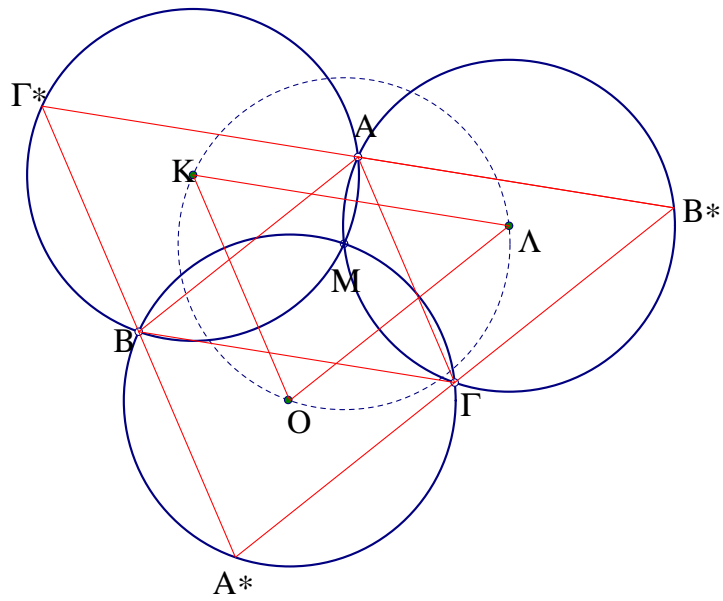


Σχήμα 49: Ίσοι κύκλοι

Απόδειξη:

Πρώτος τρόπος: Από τους ρόμβους $AOMK, K\Gamma\Lambda M$ και $OB\Lambda M$ (Σχήμα 49) βλέπουμε ότι το τρίγωνο $AB\Gamma$ προκύπτει από ημιστροφή του $OK\Lambda$ γύρω από κάποιο κέντρο, δηλαδή είναι ίσα. Το τρίγωνο $OK\Lambda$ έχει περιγεγραμμένο κύκλο κέντρου M και ακτίνας ίσης με MO , δηλαδή με του ίδιου μήκους με την R . Επομένως το ίδιο θα συμβαίνει και με το τρίγωνο $AB\Gamma$.

Δεύτερος τρόπος: Ο κάθε κύκλος προκύπτει από μεταφορά ενός από τους άλλους δύο κατά διάνυσμα μέτρου ίσου με την απόσταση των δύο κέντρων και κατάλληλη φορά (Σχήμα 50).



Σχήμα 50: Ίσοι κύκλοι

Οι εικόνες του κοινού σημείου A των κύκλων K και Λ μέσω μεταφορών διανυσμάτων $\overline{K\Lambda}$ και $\overline{\Lambda K}$ είναι τα σημεία B^* και Γ^* αντίστοιχα. Όμοια για τα σημεία B και Γ . Επομένως, τα τρίγωνα $AB\Gamma^*$, $A^*B\Gamma$ και $AB^*\Gamma$ είναι ίσα μεταξύ τους καθώς κάθε ένα από αυτά είναι εικόνα μέσω μεταφοράς του άλλου. Άρα το τρίγωνο $AB\Gamma$ είναι ίσο με τα τρία προηγούμενα.

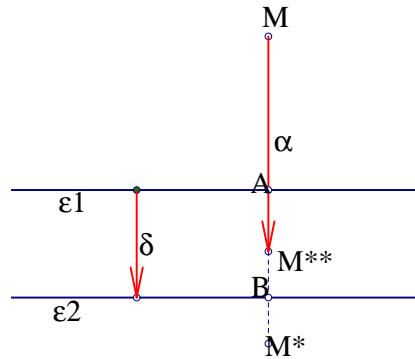
2.6 ΑΝΑΚΛΑΣΗ

Ορισμός 2.4 Ορίζουμε σαν *ανάκλαση ή συμμετρία ή κατοπτρισμό* F_ε προς ευθεία ε του επιπέδου που ονομάζουμε και *άξονα*, τον μετασχηματισμό εκείνο κατά τον οποίο κάθε σημείο M του επιπέδου απεικονίζεται στο M^* , έτσι ώστε η ευθεία ε να είναι μεσοκάθετος του ευθυγράμμου τμήματος MM^* .

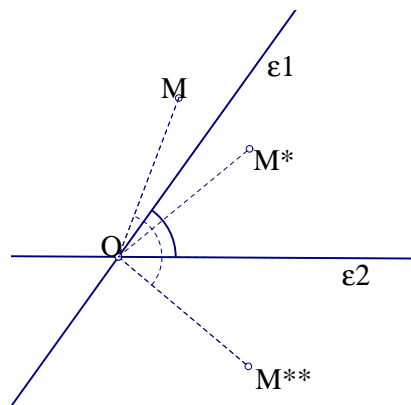
Προφανώς μία ανάκλαση αφήνει αμετάβλητα όλα τα σημεία του άξονα. Είναι εύκολο επίσης να παρατηρήσουμε ότι ο αντίστροφος μετασχηματισμός F_ε^{-1} είναι ίσος με τον F_ε καθώς $F_\varepsilon \circ F_\varepsilon = id$.

Πρόταση 2.9 (Σύνθεση δύο ανακλάσεων) Έστω $F = F_{\varepsilon_2} \circ F_{\varepsilon_1}$ η σύνθεση δύο ανακλάσεων προς ευθείες ε_1 και ε_2 . Διακρίνουμε δύο περιπτώσεις:

- α) Αν $\varepsilon_1 \parallel \varepsilon_2$ τότε η σύνθεση είναι μεταφορά T_α διανύσματος ίσο με το διπλάσιο της απόστασης δ των δύο αξόνων, με φορά από τον πρώτο στον δεύτερο.
 β) Αν ε_1 και ε_2 τέμνονται σε σημείο O , τότε έχουμε στροφή κέντρου O και γωνίας ω ίσης με το διπλάσιο της προσανατολισμένης γωνίας των ε_1 και ε_2 .



Σχήμα 51: Παράλληλοι άξονες

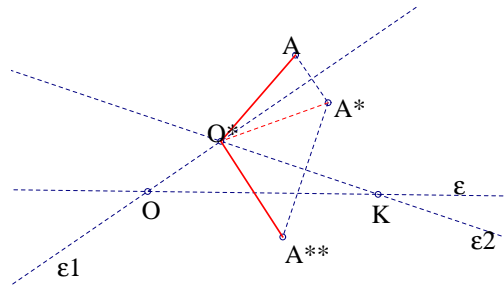


Σχήμα 52: Τεμνόμενοι άξονες

Απόδειξη:

$$\alpha) \overline{MM^{**}} = \overline{MM^*} + \overline{M^*M^{**}} = \overline{2AM^*} + \overline{2M^*B} = \overline{2AB}$$

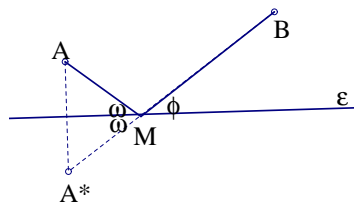
β) Η γωνία $\angle MOM^{**}$ είναι διπλάσια της γωνίας των δύο ευθειών, και με τον ίδιο προσανατολισμό. Όμοια εξετάζουμε τις περιπτώσεις που το M βρίσκεται σε άλλες θέσεις ως προς τις δύο ευθείες.



Σχήμα 53: Σύνθεση δύο στροφών

2.7 ΕΦΑΡΜΟΓΕΣ ΤΗΣ ΑΝΑΚΛΑΣΗΣ ΣΕ ΓΕΩΜΕΤΡΙΚΑ ΠΡΟΒΛΗΜΑΤΑ

Πρόβλημα 2.22 Έστω ευθεία ϵ και A, B δύο σημεία προς το ίδιο μέρος της ϵ . Να βρεθεί σημείο M της ευθείας, τέτοιο ώστε τα ευθύγραμμα τμήματα AM και BM να σχηματίζουν ίσες γωνίες με την ϵ .



Σχήμα 54: $\omega = \varphi$

Αν A^* είναι η εικόνα του A μέσω ανάκλασης στην ευθεία ϵ , το M είναι η τομή του AB με την ϵ (Σχήμα 54).

Πρόβλημα 2.23 Δίνεται ευθεία ϵ και δύο κύκλοι προς το ίδιο μέρος της ϵ . Να βρεθεί σημείο M της ϵ , τέτοιο ώστε ένα από τα εφαπτόμενα τμήματα από τα M προς τον πρώτο κύκλο και ένα προς τον δεύτερο, να σχηματίζουν ίσες γωνίες με την ϵ [1].

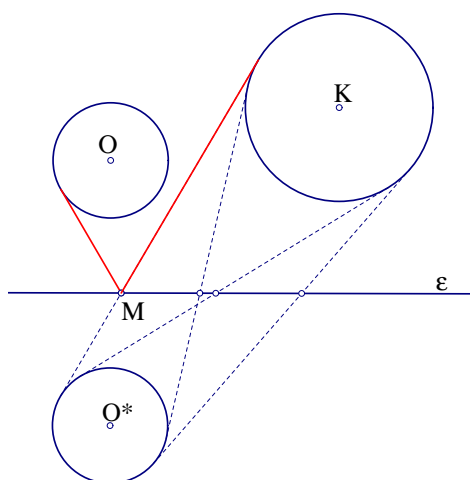
Απόδειξη:

Έστω (O^*, ρ) η εικόνα του κύκλου (O, ρ) μέσω ανάκλασης ως προς την ευθεία ϵ . Φέρνουμε τα κοινά εφαπτόμενα τμήματα του (O^*, ρ) με τον άλλο κύκλο (K, α) . Τα κοινά σημεία αυτών των τμημάτων με την ευθεία ϵ αποτελούν λύσεις για το πρόβλημα (Σχήμα 55).

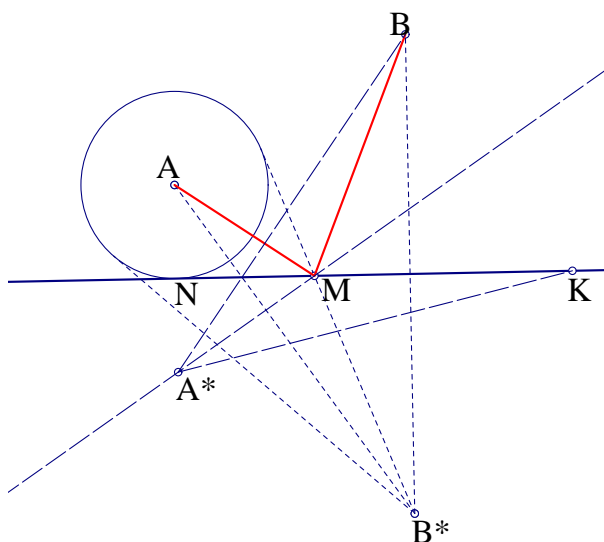
Πρόβλημα 2.24 Έστω ευθεία ϵ και A, B δύο σημεία προς το ίδιο μέρος της ϵ . Να βρεθεί σημείο M της ευθείας, τέτοιο ώστε τα ευθύγραμμα τμήματα AM και BM να σχηματίζουν γωνίες με την ϵ τέτοιες ώστε η μία να είναι διπλάσια της άλλης [1].

Απόδειξη:

α' τρόπος: Έστω A^* και B^* οι εικόνες των A και B μέσω ανάκλασης στην ευθεία ϵ . Προφανώς η ευθεία A^*M διχοτομεί την γωνία BMK όπου M είναι το ζητούμενο σημείο. Έτσι αν K είναι το συμμετρικό του B ως προς A^*M , αυτό βρίσκεται πάνω στην ϵ και $A^*K = A^*B$. Έτσι το K βρίσκεται σαν τομή του κύκλου κέντρου A^* και ακτίνας A^*B με την ϵ . Στην συνέχεια το M προκύπτει σαν τομή της μεσοκαθέτου του BK με την ϵ (Σχήμα 56). **β' τρόπος:** Έστω κύκλος κέντρου A εφαπτόμενος στην ϵ . Το M προκύπτει σαν τομή του εφαπτόμενου τμήματος από το B^* προς τον κύκλο [1].



Σχήμα 55: Εφαπτόμενα τμήματα



Σχήμα 56: Γωνία $BMK=2AMN$

Πρόβλημα 2.25 Έστω τρεις ευθείες συντρέχουσες και ένα σημείο A σε μία από αυτές. Κατασκευάστε τρίγωνο $AB\Gamma$, το οποίο έχει τις ευθείες αυτές για διχοτόμους.

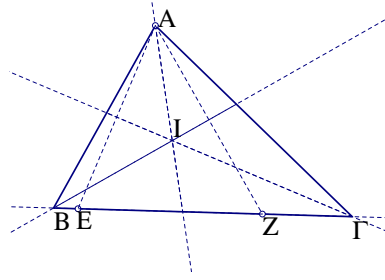
Απόδειξη:

Έστω Z και E τα συμμετρικά του A ως προς τις διχοτόμους των γωνιών B και Γ . Τα σημεία αυτά βρίσκονται πάνω στην $B\Gamma$. Βρίσκοντας τα σημεία αυτά, φέρνουμε την ευθεία ZE η οποία μας προσδιορίζει τα B και Γ στα σημεία όπου τέμνει τις άλλες δύο δοσμένες ευθείες (Σχήμα 57). Αν δύο από τις τρεις δοσμένες ευθείες είναι κάθετες μεταξύ τους, το πρόβλημα δεν έχει λύση [1].

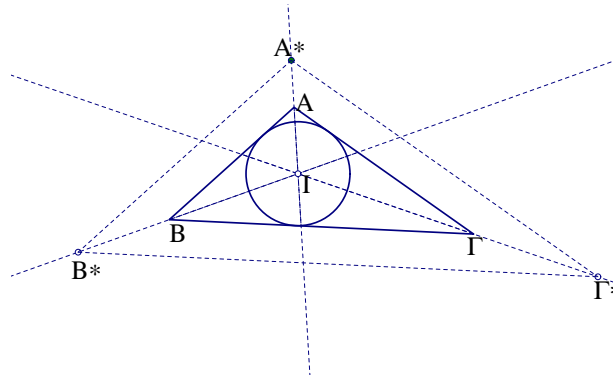
Πρόβλημα 2.26 Δίνεται κύκλος ς και τρεις ευθείες διερχόμενες από το κέντρο του. Να κατασκευαστεί τρίγωνο του οποίου οι κορυφές βρίσκονται πάνω σ'αυτές τις ευθείες και είναι περιγεγραμμένο στον δοσμένο κύκλο [1].

Απόδειξη:

Επιλέγουμε ένα τυχαίο σημείο A^* πάνω σε μία από τις δοθείσες ευθείες και κατασκευάζουμε με τον τρόπο του προηγούμενου προβλήματος, ένα τρίγωνο $A^*B^*\Gamma^*$ με κορυφές πάνω στις



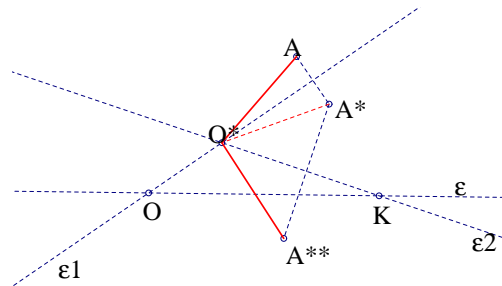
Σχήμα 57: E και Z είναι σημεία της BΓ



Σχήμα 58: Εγγεγραμμένος κύκλος

δοθείσες ευθείες. Στη συνέχεια φέρνουμε παράλληλες προς τις πλευρές αυτού του τριγώνου, που να εφάπτονται στον δοσμένο κύκλο (Σχήμα 58).

2.8 ΣΥΝΘΕΣΗ ΙΣΟΜΕΤΡΙΩΝ ΓΕΝΙΚΑ- ΚΑΘΟΛΙΚΟΤΗΤΑ ΑΝΑΚΛΑΣΕΩΝ



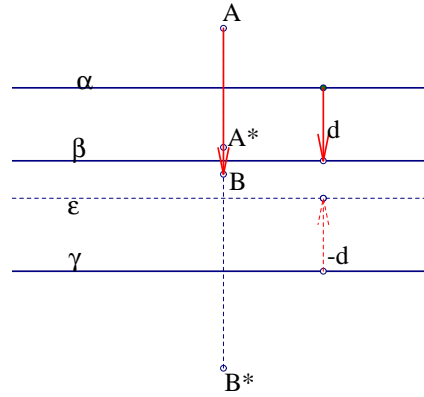
Σχήμα 59: $\alpha // \beta // \gamma$

Βλέπουμε ότι κάθε στροφή καθώς και κάθε μεταφορά, γράφονται σαν σύνθεση ανακλάσεων. Γενικότερα θα αποδείξουμε παρακάτω ότι κάθε ισομετρία του επιπέδου είναι σύνθεση όχι παραπάνω από τριών ανακλάσεων.

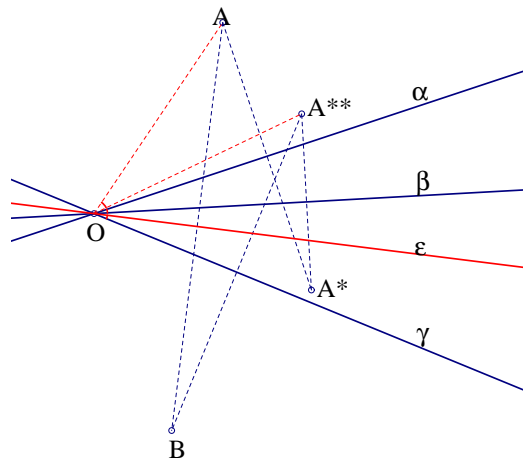
Με την βοήθεια της προηγούμενης πρότασης μπορούμε να δούμε τώρα πιο ξεκάθαρα την σύνθεση δύο στροφών με κέντρα O, K και γωνίες α, β αντίστοιχα. Αντικαθιστούμε την πρώτη με δύο ανακλάσεις ως προς τις OO* και OK και την δεύτερη επίσης με δύο ανακλάσεις ως προς τις ευθείες OK και O*K. Η σύνθεση τους είναι στροφή κέντρου O* και γωνίας διπλάσιας από αυτή που σχηματίζουν οι O*O και O*K (Σχήμα 59).

Ας δούμε όμως πρώτα τι συμβαίνει στην σύνθεση τριών ή γενικότερα n ανακλάσεων.

Πρόταση 2.10 (Σύνθεση τριών ανακλάσεων) Η σύνθεση τριών ανακλάσεων με παράλληλους άξονες $\alpha//\beta//\gamma$ ή με άξονες που συντρέχουν σε σημείο O είναι ανάκλαση σε άξονα παράλληλο με τους τρεις ή που περνά από το O αντίστοιχα.



Σχήμα 60: $\alpha//\beta//\gamma$

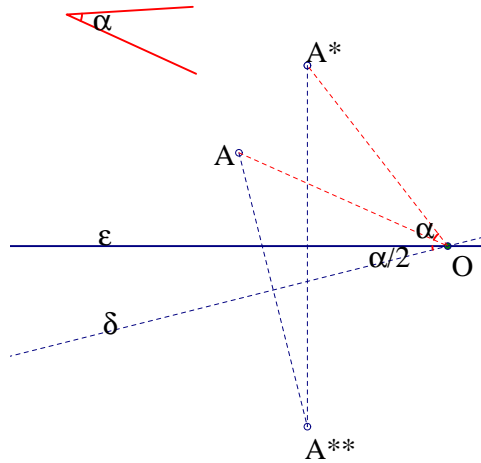


Σχήμα 61: Συντρέχουσες ευθείες

Απόδειξη:

Έστω ότι έχουμε τρεις ευθείες παράλληλες: $\alpha//\beta//\gamma$ (Σχήμα 60). Η σύνθεση των δύο πρώτων ανακλάσεων είναι όπως βλέπουμε μεταφορά κατά διάνυσμα $\overline{AB} = 2\vec{d}$. Η μεταφορά αυτή ισοδυναμεί με σύνθεση δύο ανακλάσεων ως προς ευθείες $\varepsilon//\gamma$, όπου η ε είναι μεταφορά της γ κατά διάνυσμα ίσο με $-\vec{d}$. Έτσι τελικά έχουμε $F = F_\gamma \circ F_\beta \circ F_\alpha = F_\gamma \circ F_\gamma \circ F_\varepsilon = F_\varepsilon$ δηλαδή, ανάκλαση ως προς ε . Στην περίπτωση συντρέχουσών ευθειών (Σχήμα 61), η σύνθεση ισοδυναμεί με εκείνη στροφής περί το O κατά γωνία ίση με την γωνία των ευθειών α και β , με ανάκλαση ως προς άξονα γ . Επομένως έχουμε ανάκλαση ως προς ευθεία ε σύμφωνα με την επόμενη πρόταση.

Πρόταση 2.11 (Σύνθεση στροφής με ανάκλαση) Η σύνθεση στροφής R_o κέντρου O κατά γωνία α με ανάκλαση F_ε ως προς ευθεία ε διερχόμενη από το O , είναι ανάκλαση ως προς ευθεία δ που προκύπτει από στροφή της ε περί το O κατά γωνία αντίθετη και ίση με το μισό της α .



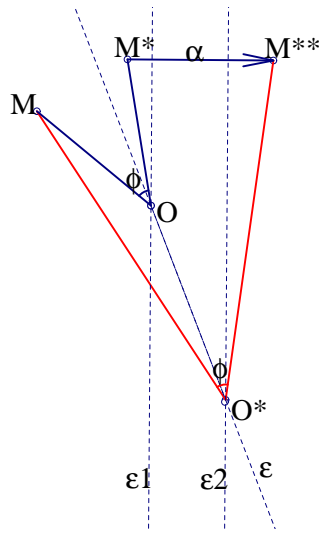
Σχήμα 62: Στροφή και ανάκλαση

Απόδειξη:

Μπορούμε να αντικαταστήσουμε την στροφή με δύο ανακλάσεις ως προς ευθείες των οποίων η γωνία ισούται με $\alpha/2$. Επιλέγουμε την πρώτη, έστω δ να είναι στροφή της ε με κέντρο O και γωνία $-\alpha/2$, οπότε η δεύτερη είναι η ίδια η ε . Δηλαδή $R_o = F_\varepsilon \circ F_\delta$. Επομένως έχουμε:

$$F_\varepsilon \circ R_o = F_\varepsilon \circ F_\varepsilon \circ F_\delta = F_\delta$$

Πρόταση 2.12 (Σύνθεση στροφής με μεταφορά) Η σύνθεση στροφής R_o και γωνίας φ με μεταφορά T_α διανύσματος α , είναι στροφή ίδιας γωνίας περί κάποιο κέντρο O^* .



Σχήμα 63: Στροφή και μεταφορά

Απόδειξη:

Αντικαθιστούμε την μεταφορά με την σύνθεση δύο ανακλάσεων σε παράλληλες ευθείες $\varepsilon_1/\varepsilon_2$, με απόσταση $\alpha/2$ μεταξύ τους, επιλέγοντας την ε_1 να περνά από το O :

$$T_\alpha = F_{\varepsilon_2} \circ F_{\varepsilon_1}$$

Την στροφή την αντικαθιστούμε με την σύνθεση δύο ανακλάσεων στις ε (που περνά από το O) και ε_2 , ώστε να σχηματίζουν γωνία ίση με $\varphi/2$:

$$R_o = F_{\varepsilon_1} \circ F_\varepsilon$$

Έτσι έχουμε:

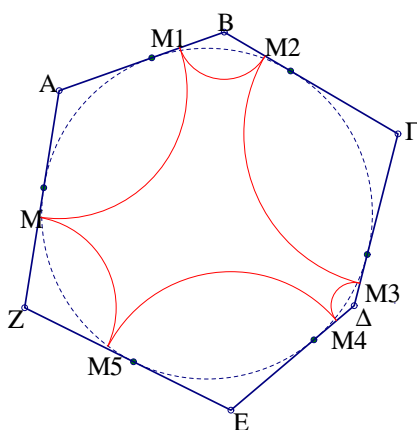
$$T_\alpha \circ R_o = F_{\varepsilon_2} \circ F_{\varepsilon_1} \circ F_{\varepsilon_1} \circ F_\varepsilon = F_{\varepsilon_2} \circ F_\varepsilon = R_{o^*}$$

Δηλαδή καταλήξαμε στη σύνθεση δύο ανακλάσεων που ισοδυναμούν με στροφή γωνίας φ περί το σημείο O^* , τομή των ευθειών ε και ε_2 (Σχήμα 63).

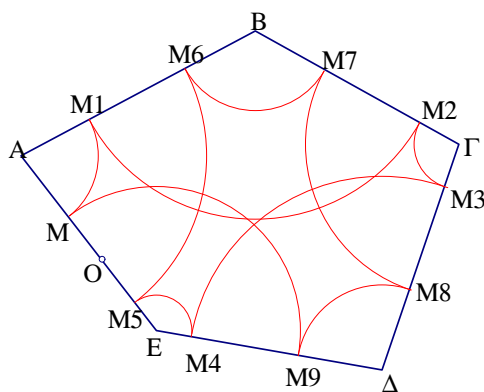
2.9 ΕΦΑΡΜΟΓΕΣ ΤΩΝ ΙΣΟΜΕΤΡΙΩΝ ΣΕ ΓΕΩΜΕΤΡΙΚΑ ΠΡΟΒΛΗΜΑΤΑ

Πρόβλημα 2.27 α) Δίνεται n -γώνο με άρτιο πλήθος πλευρών περιγεγραμμένο (ή περιγράψιμο) σε κύκλο. Ναδειχθεί ότι για κάθε σημείο M μιάς πλευράς του υπάρχει κλειστή διαδρομή (που αρχίζει και τελειώνει στο M) αποτελούμενη από n τόξα κέντρων στις κορυφές του n -γώνου και με άκρα πάνω στις αντίστοιχες διαδοχικές πλευρές (Σχήμα 64 για $n=6$). Δηλαδή το σημείο M απεικονίζεται στον εαυτό του μέσω n διαδοχικών στροφών στις κορυφές του n -γώνου με γωνίες τις αντίστοιχες σε κάθε κορυφή.

β) Δίνεται τυχαίο n -γώνο για n περιττό. Ναδειχθεί εδώ ότι για κάθε σημείο M μιάς πλευράς του υπάρχει κλειστή διαδρομή από το M στο M που αποτελείται γενικά από $2n$ τόξα (σε κάποια ειδική περίπτωση μας φτάνουν n τόξα). Δηλαδή εδώ το M ταυτίζεται με τον εαυτό του μετά από $2n$ διαδοχικές στροφές στις κορυφές του n -γώνου, περνώντας 2 φορές από κάθε μία (Σχήμα 65 για $n=5$).



Σχήμα 64: Κλειστή γραμμή n τόξων



Σχήμα 65: Κλειστή γραμμή $2n$ τόξων

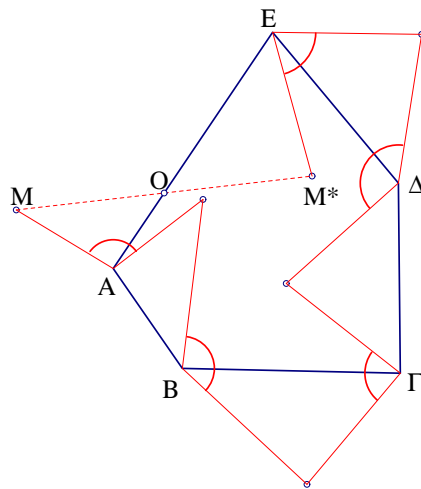
Απόδειξη:

α) Η σύνθεση n στροφών συνολικής γωνίας πολλαπλάσιου των 360° , καθώς το n -γώνο έχει άρτιο πλήθος πλευρών, είναι μεταφορά ή ταυτοτική. Ο ίδιος όμως μετασχηματισμός προκύπτει μετά από σύνθεση ανακλάσεων στις διχοτόμους των γωνιών του n -γώνου. Καθώς όμως οι διχοτόμοι συντρέχουν στο κέντρο του εγγεγραμμένου στο πολύγωνο κύκλου, η σύνθεση αυτή είναι στροφή με κέντρο το σημείο αυτό. Επομένως έχουμε ένα τουλάχιστον σταθερό σημείο, άρα την ταυτοτική απεικόνιση.

β) Εδώ αρχικά έχουμε σύνθεση n στροφών συνολικής γωνίας πολλαπλάσιου των 180° , γιατί το n είναι περιττός. Έτσι γενικά προκύπτει ημιστροφή ως προς κάποιο σημείο O της πλευράς που ξεκινήσαμε. Σαν σύνθεση όμως περιττού πλήθους ανακλάσεων στις διχοτόμους των γωνιών του n -γώνου, έχουμε ολισθανάκλαση ή ανάκλαση. Το σημείο O όμως είναι σταθερό και στους δύο μετασχηματισμούς των προηγούμενων συνθέσεων. Επομένως έχουμε ανάκλαση ως προς άξονα κάθετο στο M στην πλευρά του πολυγώνου. Αν επαναλάβουμε την ίδια σύνθεση, προκύπτει σύνθεση ανάκλασης με τον εαυτό της, άρα η ταυτοτική απεικόνιση [1].

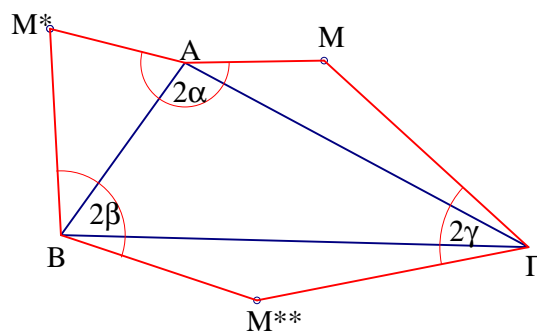
Από τα προηγούμενα προκύπτει ότι:

Πρόταση 2.13 Η σύνθεση στροφών με κέντρα τις κορυφές ενός n -γώνου με περιττό n και γωνίες τις αντίστοιχες σε κάθε κορυφή, είναι ημιστροφή με κέντρο σημείο μιάς πλευράς (ή της προέκτασής της) του πολυγώνου (Σχήμα 66).



Σχήμα 66: Σύνθεση n στροφών

Πρόβλημα 2.28 Ναδειχθεί ότι η σύνθεση των στροφών $R_\gamma \circ R_\beta \circ R_\alpha$ με κέντρα τις αντίστοιχες κορυφές τριγώνου $AB\Gamma$ και γωνίες στροφής διπλάσιες εκείνων του τριγώνου και με φορά αντίθετη της φοράς $AB\Gamma$ (από Γ προς B , από A προς Γ και από B προς A) είναι η ταυτοτική απεικόνιση. Ισχύει αντίστοιχη πρόταση για τυχαίο n -γωνο;



Σχήμα 67: Το M απεικονίζεται στον εαυτό του

Απόδειξη:

Έστω τυχαίο σημείο M του επιπέδου και M^* και M^{**} οι εικόνες του μέσω των πρώτων δύο

στροφών. Θα δείξουμε ότι η σύνθεση των δύο αυτών με την τρίτη στροφή απεικονίζει τελικά το σημείο M στον εαυτό του (Σχήμα 67). Η κάθε μία από τις παραπάνω στροφές, ισοδυναμεί με σύνθεση δύο ανακλάσεων στις αντίστοιχες πλευρές του τριγώνου. Δηλαδή:

$$R_\alpha = F_\gamma \circ F_\beta$$

$$R_\beta = F_\alpha \circ F_\gamma$$

και

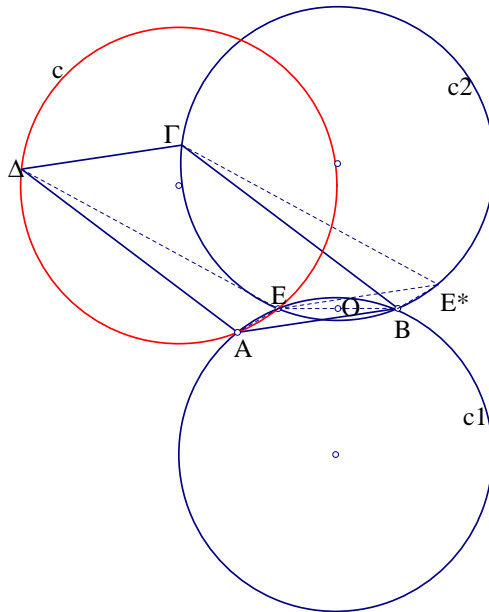
$$R_\gamma = F_\beta \circ F_\alpha$$

Έτσι έχουμε:

$$R_\gamma \circ R_\beta \circ R_\alpha = (F_\beta \circ F_\alpha) \circ (F_\alpha \circ F_\gamma) \circ (F_\gamma \circ F_\beta) = F_\beta \circ F_\beta = id$$

όπου F_α , F_β και F_γ είναι οι αντίστοιχες ανακλάσεις στις πλευρές του $AB\Gamma$. Ομοίως αποδεικνύεται η ίδια πρόταση για τυχαίο n -γωνο [1].

Πρόβλημα 2.29 Δίνεται παραλληλόγραμμο $AB\Gamma\Delta$ και δύο ίσοι κύκλοι c_1 και c_2 που διέρχονται από τις κορυφές A, B και B, Γ αντίστοιχα. Αν E είναι το δεύτερο κοινό σημείο των παραπάνω κύκλων, ναδειχθεί ότι ο κύκλος που διέρχεται από τα σημεία E, A και Δ , είναι ίσος με τους δύο πρώτους.



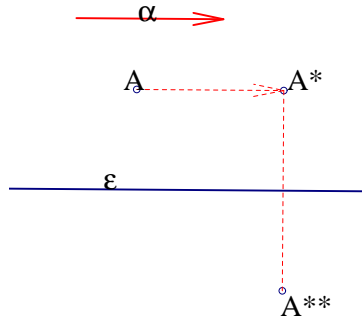
Σχήμα 68: Τρεις ίσοι κύκλοι

Απόδειξη:

Το μέσον O της κοινής χορδής των δύο δεδομένων κύκλων αποτελεί κέντρο συμμετρίας που απεικονίζει τον c_1 στον c_2 . Αν E^* είναι η εικόνα του A μέσω αυτού του μετασχηματισμού, έχουμε ότι τα EE^* , AB και $\Delta\Gamma$ είναι παράλληλα και ίσα μεταξύ τους. Άρα ο περιγεγραμμένος κύκλος του τριγώνου EAD είναι μεταφορά του c_2 κατά διάνυσμα ίσο με $\overline{\Gamma\Delta}$, άρα ίσος με αυτόν (Σχήμα 68).

2.10 ΟΛΙΣΘΑΝΑΚΛΑΣΗ

Ορισμός 2.5 Δίνεται ευθεία ε και διάνυσμα α παράλληλο με αυτήν. Η σύνθεση $F_\varepsilon \circ T_\alpha$ της μεταφοράς T_α με την ανάκλαση F_ε ως προς την ευθεία, ονομάζεται ολισθανάκλαση (Σχήμα 69).



Σχήμα 69: Ολισθανάκλαση

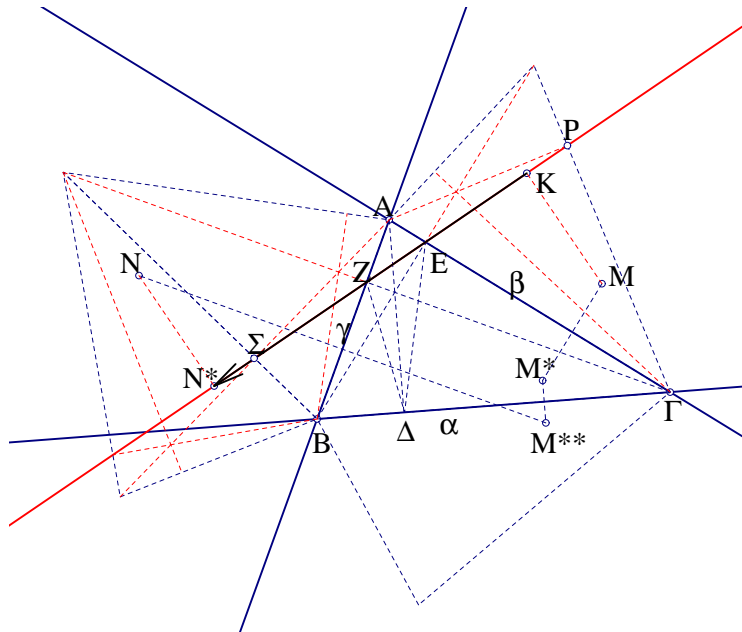
Προφανώς ο μετασχηματισμός αυτός, γράφεται σαν σύνθεση τριών ανακλάσεων. Είναι εύκολο επίσης να δούμε ότι η παραπάνω σύνθεση παραμένει ίδια και αν αλλάξουμε την σειρά των μετασχηματισμών που την απαρτίζουν

$$F_\varepsilon \circ T_\alpha = T_\alpha \circ F_\varepsilon$$

. Επίσης, η σύνθεση δύο ολισθανακλάσεων είναι μεταφορά διπλάσιου διανύσματος:

$$(F_\varepsilon \circ T_\alpha) \circ (F_\varepsilon \circ T_\alpha) = (T_\alpha \circ F_\varepsilon) \circ (F_\varepsilon \circ T_\alpha) = T_\alpha \circ T_\alpha = T_{2\alpha}$$

Πρόταση 2.14 (Σύνθεση τριών ανακλάσεων σε πλευρές τριγώνου) Η σύνθεση τριών ανακλάσεων σε άξονες ανα δύο τεμνόμενους σε σημεία A,B και Γ, είναι μία ολισθανάκλαση. Η ολισθανάκλαση αυτή έχει άξονα μία πλευρά του ποδικού τριγώνου του ABΓ και διάνυσμα μεταφοράς ίσου με την περίμετρο του ποδικού τριγώνου.



Σχήμα 70: Ανακλάσεις σε πλευρές τριγώνου

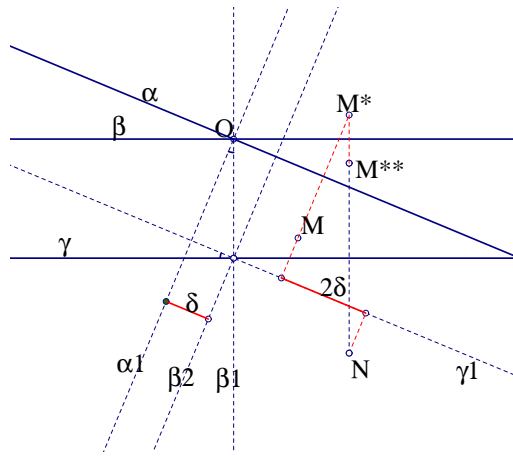
Απόδειξη:

Έστω M ένα τυχαίο σημείο του επιπέδου και M*, M** και N οι εικόνες του μέσω των διαδοχικών ανακλάσεων στις β,α και γ. Στο σχήμα βλέπουμε ανακλάσεις του τριγώνου ABΓ στις πλευρές του. Από την ιδιότητα του ποδικού τριγώνου να σχηματίζουν οι πλευρές του ίσες

γωνίες στις πλευρές του $AB\Gamma$, προκύπτει ότι η ευθεία ZE περνά από τα ίχνη των υψών και των συμμετρικών τριγώνων. Παρατηρούμε (Σχήμα 70) ότι $KN^* = P\Sigma = PE + EZ + Z\Sigma = \Delta E + EZ + Z\Delta$ και $MK = NN^*$ λόγω των ανακλάσεων του $AB\Gamma$.

Μένει να δούμε την περίπτωση κατά την οποία έχουμε ανάκλαση σε ζεύγος παράλληλων και μία τέμνουσα αυτές ευθεία.

Πρόταση 2.15 (Σύνθεση τριών ανακλάσεων σε δύο παράλληλες και μία τέμνουσα) Η σύνθεση τριών ανακλάσεων σε τρεις άξονες α, β και γ από τους οποίους οι δύο είναι παράλληλοι και ο τρίτος τους τέμνει, είναι μία ολισθανάκλαση.



Σχήμα 71: Ολισθανάκλαση

Απόδειξη:

Έστω α και β τεμνόμενες στο O και $\gamma // \beta$. Έστω M ένα τυχαίο σημείο και M^*, M^{**} και N οι εικόνες μέσω διαδοχικών ανακλάσεων $F_\alpha(M) = M^*, F_\beta(M^*) = M^{**}, F_\gamma(M^{**}) = N$ στις α, β και γ αντίστοιχα (Σχήμα 71). Δηλαδή έχουμε:

$$F_\gamma \circ F_\beta \circ F_\alpha(M) = N$$

Η σύνθεση $F_\beta \circ F_\alpha$ ισοδυναμεί με $F_{\beta_1} \circ F_{\alpha_1}$, όπου οι ευθείες α_1 και β_1 διέρχονται από το O , σχηματίζουν γωνία ίδια με αυτή των α και β και $\beta_1 \perp \gamma$. Έτσι έχουμε:

$$F_\gamma \circ F_\beta \circ F_\alpha = F_\gamma \circ F_{\beta_1} \circ F_{\alpha_1}$$

Αντικαθιστούμε τώρα τη σύνθεση $F_\gamma \circ F_{\beta_1}$ με την $F_{\gamma_1} \circ F_{\beta_2}$, όπου οι ευθείες β_2 και γ_1 είναι κάθετες μεταξύ τους και $\beta_2 \parallel \alpha_1$. Έτσι έχουμε:

$$F_\gamma \circ F_{\beta_1} \circ F_{\alpha_1} = F_{\gamma_1} \circ F_{\beta_2} \circ F_{\alpha_1}$$

Αλλά η σύνθεση $F_{\beta_2} \circ F_{\alpha_1}$ είναι μεταφορά διανύσματος 2δ όπου δ η απόσταση των παράλληλων $\beta_2 \parallel \alpha_1$, οπότε καταλήγουμε σε ολισθανάκλαση με άξονα την γ . Όμοια εργαζόμαστε σε όλες τις υπόλοιπες περιπτώσεις ανάκλασης σε τρεις ευθείες που δεν είναι όλες παράλληλες και δεν συντρέχουν.

Γενικά ισχύει η ακόλουθη πρόταση.

Πρόταση 2.16 (Σύνθεση ανακλάσεων γενικά) Η σύνθεση άρτιου πλήθους ανακλάσεων είναι στροφή ή μεταφορά, ενώ για περιττό πλήθος έχουμε ανάκλαση ή ολισθανάκλαση.

Απόδειξη:

Πράγματι, ανα δύο οι ανακλάσεις αντικαθίστανται από στροφή ή μεταφορά. Αλλά η σύνθεση στροφών ή μεταφορών είναι πάλι στροφή ή μεταφορά. Αν τώρα έχουμε μία επί πλέον ανάκλαση, η σύνθεση ισοδυναμεί με στροφή ή μεταφορά και ανάκλαση, δηλαδή τελικά σύνθεση τριών ανακλάσεων.

Πρόταση 2.17 Έστω F_1, F_2, F_3 ανακλάσεις ως προς τρεις συντρέχουσες ευθείες. Αν το σημείο A ανακλασθεί διαδοχικά στις τρεις και κατόπιν στις ίδιες με την ίδια πάλι σειρά, η τελική εικόνα είναι πάλι το A :

$$F_3 \circ F_2 \circ F_1 \circ F_3 \circ F_2 \circ F_1 = id$$

. Γενικά ισχύει το ίδιο για περιττό πλήθος συντρέχουσών ευθειών. Για ή συντρέχουσες ευθείες δεν ισχύει το ίδιο, καθώς θα έχουμε σύνθεση δύο ίσων ολισθανακλάσεων, δηλαδή μεταφορά.

$$F_3 \circ F_2 \circ F_1 = F_3 \circ F_2 \circ F_1$$

Γενικά, για περιττό πλήθος συντρέχουσών ευθειών, η σύνθεση δεν αλλάζει.

Για ανακλάσεις σε τέσσερις συντρέχουσες ευθείες έχουμε:

$$F_4 \circ F_3 \circ F_2 \circ F_1 = F_2 \circ F_1 \circ F_4 \circ F_3$$

για ανακλάσεις σε τέσσερις συντρέχουσες ευθείες.

Για τρεις τυχαίες ευθείες στο επίπεδο, ισχύει:

$$(F_3 \circ F_2 \circ F_1) \circ (F_3 \circ F_2 \circ F_1) \circ (F_1 \circ F_3 \circ F_2) \circ (F_1 \circ F_3 \circ F_2) = (F_1 \circ F_3 \circ F_2) \circ (F_1 \circ F_3 \circ F_2) \circ (F_3 \circ F_2 \circ F_1) \circ (F_3 \circ F_2 \circ F_1)$$

Απόδειξη:

Η ανάκλαση όπως και η ημιστροφή είναι ενελλικτικός μετασχηματισμός, δηλαδή ισούται με τον αντίστροφο του. Επίσης η σύνθεση περιττού πλήθους ανακλάσεων σε συντρέχουσες ευθείες είναι ανάκλαση. Η απόδειξη είναι όμοια με εκείνη της αντίστοιχης πρότασης για ημιστροφές. Για τέσσερις συντρέχουσες ευθείες έχουμε ότι η σύνθεση των 4 ανακλάσεων είναι σύνθεση δύο στροφών (η σύνθεση δύο ανακλάσεων είναι στροφή ως προς το σημείο τομής των αξόνων τους). Εδώ και τα δύο ζευγάρια ευθειών έχουν κοινό σημείο τομής, άρα η σύνθεση δεν αλλάζει αν αλλάξουμε τη σειρά των στροφών. Για τρεις τυχαίες (όχι απαραίτητα συντρέχουσες) ευθείες, η σύνθεση των τριών ανακλάσεων είναι ανάκλαση ή ολισθανάκλαση. Η σύνθεση όμως μίας ολισθανάκλασης με τον εαυτό της είναι μία μεταφορά (στην περίπτωση ανάκλασης είναι ταυτοτική). Έτσι η τελευταία αλλαγή στη σειρά των τριάδων ανακλάσεων είναι στην ουσία εναλλαγή δύο μεταφορών.

Πρόβλημα 2.30 Δίνεται τρίγωνο $AB\Gamma$ και Δ, E και Z τρία σημεία στις πλευρές του $B\Gamma, A\Gamma$ και AB αντίστοιχα. Έστω ακόμη $A\Delta^*, BE^*$ και ΓZ^* οι εικόνες των ανακλάσεων των $A\Delta, BE$ και ΓZ στις διχοτόμους των γωνιών A, B και Γ αντίστοιχα. Ναδειχθεί ότι αν τα τρία πρότυπα συντρέχουν (Σχήμα 72, τό ίδιο συμβαίνει και με τις εικόνες τους. Αν πάλι τα πρότυπα είναι παράλληλα, το ίδιο επίσης ισχύει για τις εικόνες τους [1]).

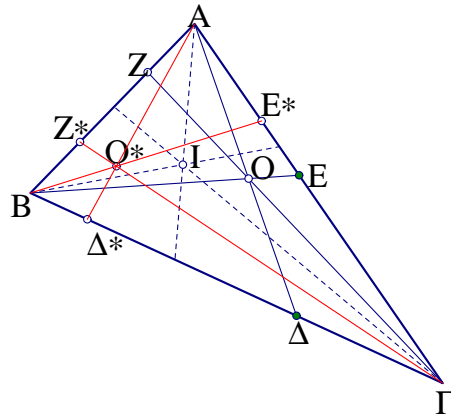
Απόδειξη:

Σύμφωνα με την πρόταση 2.17, η σύνθεση τριών ανακλάσεων, αν επαναληφθεί με την ίδια σειρά, μας δίνει την ταυτοτική απεικόνιση, αν και μόνο αν οι τρεις άξονες συντρέχουν ή είναι παράλληλες. Δηλαδή αν F_1, F_2 και F_3 είναι οι ανακλάσεις στις $A\Delta, BE$ και ΓZ αντίστοιχα, τότε έχουμε:

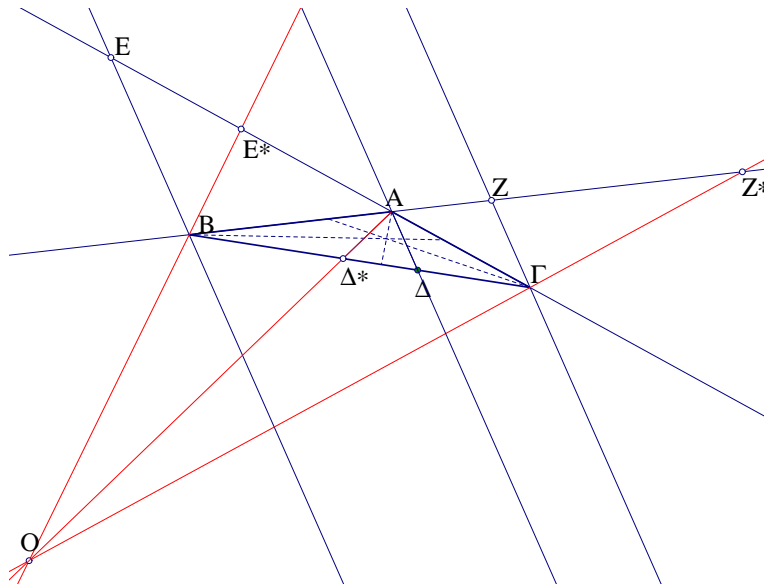
$$(F_3 \circ F_2 \circ F_1) \circ (F_3 \circ F_2 \circ F_1) = id$$

Αρκεί να αποδείξουμε ότι ισχύει το ίδιο και για ανακλάσεις F_{1*}, F_{2*} και F_{3*} στις $A\Delta^*, BE^*$ και ΓZ^* αντίστοιχα. Παρατηρούμε ότι η σύνθεση των ανακλάσεων διαδοχικά στις $AB, A\Delta$ και $A\Gamma$ ισούται με την ανάκλαση στην $A\Delta^*$. Αυτό ισχύει γιατί η γωνία των δύο πρώτων ισούται με την γωνία των $A\Delta^*$ και $A\Gamma^*$, άρα η σύνθεση τους (που είναι στροφή κέντρου A και γωνίας ίσης με την διπλάσια της γωνίας των δύο αξόνων) ισούται με την σύνθεση των ανακλάσεων στους άξονες $A\Delta^*$ και $A\Gamma$ (Σχήμα 74). Λαμβάνοντας υπ' όψιν και το γεγονός ότι η σύνθεση δύο ίσων ανακλάσεων είναι ταυτοτική, έχουμε: (Με $F_\alpha, (F_\beta$ και F_γ συμβολίζουμε τις ανακλάσεις στις πλευρές α, β και γ του $AB\Gamma$ αντίστοιχα)

$$F_\beta \circ (F_1 \circ F_\gamma) = F_\beta \circ (F_\beta \circ F_{1*}) = F_{1*}$$



Σχήμα 72: Ανάκλαση συντρεχουσών



Σχήμα 73: Ανάκλαση παραλλήλων

και ομοίως προκύπτουν οι ισότητες:

$$F_\gamma \circ (F_2 \circ F_\alpha) = F_\gamma \circ (F_\gamma \circ F_{2*}) = F_{2*}$$

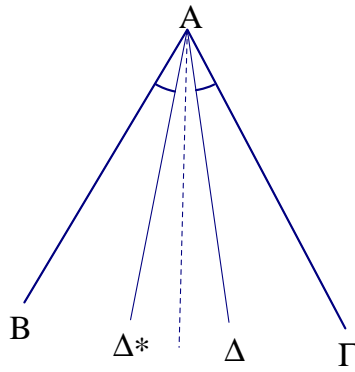
$$F_\alpha \circ (F_3 \circ F_\beta) = F_\alpha \circ (F_\alpha \circ F_{3*}) = F_{3*}$$

Επομένως έχουμε:

$$\begin{aligned} F_{3*} \circ F_{2*} \circ F_{1*} &= F_\beta \circ F_1 \circ F_\gamma \circ F_\gamma \circ F_2 \circ F_\alpha \circ F_\alpha \circ F_3 \circ F_\beta = F_\beta \circ F_1 \circ F_2 \circ F_3 \circ F_\beta \Rightarrow \\ \Rightarrow (F_{3*} \circ F_{2*} \circ F_{1*}) \circ (F_{3*} \circ F_{2*} \circ F_{1*}) &= (F_\beta \circ F_1 \circ F_2 \circ F_3 \circ F_\beta) \circ (F_\beta \circ F_1 \circ F_2 \circ F_3 \circ F_\beta) = \\ &= F_\beta \circ (F_1 \circ F_2 \circ F_3) \circ (F_1 \circ F_2 \circ F_3) \circ F_\beta = F_\beta \circ F_\beta = id \end{aligned}$$

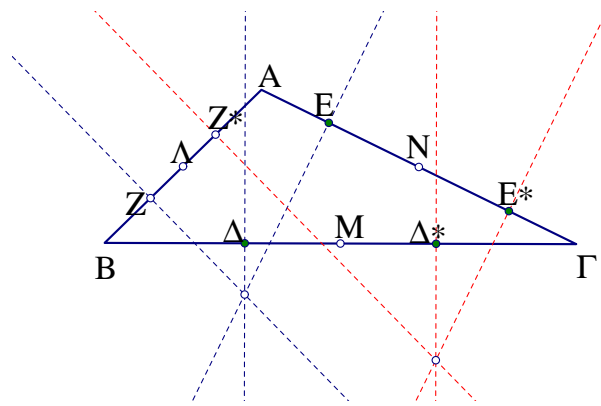
(Καθώς $(F_1 \circ F_2 \circ F_3) \circ (F_1 \circ F_2 \circ F_3) = id$). Έτσι αποδείξαμε το ζητούμενο. Αν οι $A\Delta$, BE και ΓZ είναι παράλληλες, με την ίδια διαδικασία αποδεικνύουμε ότι οι $A\Delta^*$, BE^* και ΓZ^* συντρέχουν (Σχήμα 73).

Πρόβλημα 2.31 Δίνεται τρίγωνο $AB\Gamma$ και Δ , E και Z τρία σημεία στις πλευρές του $B\Gamma$, AG και AB αντίστοιχα. Έστω ακόμη Δ^* , E^* και Z^* τα συμμετρικά των Δ , E και Z αντίστοιχα



Σχήμα 74: Συμμετρικοί άξονες

ως προς τα μέσα των τριών πλευρών του τριγώνου (Σχήμα 75). Ναδειχθεί ότι αν οι κάθετες προς τις αντιστοιχες πλευρές στα σημεία Δ, Ε και Ζ συντρέχουν, το ίδιο συμβαίνει και με τις κάθετες στα σημεία Δ*, Ε* και Ζ* [1].



Σχήμα 75: Συμμετρικές ως προς τα μέσα

Απόδειξη:

Έστω α, β και γ οι πλευρές του ΑΒΓ και δ, ε, ζ, δ*, ε*, ζ* οι κάθετες στα αντίστοιχα σημεία Δ, Ε, Ζ, Δ*, Ε*, Ζ* (Σχήμα 75). Η ανάκλαση ως προς δ* ισούται με την σύνθεση των ανακλάσεων στις χ, δ και ψ (Σχήμα 76):

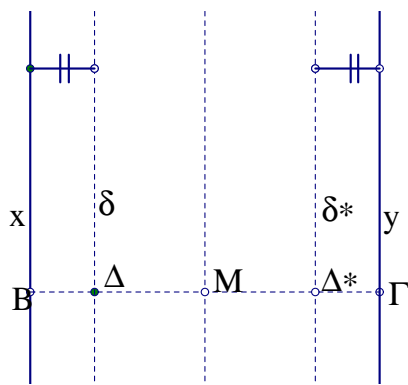
$$F_{\delta^*} \circ (F_{\delta} \circ F_{\chi}) = F_{\delta^*} \circ (F_{\delta} \circ F_{\psi}) = F_{\delta^*}$$

Άρα

$$F_{\delta^*} = F_{\alpha} \circ h_{\beta} \circ F_{\delta} \circ h_{\beta} \circ F_{\alpha}$$

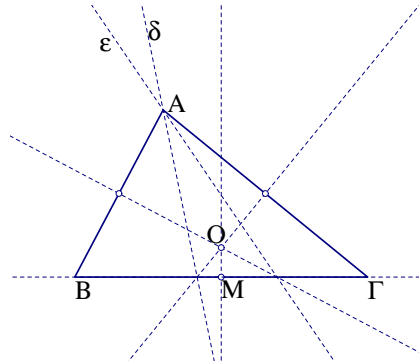
καθώς οι ανακλάσεις στις χ και ψ ισοδυναμούν με συνθέσεις της ανάκλασης στην α με τις αντίστοιχες ημιστροφές στα Β και Γ αντίστοιχα: $F_{\chi} = h_{\beta} \circ F_{\alpha}$ και $F_{\psi} = h_{\gamma} \circ F_{\alpha}$. Κάνοντας το ίδιο και με τις ανακλάσεις στις ε* και ζ*, παίρνουμε σαν αποτέλεσμα (λαμβάνοντας πάντα υπ'όψιν ότι η σύνθεση δύο ίσων ημιστροφών ή ανακλάσεων είναι ταυτοτική) ότι:

$$(F_{\delta^*} \circ F_{\epsilon^*} \circ F_{\zeta^*}) \circ (F_{\delta} \circ F_{\epsilon} \circ F_{\zeta}) = id$$



Σχήμα 76: Ανακλάσεις σε παράλληλες

Πρόβλημα 2.32 Έστω τρεις συντρέχουσες ευθείες και ένα σημείο M μιάς από αυτές. Να βρεθεί τρίγωνο $AB\Gamma$ στο οποίο το M να είναι μέσο της πλευράς $B\Gamma$ και οι τρεις ευθείες να είναι μεσοκάθετοι των πλευρών του τριγώνου [1].



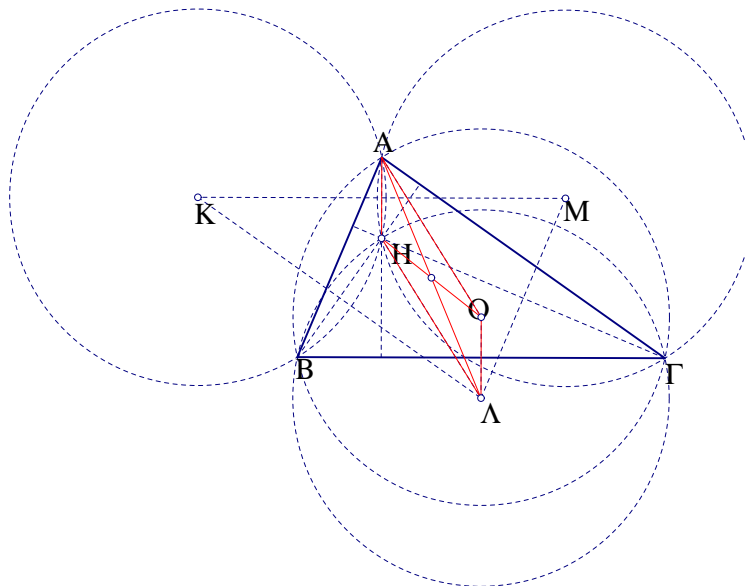
Σχήμα 77: Τρεις μεσοκάθετοι

Απόδειξη:

Προφανώς, η ευθεία $B\Gamma$ μας είναι γνωστή. Επομένως η κορυφή A προσδιορίζεται σαν τομή των ευθεών ϵ και δ , συμμετρικών της $B\Gamma$ ως προς τις άλλες δύο δοθείσες ευθείες (Σχήμα 77).

Πρόβλημα 2.33 Έστω τρίγωνο $AB\Gamma$ και H το ορθόκεντρο του. Αν c_1, c_2, c_3, c_4 είναι οι περιγεγραμμένοι κύκλοι των τριγώνων $B\Gamma H, A\Gamma H, ABH, AB\Gamma$ και Λ, M, K, O τα κέντρα τους αντίστοιχα, δείξτε ότι:

- α) Οι τέσσερις κύκλοι είναι ίσοι μεταξύ τους.
- β) Το τετράπλευρο $\Lambda M K O$ προκύπτει από το $AB\Gamma H$ με ημιστροφή.



Σχήμα 78: $AMKO = AB\Gamma H$

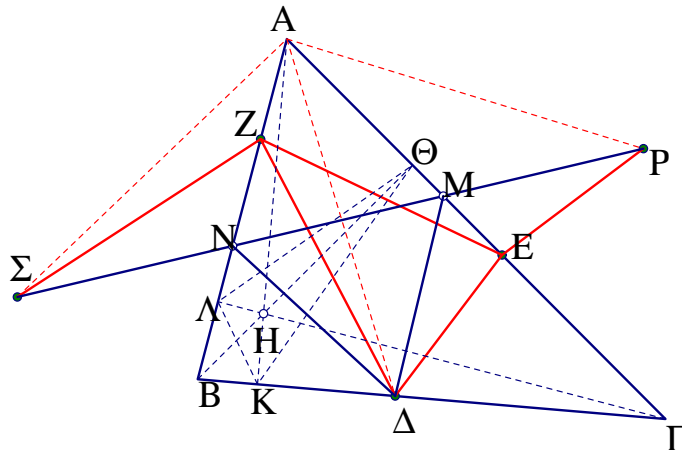
Απόδειξη:

α) Ο κύκλος c_1 είναι συμμετρικός του c_4 ως προς $B\Gamma$ γιατί το συμμετρικό του ορθόκεντρο ως προς μία πλευρά ενός τριγώνου, είναι σημείο του περιγεγραμμένου του κύκλου. Επομένως $c_1 = c_4$ (όμοια και με τους άλλους δύο κύκλους).

β) Το τετράπλευρο $A\Lambda H O$ είναι παραλληλόγραμμο γιατί έχει $\Lambda O \parallel AH$ και $\Lambda H = AO$ (Σχήμα 78).

(Δεν μπορεί να είναι ισοσκελές τραπέζιο, καθώς οι παράλληλες πλευρές του δεν έχουν κοινή μεσοκάθετο). Άρα ΑΛ και ΗΟ έχουν κοινό μέσο, το οποίο προφανώς είναι το κέντρο της ζητούμενης ημιστροφής.

Πρόβλημα 2.34 Να αποδειχθεί ότι το τρίγωνο ελαχίστης περιμέτρου που εγγράφεται σε δοθέν οξυγώνιο τρίγωνο ΑΒΓ, είναι εκείνο που έχει κορυφές του τα ίχνη των υψών του, το ονομαζόμενο *ποδικό* ή *ορθικό* τρίγωνο του ΑΒΓ. Το πρόβλημα αυτό τέθηκε πρώτα το 1775 από τον Ιταλό Μαθηματικό *I.F.Fagnano*. Λύσεις έδωσαν μεταξύ άλλων και οι *Schwarz, Samelson, Izvolsky* και *Fejer*.

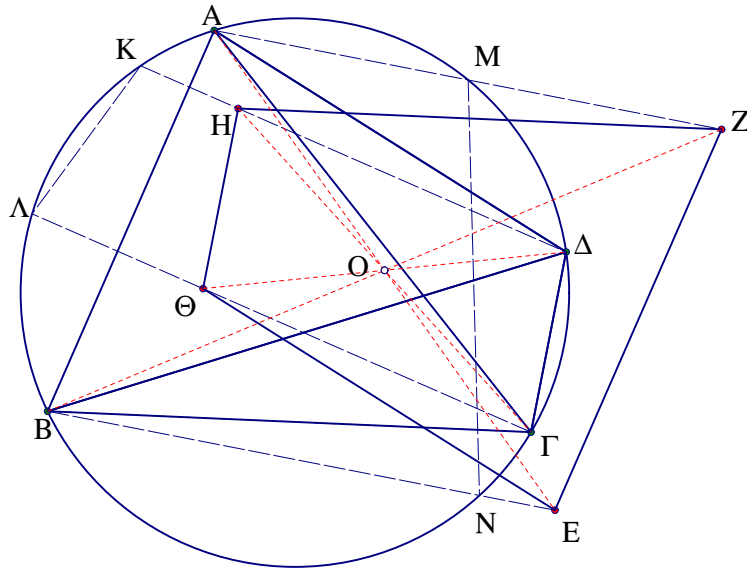


Σχήμα 79: Τρίγωνο ελαχίστης περιμέτρου

Απόδειξη:

Έστω ΔΕΖ τρίγωνο εγγεγραμμένο στο δοθέν ΑΒΓ, με σταθερή την κορυφή Δ σε τυχαίο σημείο της πλευράς ΒΓ και τις κορυφές Ζ και Ε να κινούνται στις πλευρές ΑΒ και ΑΓ αντίστοιχα. Βρίσκουμε τα σημεία Σ και Ρ συμμετρικά του Δ ως προς ΑΒ και ΑΓ αντίστοιχα (Σχήμα 79). Η περίμετρος του ΔΕΖ ισούται με το μήκος της τεθλασμένης γραμμής ΣΖΕΡ, άρα είναι μικρότερη από το μήκος του ευθυγράμμου τμήματος ΣΡ, το οποίο ισούται με την περίμετρο του τριγώνου ΔΝΜ, όπου Ν και Μ τα σημεία τομής της ΣΡ με τις ΑΒ και ΑΓ αντίστοιχα. Άρα, από όλα τα εγγεγραμμένα στο ΑΒΓ τρίγωνα με σταθερή κορυφή στο Δ, την ελάχιστη περίμετρο έχει το ΔΝΜ. Παρατηρούμε όμως ότι η ΣΡ είναι βάση του ισοσκελούς τριγώνου ΑΣΡ το οποίο έχει σταθερά τα μέτρα των γωνιών του (επομένως και τις αναλογίες των πλευρών του, καθώς η γωνία της κορυφής του $\angle \Sigma \text{AP}$ είναι διπλάσια της σταθερής $\angle \text{BAG}$). Έτσι, για να ελαχιστοποιήσουμε το μήκος ΣΡ αρκεί να ελαχιστοποιήσουμε το μήκος ΑΣ. Αλλά $\text{AS} = \text{AD}$ και η ελάχιστη τιμή του ΑΔ επιτυγχάνεται όταν το ΑΔ είναι ύψος του ΑΒΓ, δηλαδή ταυτίζεται με το ΑΚ. Τότε όμως το ΔΕΖ ταυτίζεται με το ποδικό τρίγωνο ΚΛΘ το οποίο είναι τελικά το ζητούμενο τρίγωνο ελαχίστης περιμέτρου (Λύση *Fejer*).

Πρόβλημα 2.35 Έστω Α, Β, Γ, Δ τέσσερα ομοκυκλικά σημεία σε κύκλο *c* και Η, Θ, Ζ, Ε τα ορθόκεντρα των τριγώνων ΑΔΒ, ΑΒΓ, ΑΔΓ, ΒΓΔ. Να αποδειχθεί ότι: α) Το τετράπλευρο ΕΖΗΘ προκύπτει από ημιστροφή του ΑΒΓΔ με κέντρο κάποιο σημείο Ο. β) Οι τετράδες ΑΒΘΗ, ΓΔΖΕ, ΑΔΗΖ, ΒΓΘΕ, ΒΔΗΕ, ΑΓΖΘ, ΕΖΗΘ είναι ομοκυκλικές και ανήκουν σε κύκλους ίσους προς τον *c*.



Σχήμα 80: $EZH\Theta = AB\Gamma\Delta$

Απόδειξη:

α) Το συμμετρικό του ορθόκεντρου κάθε τριγώνου ως προς μία πλευρά του, βρίσκεται πάνω στον περιγεγραμμένο του κύκλο. Έτσι αν K και Λ είναι τα συμμετρικά των H και Θ αντίστοιχα ως προς την ευθεία AB, το $\Gamma\Delta\text{K}\Lambda$ είναι τραπέζιο εγγεγραμμένο σε κύκλο, άρα ισοσκελές. Επομένως το KΛ και ΔΓ είναι συμμετρικά ως προς την κοινή μεσοκάθετο των βάσεων του ισοσκελούς τραπεζίου. Τελικά το HΘ είναι η εικόνα του ΔΓ μέσω της σύνθεσης δύο ανακλάσεων με παράλληλους άξονες, επομένως είναι μία μεταφορά. Άρα ΔΘ και ΗΓ έχουν κοινό μέσο (έστω O). Με όμοιο τρόπο αποδεικνύουμε ότι όλα τα ευθύγραμμα τμήματα που ενώνουν αντίστοιχες κορυφές των $AB\Gamma\Delta$ και $EZH\Theta$ έχουν κοινό μέσον το σημείο O (Σχήμα 80).

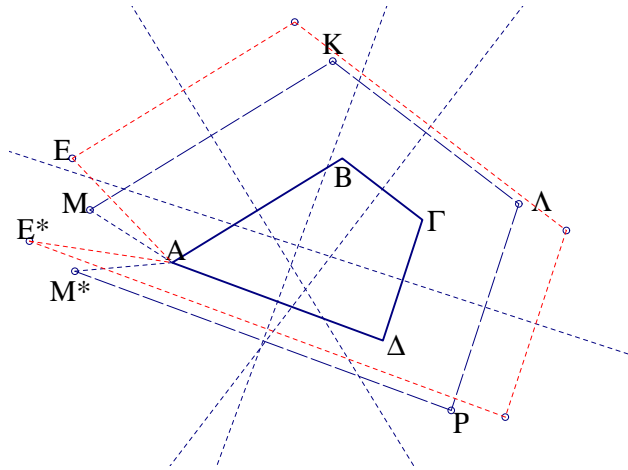
β) Λόγω της συμμετρίας των HΘ και KΛ, η εικόνα του c μέσω ανάκλασης ως προς ΒΓ είναι κύκλος ίσος προς αυτόν που περνά από τις κορυφές του $AB\Theta\text{H}$. Όμοια και με τις άλλες τετράδες.

Πρόβλημα 2.36 Δίνονται n ευθείες στο επίπεδο. Να κατασκευαστεί n -γωνο του οποίου οι δοσμένες ευθείες να είναι:

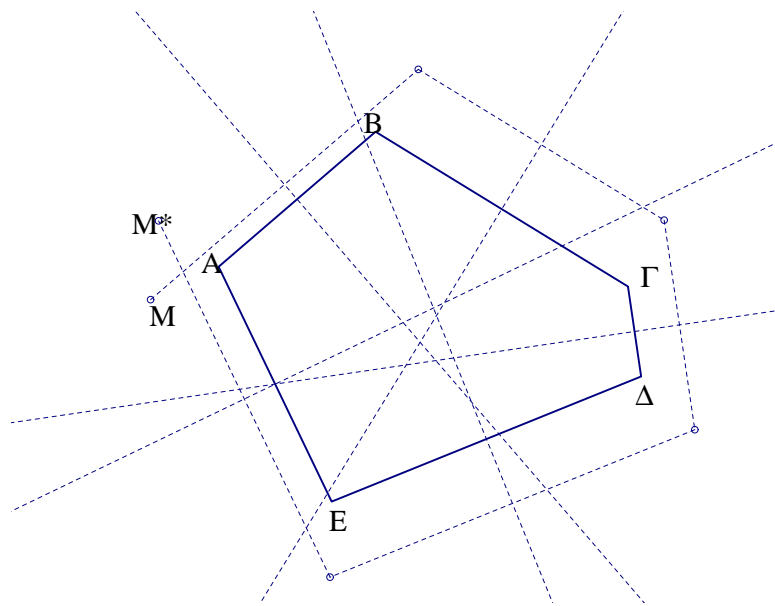
- α) Μεσοκάθετοι των πλευρών του.
- β) Εσωτερικές ή εξωτερικές διχοτόμοι των γωνιών του [1].

Απόδειξη:

α) Προφανώς η εύρεση έστω μιάς κορυφής του πολυγώνου, οδηγεί στην κατασκευή του. Έστω M ένα τυχαίο σημείο του επιπέδου. Η εικόνα του M^* μέσω διαδοχικών ανακλάσεων στις μεσοκάθετους των πλευρών $AB, B\Gamma, \dots$ ενός πολυγώνου $AB\Gamma \dots$ έχει την ιδιότητα να απέχει με το M την ίδια απόσταση από την κορυφή A, καθώς $MA = KB = \Lambda\Gamma = \dots = M^*A$ (Στα σχήματα 81 και 82 έχουμε περιπτώσεις για $n=4$ ή 5). Έτσι η κορυφή A βρίσκεται πάνω στην μεσοκάθετο της MM^* . Ομοίως βρίσκεται πάνω στην μεσοκάθετο της EE^* για κάποιο άλλο σημείο E και την εικόνα του E^* μέσω των ίδιων ανακλάσεων. Έτσι προσδιορίζεται το A σαν τομή των δύο μεσοκαθέτων. Σε αυτή την διαδικασία όμως δεν φαίνονται ποιές είναι οι προϋποθέσεις ύπαρξης ή μη λύσης του προβλήματος (μιάς ή περισσότερων). Ας δούμε μία άλλη αντιμετώπιση όπου γίνεται φανερό και η αναγκαιότητα διάκρισης των περιπτώσεων για n περιττό ή άρτιο αριθμό. Η σύνθεση άρτιου αριθμού ανακλάσεων είναι μία στροφή ή μεταφορά. Στην περίπτωση λοιπόν του άρτιου n , η κορυφή A προσδιορίζεται σαν το σταθερό



Σχήμα 81: $n=4$



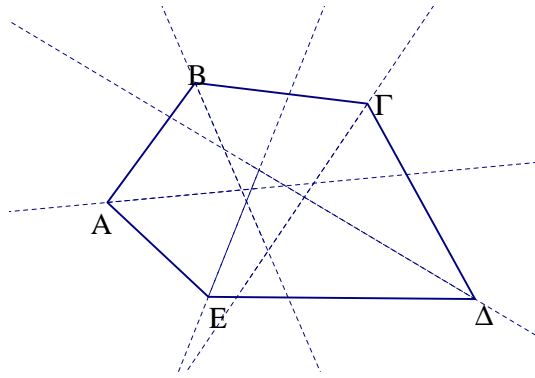
Σχήμα 82: $n=5$

σημείο της προηγούμενης σύνθεσης, δηλαδή το κέντρο αν αυτή είναι στροφή. Δηλαδή έχουμε μοναδική λύση. Στην περίπτωση που έχουμε μεταφορά (μη μηδενικού διανύσματος), δεν έχουμε λύση. Τέλος στην περίπτωση που η σύνθεση των n ανακλάσεων είναι ο ταυτοτικός μετασχηματισμός, τότε έχουμε άπειρες λύσεις καθώς κάθε σημείο είναι σταθερό.

Γιά n περιττό αριθμό, η παραπάνω σύνθεση είναι ολισθανάκλαση ή ανάκλαση. Η μεν πρώτη δεν έχει σταθερά σημεία, άρα δεν μας δίνει λύση, η δε δεύτερη έχει σταθερά όλα τα σημεία του άξονα της άπειρες λύσεις).

β) Εδώ μας αρκεί η εύρεση του φορέα μιάς πλευράς του n -γώνου. Έστω η περίπτωση του σχήματος 83 για $n=5$. Η ευθεία AE είναι η σταθερή ευθεία της σύνθεσης όλων των ανακλάσεων ως προς τις διχοτόμους των γωνιών A, B, Γ, Δ και E . Γενικά, για την περίπτωση περιττού n , η παραπάνω σύνθεση είναι ολισθανάκλαση ή ανάκλαση. Στην ολισθανάκλαση έχουμε μία σταθερή ευθεία, τον άξονα, οπότε έχουμε μοναδική λύση. Στην περίπτωση που η σύνθεση των ανακλάσεων στις n ευθείες είναι ανάκλαση, έχουμε άπειρες λύσεις καθώς εκτός από τον άξονα συμμετρίας, σταθερές έχουμε όλες τις κάθετες σε αυτόν ευθείες.

Γιά άρτιο πλήθος ευθειών, η σύνθεση είναι στροφή γωνίας ω περί κάποιο κέντρο O , ή μεταφορά κατά διάνυσμα α , ή ταυτοτική απεικόνιση. Στην πρώτη περίπτωση το πρόβλημα γενικά δεν έχει λύση, καθώς ο μετασχηματισμός της στροφής δεν έχει σταθερή ευθεία.



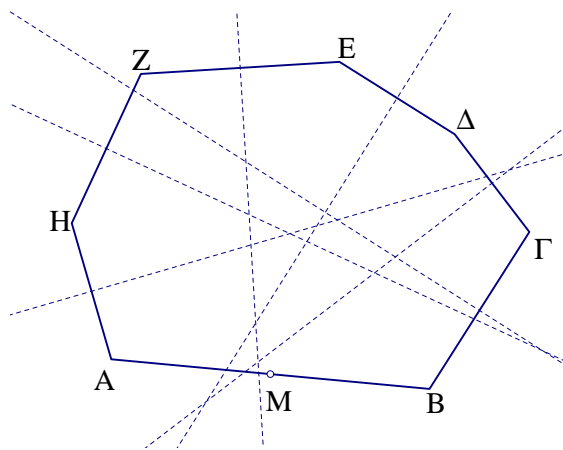
Σχήμα 83: Κατασκευή πολυγώνου

Εξαιρείται εδώ η περίπτωση της ημιστροφής ($\omega=180^\circ$), οπότε έχουμε άπειρες λύσεις τις ευθείες που διέρχονται από το O . Και στην περίπτωση της μεταφοράς έχουμε άπειρες λύσεις όλες τις παράλληλες προς το διάνυσμα α ευθείες, ενώ άπειρες λύσεις έχουμε στην περίπτωση που η σύνθεση είναι ταυτοτική, καθώς οποιαδήποτε ευθεία του επιπέδου μπορεί να θεωρηθεί σαν φορέας της πλευράς του προς κατασκευή ν -γώνου.

Πρόβλημα 2.37 Δίνονται $\nu-1$ ευθείες και σημείο M του επιπέδου. Να κατασκευαστεί ν -γωνο στο οποίο το M να είναι:

α) Μέσον της μιάς πλευράς του και οι δεδομένες ευθείες μεσοκάθετοι των υπολοίπων πλευρών του.

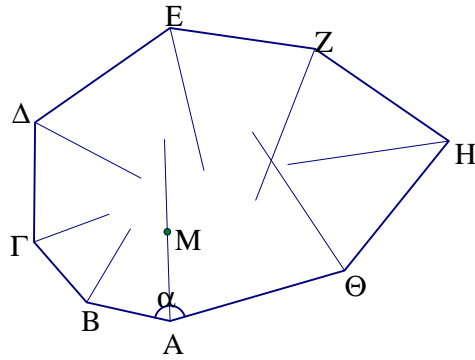
β) Σημείο της διχοτόμου μιάς γωνίας του A η οποία να έχει δεδομένη τιμή α και οι ευθείες να είναι διχοτόμοι των υπολοίπων γωνιών του [1].



Σχήμα 84: M μέσο της AB

Απόδειξη:

α) Έστω $AB\Gamma\Delta\epsilon Z$ (Σχήμα 84) το προς κατασκευή ν -γωνο ($\nu=7$). Το ζητούμενο εδώ είναι να βρούμε το σταθερό σημείο της σύνθεσης μιάς ημιστροφής περί το O με $\nu-1$ ανακλάσεις στις μεσοκάθετους των υπολοίπων πλευρών, καθώς η κορυφή A απεικονίζεται στον εαυτό της μέσω του παραπάνω μετασχηματισμού. Γνωρίζοντας ότι η ημιστροφή ισοδυναμεί με σύνθεση δύο ανακλάσεων, έχουμε συνολικά $\nu+1$ ανακλάσεις. Στην περίπτωση περιττού ν έχουμε άρτιο πλήθος ανακλάσεων, δηλαδή γενικά στροφή (ή μεταφορά ή ταυτοτική). Η στροφή έχει ένα σταθερό σημείο (μοναδική λύση), ενώ η μεταφορά κανένα (καμία λύση) και η ταυτοτική άπειρα (άπειρες λύσεις). Στην περίπτωση άρτιου ν , (περιττό πλήθος ανακλάσεων), έχουμε



Σχήμα 85: M σημείο της διχοτόμου της α

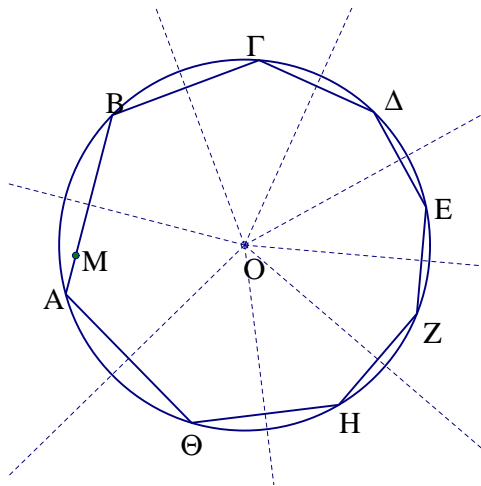
ολισθανάκλαση ή ανάκλαση, δηλαδή καμία ή άπειρες λύσεις, τα σημεία του άξονα της ανάκλασης.

β) Έστω ΑΒΓΔΕΖΗΘ (Σχήμα 84) το ζητούμενο πολύγωνο ($n=8$). Το πρόβλημα εδώ αντιμετωπίζεται με τον ίδιο ακριβώς τρόπο όπως και το προηγούμενο. Η στροφή περί το Α κατά γωνία $180^\circ - \alpha$ απεικονίζει την ΑΒ στην ΒΓ. Η τελευταία απεικονίζεται πάλι στην ΑΒ έπειτα από $n-1$ ανακλάσεις στις διχοτόμους των υπολοίπων γωνιών. Έτσι ζητάμε σταθερή ευθεία στην σύνθεση στροφής με $n-1$ ανακλάσεις, δηλαδή πάλι $n+1$ ανακλάσεις. Για n περιττό έχουμε αδύνατο πρόβλημα για την στροφή και άπειρες λύσεις για τις περιπτώσεις που η σύνθεση είναι ημιστροφή, μεταφορά ή ταυτοτική. Για n άρτιο, έχουμε μοναδική λύση για την περίπτωση της ολισθανάκλασης και άπειρες στην ανάκλαση.

Πρόβλημα 2.38 Να εγγραφεί n -γωνο σε δεδομένο κύκλο έτσι ώστε:

α) Οι πλευρές του να είναι παράλληλες σε n δεδομένες ευθείες.

β) Η μία του πλευρά να περνά από δεδομένο σημείο Μ και οι υπόλοιπες να είναι παράλληλες με $n-1$ δεδομένες ευθείες.



Σχήμα 86: Εγγραφή n -γώνου

Απόδειξη:

α) Έστω ΑΒΓΔΕΖΗΘ το ζητούμενο πολύγωνο του σχήματος 86 (για $n=8$). Η εικόνα της κορυφής Α μέσω ανακλάσεων στις μεσοκαθέτους των διαδοχικών πλευρών του είναι η ίδια η κορυφή Α. Έτσι αναζητάμε πάλι το σταθερό σημείο της σύνθεσης αυτών των ανακλάσεων.

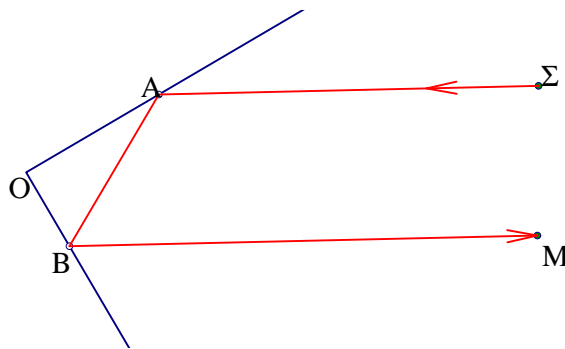
Οι μεσοκάθετοι των πλευρών θεωρούνται γνωστές καθώς έχουν γνωστή διεύθυνση και δεδομένο το κοινό τους σημείο O . Στην περίπτωση που το ν είναι άρτιος, η παραπάνω σύνθεση είναι στροφή περί το O , το οποίο είναι και το μόνο σταθερό της σημείο. Έτσι σε αυτή την περίπτωση το πρόβλημα δεν έχει λύση, παρά μόνο αν προκύπτει ταυτοτική απεικόνιση. Για ν περιττό, η σύνθεση περιττού πλήθους ανακλάσεων σε συντρέχουσες στο O ευθείες, είναι ανάκλαση σε άξονα διερχόμενο επίσης από το O . Τα κοινά σημεία αυτού του άξονα με τον δεδομένο κύκλο μας δίνουν δύο λύσεις στο πρόβλημα, καθώς και τα δύο είναι σταθερά σημεία της ανάκλασης.

β) Και σε αυτή την περίπτωση οι μεσοκάθετοι των $\nu-1$ πλευρών είναι γνωστές. Η εικόνα της κορυφής B μέσω των $\nu-1$ ανακλάσεων, είναι η κορυφή A του πολυγώνου μας. Διακρίνουμε πάλι τις περιπτώσεις άρτιου ή περιττού ν . Στην περίπτωση του άρτιου, έχουμε περιττό πλήθος ανακλάσεων, άρα τελικά ανάκλαση ως προς άξονα διερχόμενο από το O . Γνωρίζοντας το σημείο M της πλευράς AB , κατασκευάζουμε την πλευρά αυτή φέρνοντας κάθετη από το M προς τον γνωστό πλέον άξονα. Δηλαδή έχουμε μοναδική λύση. Για περιττό ν , έχουμε σύνθεση άρτιου πλήθους ανακλάσεων, δηλαδή στροφή περί το O κατά γνωστή γωνία φ . Επομένως γνωρίζουμε και το απόστημα της χορδής AB . Έτσι η πλευρά AB κατασκευάζεται φέρνοντας από το σημείο M εφαπτόμενα τμήματα προς τον κύκλο κέντρου O και ακτίνας ίσης με το γνωστό απόστημα. μπορεί εδώ να προκύψουν δύο, μία ή καμία λύση. Καμία λύση έχουμε και στην περίπτωση που η παραπάνω σύνθεση δίνει την ταυτοτική απεικόνιση.

Πρόβλημα 2.39 Να εξεταστεί πότε μία φωτεινή ακτίνα ανακλώμενη διαδοχικά σε δύο επίπεδα κάτοπτρα που σχηματίζουν μεταξύ τους γωνία α , ανακλάται τελικά σε αντίθετη κατεύθυνση, παράλληλα προς την αρχική. Συγκεκριμένα, ναδειχθεί ότι αυτό συμβαίνει μετά από ν ανακλάσεις και στα δύο κάτοπτρα (2ν συνολικά ανακλάσεις), για γωνία

$$\alpha = \frac{90^\circ}{\nu}$$

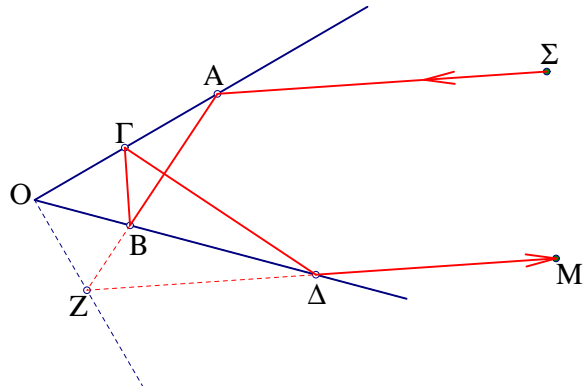
(Ισχύει ότι αναφέρει ο νόμος της ανάκλασης, ότι δηλαδή προσπίπτουσα και ανακλώμενη σχηματίζουν ίσες γωνίες με το κάτοπτρο) [1].



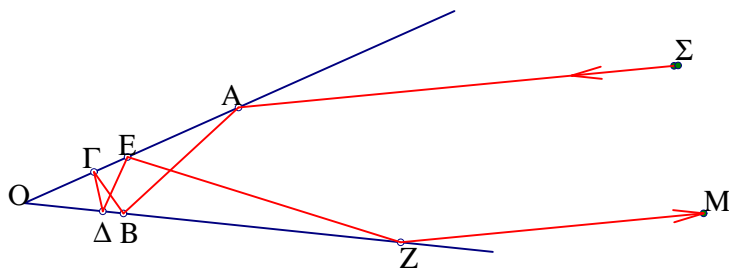
Σχήμα 87: Ανακλάσεις σε γωνία 90°

Απόδειξη:

Στην περίπτωση που $\alpha=90^\circ$, βλέπουμε εύκολα ότι το ζητούμενο γίνεται μετά από μία ανάκλαση σε κάθε πλευρά καθώς οι γωνίες A και B είναι παραπληρωματικές (Σχήμα 87). Απαραίτητη βέβαια συνθήκη εδώ όπως και στις επόμενες περιπτώσεις, είναι η γωνία της πρώτης προσπίπτουσας να είναι διάφορη της ορθής, καθώς σε αυτή την περίπτωση ανακλάται στην ίδια διαδρομή. Έστω τώρα $\alpha=45^\circ$ ($\nu=2$). Βλέπουμε εδώ ότι αυτή η περίπτωση ανάγεται στην προηγούμενη, αν αντικαταστήσουμε την διαδρομή $AB\Gamma\Delta M$ με την $ABZ\Delta M$, όπου OZ είναι η συμμετρική της OG ως προς την OB (Σχήμα 88). Όμοια μπορεί να χειριστούμε και τις περιπτώσεις $\nu=3,4,\dots$ κλπ. (Για $\nu=3$ δεξ το σχήμα 89). Μπορούμε όμως να το δούμε γενικότερα, εφαρμόζοντας την σύνθεση ανακλάσεων. Η σύνθεση δύο ανακλάσεων στις δύο



Σχήμα 88: Ανακλάσεις σε γωνία 45



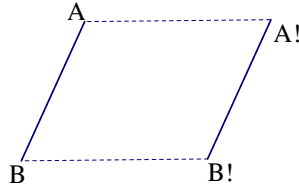
Σχήμα 89: Ανακλάσεις σε γωνία 30

πλευρές της γωνίας α , είναι στροφή κέντρου O και γωνίας 2α . Για να έχουμε λοιπόν τελική ανάκλαση με αντίθετη κατεύθυνση, πρέπει να έχουμε συνολική στροφή γωνίας 180° . Άρα

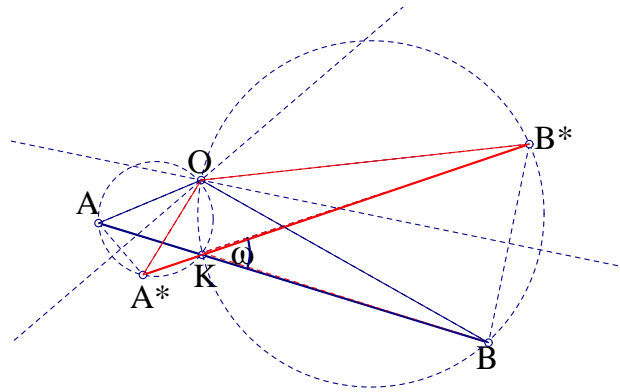
$$2\nu\alpha = 180^\circ \Leftrightarrow \alpha = \frac{90^\circ}{\nu}$$

3 ΙΣΟΤΗΤΑ ΣΧΗΜΑΤΩΝ

Πρόταση 3.1 (Ομορρόπως ίσα σχήματα) Κάθε δύο ομορρόπως ίσα σχήματα μπορούν να έρθουν σε σύμπτωση με την εφαρμογή μιάς στροφής ή μίας μεταφοράς.



Σχήμα 90: Παράλληλη μεταφορά



Σχήμα 91: Κέντρο στροφής

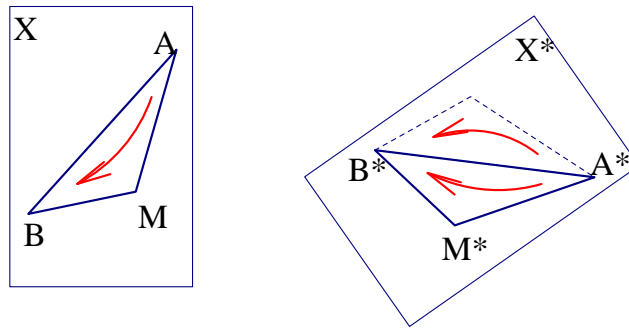
Απόδειξη:

Αν τα ευθύγραμμα τμήματα AB και A^*B^* είναι παράλληλα και ίσα, έχοντας την ίδια κατεύθυνση, τότε μία μεταφορά κατά διάνυσμα AA' μας είναι αρκετή.

Ας δούμε τώρα την περίπτωση κατά την οποία τα AB και $A'B'$ σχηματίζουν γωνία ω , όπου $0 \leq \omega \leq 180^\circ$.

Τα ευθύγραμμα τμήματα AB και A^*B^* συμπίπτουν εφαρμόζοντας στροφή κέντρου O και γωνίας ω , όπου το O είναι η τομή των μεσοκαθέτων των AA^* και BB^* . Στην περίπτωση κατά την οποία τα τμήματα είναι παράλληλα με διαφορετική κατεύθυνση ισχύουν τα προηγούμενα με $\omega=180^\circ$. Το παραπάνω σημείο O προκύπτει σαν το δεύτερο σημείο τομής των περιγεγραμμένων κύκλων των τριγώνων AA^*K και BB^*K . Το τελευταίο είναι άμεση συνέπεια της ισότητας των τριγώνων με βάσεις τα AB και A^*B^* , και κοινή κορυφή το O , θεωρώντας το σαν το δεύτερο κοινό σημείο των παραπάνω κύκλων, αν παρατηρήσουμε ότι οι παρά τις βάσεις γωνίες βαίνουν στο ίδιο τόξο κάθε κύκλου.

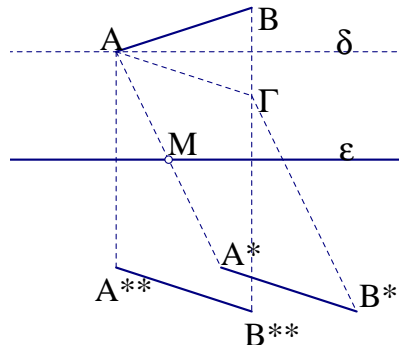
Έστω δύο ομορρόπως ίσα σχήματα X και X^* και δύο σημεία A και B του πρώτου και τα αντίστοιχά τους A^* και B^* του δεύτερου. Προφανώς ισχύει η ισότητα $AB=A^*B^*$, οπότε υπάρχει στροφή (ή μεταφορά) που απεικονίζει το τμήμα AB στο A^*B^* . Θα δείξουμε ότι κάθε σημείο M του πρώτου σχήματος απεικονίζεται μέσω αυτού του μετασχηματισμού στο αντίστοιχο της του δεύτερου σχήματος, δηλαδή όλο το X απεικονίζεται μέσω του μετασχηματισμού στο X^* . Έστω M^* η εικόνα του M μέσω του παραπάνω μετασχηματισμού. Θα δείξουμε ότι το M^* είναι το αντίστοιχο σημείο του M στο σχήμα X^* . Πρέπει να επιλέξουμε με ποιά από τις δυο κορυφές των τριγώνων του X^* που σχηματίζονται με βάση την A^*B^* συμπίπτει το M^* . (Και τα δύο τρίγωνα έχουν πλευρές ίσες με αυτές του ABM και είναι



Σχήμα 92: Ομορρόπως ίσα σχήματα

συμμετρικά ως προς A^*B^* , βλέπε σχήμα 92). Η εικόνα του ABM μέσω στροφής ή μεταφοράς είναι τρίγωνο ίδιου προσανατολισμού. Επίσης, τα σχήματα X και X^* έχουν τον ίδιο προσανατολισμό. Επομένως δεν μπορεί η εικόνα του M μέσω του μετασχηματισμού και το αντίστοιχο σημείο του M στο X^* να είναι συμμετρικά ως προς AB , καθώς θα όριζαν τρίγωνα αντίθετων προσανατολισμών.

Πρόταση 3.2 (Αντιρρόπως ίσα σχήματα) Κάθε δύο αντιστρόφως ίσα σχήματα στο επίπεδο, μπορούν να ταυτισθούν με χρήση μίας ανάκλασης ή ολισθανάκλασης.

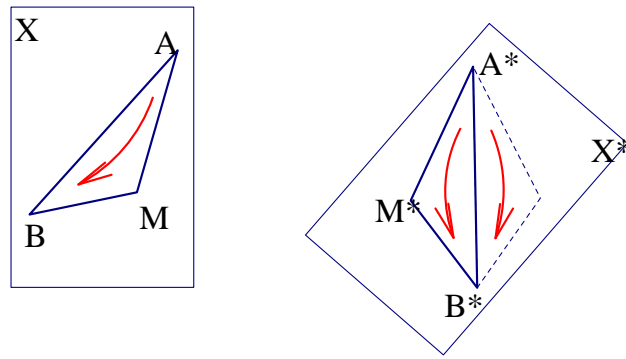


Σχήμα 93: Ανάκλαση ή ολισθανάκλαση

Απόδειξη:

Θα δείξουμε πρώτα ότι δύο ίσα ευθύγραμμα τμήματα μπορούν να έρθουν σε σύμπτωση, μέσω μίας ανάκλασης ή ολισθανάκλασης με άξονα ευθεία ϵ Σχήμα 93. Έστω ϵ ο ζητούμενος άξονας και $AB=A^*B^*$ τα δύο ίσα τμήματα. Κάνουμε μεταφορά του δεύτερου σε θέση $A\Gamma // A^*B^*$. Αν $A^{**}B^{**}$ η εικόνα του AB μέσω ανάκλασης ως προς ϵ , τότε προφανώς $A^{**}B^{**} // A\Gamma$. Επίσης η διχοτόμος δ των AB και $A\Gamma$ είναι παράλληλη της ϵ (η σύνθεση των ανακλάσεων του $A\Gamma$ ως προς δ και ϵ δίνουν τμήμα παράλληλο του). Άρα η ϵ περνά από το μέσον M της AA^* , οπότε μπορεί να προσδιοριστεί καθώς η διεύθυνση της είναι επίσης γνωστή (αυτή της δ).

Έστω τώρα δύο αντιρρόπως ίσα σχήματα X και X^* και δύο σημεία A και B του πρώτου και τα αντίστοιχά τους A^* και B^* του δεύτερου. Με όμοιο τρόπο όπως προηγουμένως ότι η ανάκλαση ή ολισθανάκλαση που απεικονίζει το AB στο A^*B^* , απεικονίζει κάθε σημείο του X στο X^* , άρα ολόκληρο το πρώτο σχήμα στο δεύτερο (Σχήμα 94). Η μόνη διαφορά εδώ είναι



Σχήμα 94: Αντιρρόπως ίσα σχήματα

ότι και ο μετασχηματισμός αλλάζει τον προσανατολισμό, αλλά και τα X, X^* έχουν αντίθετο προσανατολισμό.

Από τις προτάσεις 3.1 και 3.2 προκύπτουν τα ακόλουθα συμπεράσματα:

Πρόταση 3.3 Κάθε δύο ίσα σχήματα του επιπέδου μπορούν να συμπέσουν μέσω ενός μετασχηματισμού στροφής, μεταφοράς, ανάκλασης ή ολισθανάκλασης.

Πρόταση 3.4 Κάθε δύο ίσα σχήματα του επιπέδου μπορούν να συμπέσουν μέσω ενός μετασχηματισμού που είναι σύνθεση ανακλάσεων σε δύο ευθείες e_1 και e_2 , ή μιάς ανάκλασης σε ευθεία e και μιάς ημιστροφής κέντρου O

Απόδειξη:

Ο μετασχηματισμός της μεταφοράς ισοδυναμεί με σύνθεση δύο ανακλάσεων σε παράλληλους άξονες. Η στροφή γράφεται σαν σύνθεση ανακλάσεων σε τεμνόμενες ευθείες. Η ολισθανάκλαση είναι σύνθεση τριών ευθειών e_1, e_2 και e_3 από τις οποίες οι δύο πρώτες είναι παράλληλες μεταξύ τους και κάθετες στην τρίτη. Η σύνθεση όμως των καθέτων e_2 και e_3 είναι ημιστροφή ως προς το σημείο τομής τους.

Συνδιάζοντας όλα τα προηγούμενα σχετικά με την σύνθεση των Ευκλείδειων μετασχηματισμών του επιπέδου συμπεραίνουμε ότι:

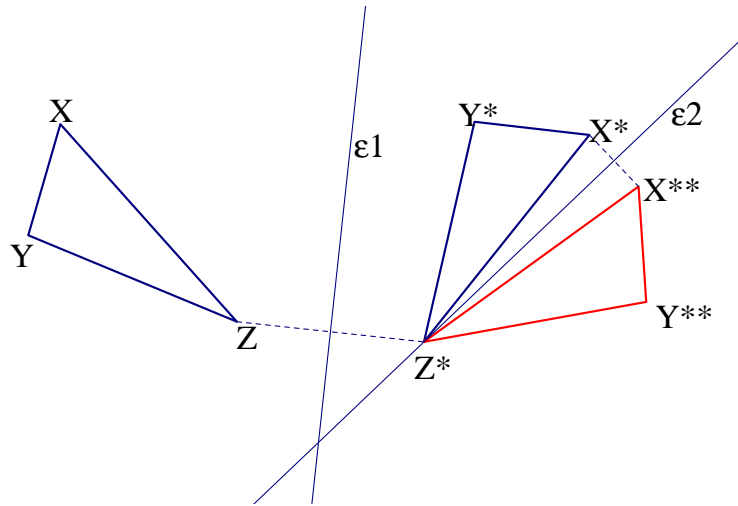
Πρόταση 3.5 Κάθε δύο ίσα σχήματα του επιπέδου μπορούν να συμπέσουν μέσω ενός μετασχηματισμού που είναι σύνθεση το πολύ τριών ανακλάσεων σε ευθείες e_1, e_2 και e_3 . Συγκεκριμένα στην περίπτωση των ομορρόπως ίσων σχημάτων μας αρκούν δύο ανακλάσεις, (σχήμα 95).

Απόδειξη:

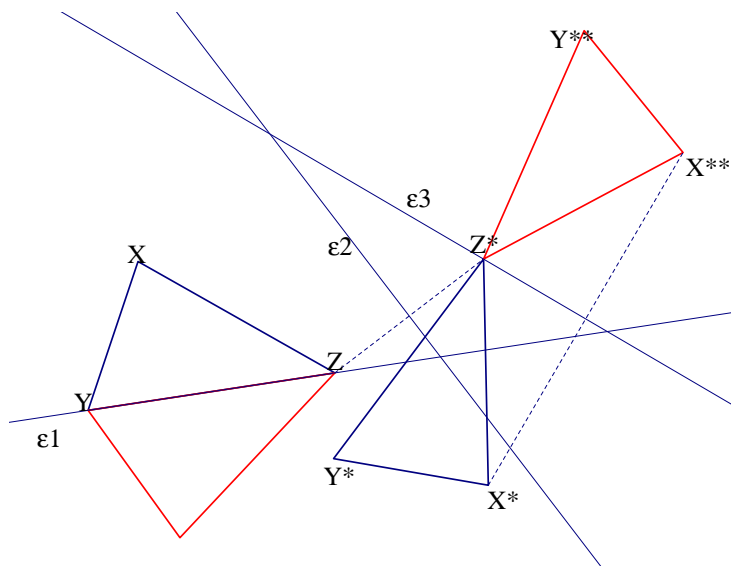
Πραγματικά βλέπουμε ότι επιλέγοντας για άξονα της πρώτης ανάκλασης, την μεσοκάθετο του τμήματος XX^* που ενώνει ένα σημείο του πρώτου σχήματος με το αντίστοιχο του του δεύτερου και της δεύτερης την μεσοκάθετο του X^*X^{**} (όπου X^{**} η εικόνα του X μέσω της πρώτης ανάκλασης), επιτυγχάνουμε σύμπτωση του τριγώνου XYZ με το ίσο του $X^*Y^*Z^*$ (Σχήμα 95). Στην περίπτωση αντιρρόπως ίσων σχημάτων χρειαζόμαστε μία ή τρεις ανακλάσεις (Σχήμα 96). Αν XYZ και $X^*Y^*Z^*$ δύο αντιρρόπως ίσα τρίγωνα, οι ευθείες e_1 διερχόμενη από τα Y και Z , e_2 μεσοκάθετος του ZZ^* και e_3 μεσοκάθετος του X^*X^{**} είναι οι άξονες των ζητούμενων ανακλάσεων.

3.1 ΓΕΝΙΚΑ ΠΡΟΒΛΗΜΑΤΑ

Πρόβλημα 3.1 Δίνονται δύο ευθείες e_1 και e_2 και από ένα σημείο A και B σε κάθε μία από αυτές. Να βρεθεί ευθεία e , που να τέμνει τις δύο πρώτες σε σημεία X και Ψ αντίστοιχα,



Σχήμα 95: Ανάκλαση σε δύο ευθείες



Σχήμα 96: Ανάκλαση σε τρεις ευθείες

με $AX=B\Psi$ και τέτοια ώστε:

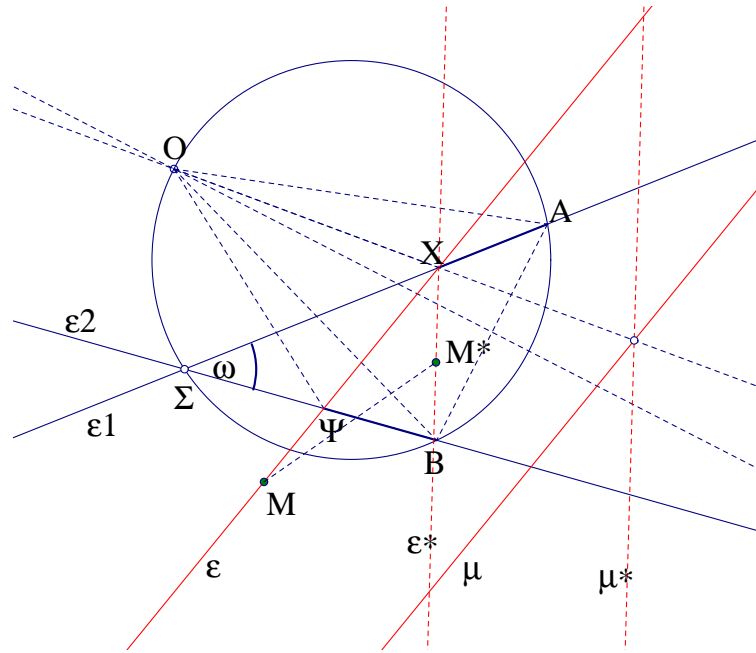
- α) Να είναι παράλληλη προς δοθείσα μ .
- β) Να περνά από δεδομένο σημείο M .
- γ) Το τμήμα $X\Psi$ να έχει δοθέν μήκος α .

Απόδειξη:

Πρώτος τρόπος: Έστω ότι έχουμε κατασκευάσει την ζητούμενη ευθεία ϵ και οι δεδομένες ευθείες είναι τεμνόμενες στο Σ σχηματίζοντας γωνία ω (Σχήμα 97). Τα τμήματα AX και $B\Psi$ έρχονται σε σύμπτωση μέσω στροφής κατά γωνία ω , με κέντρο O το οποίο βρίσκεται με τόν τρόπο που αναφέρουμε στην 3.1 σαν σημείο τομής του κύκλου ΣAB με την μεσοκάθετο του AB (Με το σημείο B να απεικονίζεται στο A και το Ψ στο X).

α) Έστω μ^* και ϵ^* οι εικόνες των μ και ϵ αντίστοιχα μέσω της παραπάνω στροφής. Η ευθεία ϵ^* περνά από το X και η OX διχοτομεί την γωνία των ϵ , ϵ^* όπως και εκείνη των μ , μ^* . Επομένως το σημείο X προσδιορίζεται σαν σημείο τομής της ευθείας ϵ_1 με αυτήν που ορίζεται από το O και την τομή των μ και μ^* .

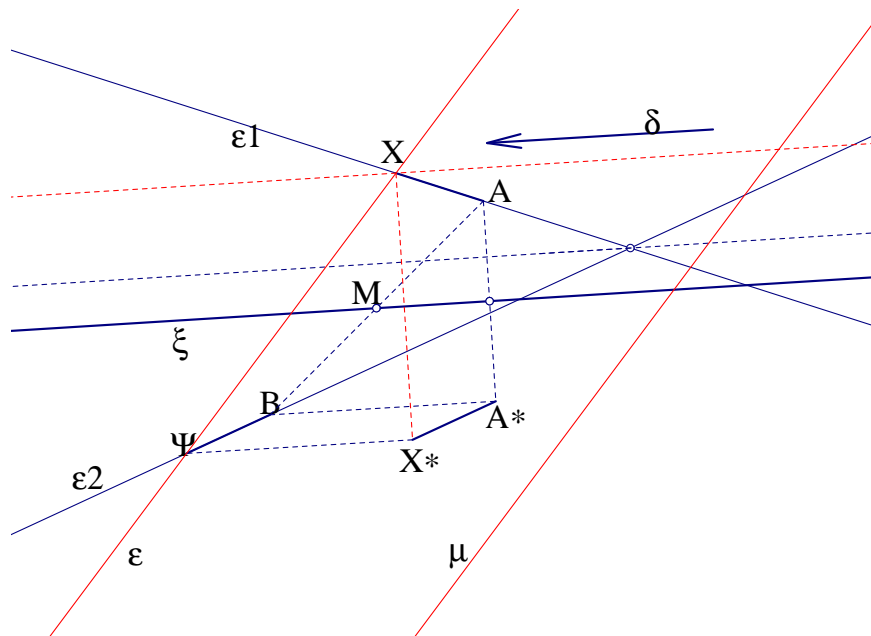
β) Έστω M^* η εικόνα του M μέσω της στροφής. Καθώς η γωνία των μ και μ^* είναι γνωστή (ίση με την γωνία ω), το σημείο X βλέπει την MM^* υπό γνωστή γωνία, άρα βρίσκεται σε



Σχήμα 97: Εύρεση ευθείας ϵ)

γνωστό τόξο.

γ) Το ισοσκελές τρίγωνο $OX\Psi$ έχει γνωστές γωνίες και γνωστό μήκος a της βάσης άρα γναρίζουμε το μήκος των δύο ίσων πλευρών του. Άρα το σημείο X βρίσκεται σε κύκλο κέντρου O και γνωστής ακτίνας, άρα είναι τομή γνωστού κύκλου με την ϵ_1 . Δεύτερος τρόπος: Εδώ θα χρησιμοποιήσουμε την πρόταση 3.2 για τα αντιρρόπως ίσα σχήματα. Το AX



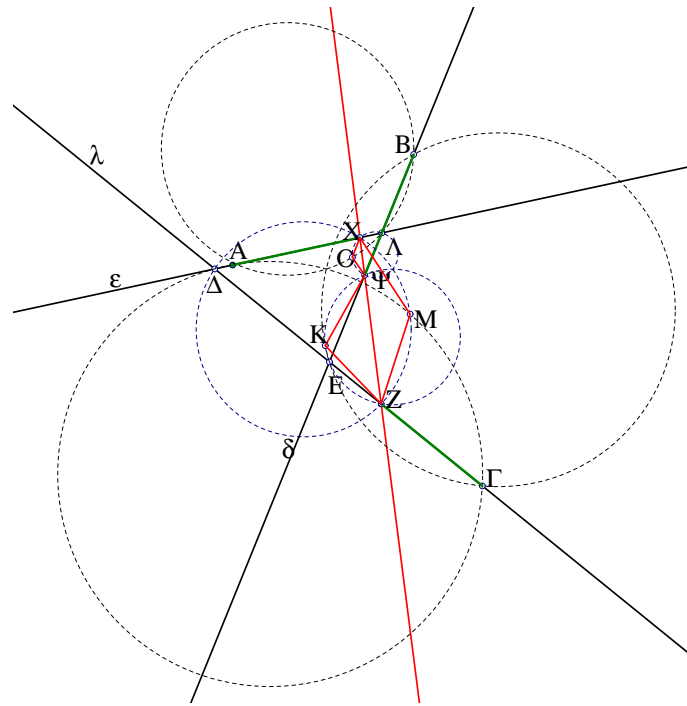
Σχήμα 98: Εύρεση ευθείας ϵ

έρχεται σε σύμπτωση με το $B\Psi$ μέσω ολισθανάκλασης. Η ολισθανάκλαση που απεικονίζει το AX στο $B\Psi$, έχει άξονα ανάκλασης ξ παράλληλο της διχοτόμου της γωνίας των δεδομένων ευθειών και διερχόμενο από το μέσο της AB και διάνυσμα μεταφοράς δ ίσο με A^*B , όπου A^* είναι η εικόνα της ανάκλασης του A στον ξ (Σχήμα 98).

α) Το τρίγωνο $XX^*\Upsilon$ έχει γνωστό το μήκος $\Psi X^* = \delta$ και γνωστά τα μέτρα των γωνιών του

καθώς είναι ορθογώνιο και οι πλευρές του ΨX^* και $X\Psi$ έχουν γνωστές διευθύνσεις (Τις δ και μ αντίστοιχα). Επομένως το μήκος XX^* είναι γνωστό, άρα και η απόσταση του σημείου X από την ευθεία ξ . Άρα το X βρίσκεται πάνω σε γνωστή παράλληλο της ξ .
 γ) Και εδώ το παραπάνω τρίγωνο $XX^*\Upsilon$ έχει γνωστά μήκη πλευρών, καθώς γνωρίζουμε τις $X\Psi = \alpha$ και $X^*\Upsilon = \delta$ [1].

Πρόβλημα 3.2 Δίνονται τρεις ευθείες ϵ, δ και λ , καθώς και τρία σημεία A, B και Γ αυτών αντίστοιχα. Να βρεθεί ευθεία που τέμνει τις τρεις σε σημεία X, Ψ και Z , τέτοια ώστε $AX = B\Psi = \Gamma Z$.



Σχήμα 99: Ίσα τμήματα

Απόδειξη:

Έστω ότι έχουμε βρεί την ζητούμενη ευθεία (Σχήμα 99) και έστω O το κέντρο στροφής R_o που απεικονίζει το AX στο $B\Psi$ και K το αντίστοιχο κέντρο στροφής R_k που απεικονίζει το $B\Psi$ στο ΓZ . Οι στροφές αυτές έχουν αντίστοιχα γωνίες ίσες με εκείνες που σχηματίζουν η ϵ με την δ , $((\epsilon, \delta))$ και η δ με την λ , $((\delta, \lambda))$ αντίστοιχα. Άρα $\widehat{XO\Psi} = (\epsilon, \delta)$ και $\widehat{\Psi K Z} = (\delta, \lambda)$. Επομένως το γνωστό τμήμα OK φαίνεται από το σημείο Ψ με γνωστή γωνία:

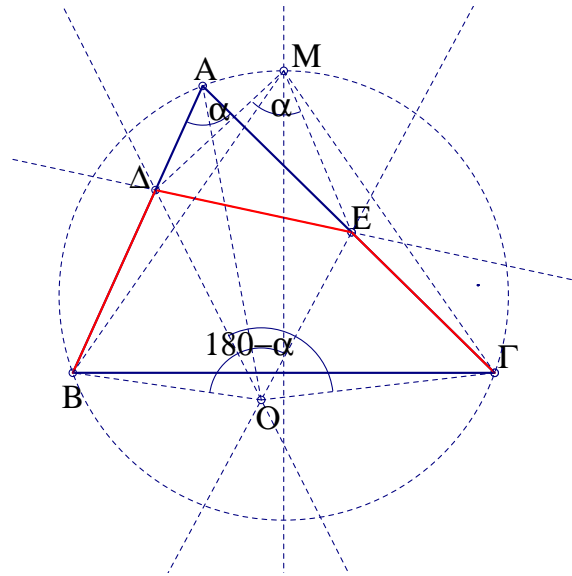
$$\widehat{O\Psi K} = \frac{\widehat{XO\Psi} \pm \widehat{\Psi K Z}}{2}$$

Πρόβλημα 3.3 Δίνεται τρίγωνο $AB\Gamma$. Να βρεθεί ευθεία ϵ τέμνουσα τις πλευρές του AB και $A\Gamma$ σε σημεία Δ και E αντίστοιχα, ώστε:

$$B\Delta = \Delta E = E\Gamma$$

Απόδειξη:

Πρώτος τρόπος: Έστω ότι έχει βρεθεί η ζητούμενη ευθεία (Σχήμα 100). Το σημείο τομής M της μεσοκαθέτου της $B\Gamma$ με τον περιγεγραμμένο κύκλο του τριγώνου, είναι το κέντρο στροφής γωνίας ίσης με την A , μέσω της οποίας το σημείο B απεικονίζεται στο Γ και το Δ στο E . Παρατηρούμε ότι στο ισοσκελές τρίγωνο $O\Delta E$ η γωνία της κορυφής του ισούται με



Σχήμα 100: $B\Delta = \Delta E = E\Gamma$

\widehat{A} , δηλαδή μας είναι γνωστή. Επομένως ο λόγος των πλευρών του μας είναι γνωστός. Άρα έχουμε:

$$\frac{M\Delta}{\Delta B} = \frac{M\Delta}{\Delta E} = \lambda$$

Άρα το Δ ανήκει στο γεωμετρικό τόπο των σημείων των οποίων ο λόγος των αποστάσεων από τα M και B είναι γνωστός (Απολλώνιος κύκλος).

εμπηΔεύτερος τρόπος: Έστω O ένα παράκεντρο του τριγώνου $A\Delta E$, δηλαδή σημείο τομής μιάς εσωτερικής (της γωνίας A) και δύο εξωτερικών (των γωνιών Δ και E) διχοτόμων του. Το τμήμα $B\Delta$ απεικονίζεται στο $E\Gamma$ μέσω της σύνθεσης ανακλάσεων στις δύο αυτές εξωτερικές διχοτόμους ΔO και EO . Η σύνθεση όμως αυτή είναι στροφή οερί το O , γωνίας διπλάσιας της γωνίας των ευθειών αυτών. Προφανώς αυτή η γωνία στροφής ισούται με την εξωτερική της γωνίας A του τριγώνου, δηλαδή με $180^\circ - \alpha$. Ακόμα, το σημείο O βλέπει την $B\Gamma$ υπό γνωστή γωνία, ίση με:

$$\widehat{BO\Gamma} = \frac{3}{2}(90^\circ - \frac{\alpha}{2})$$

Άρα η θέση του O προσδιορίζεται σαν τομή της διχοτόμου της γωνίας A με γνωστό τόξο (Σχήμα 100) [1].

Πρόβλημα 3.4 Δίνεται ευθεία ϵ και διαδοχικά ευθύγραμμα τμήματα $\Delta E, EZ$ και ZH πάνω σε αυτή. Με βάσεις αυτά τα τμήματα κατασκευάζουμε ισοσκελή τρίγωνα και στην συνέχεια ρόμβους έτσι ώστε να δημιουργηθεί ένα πλέγμα αποτελούμενο από ίσα ευθύγραμμα τμήματα όπως το Σχήμα 101. Ναδειχθεί ότι η κορυφή A του πλέγματος ισαπέχει από τα ακραία σημεία Δ και H της ϵ . Η πρόταση ισχύει ανεξάρτητα από το πλήθος των διαδοχικών ευθυγράμμων τμημάτων.

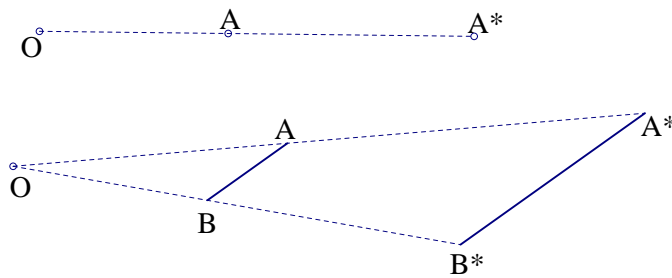
Απόδειξη:

Κατασκευάζουμε το συμμετρικό του σχήματος με άξονα συμμετρίας την ϵ . Έχουμε έτσι δημιουργήσει ένα μεγαλύτερο πλέγμα αποτελούμενο από ρόμβους με ίσες πλευρές. Η τεθλασμένη γραμμή $H\Theta!K!A!$ είναι εικόνα μέσω παράλληλης μεταφοράς της $AB\Gamma\Delta$. Άρα τα ευθύγραμμα τμήματα $A\Delta$ και $HA!$ είναι παράλληλα και ίσα. Επομένως το τετράπλευρο $A\Delta A!H$ είναι παραλληλόγραμμο με άξονα συμμετρίας την ϵ , άρα είναι ρόμβος [18].

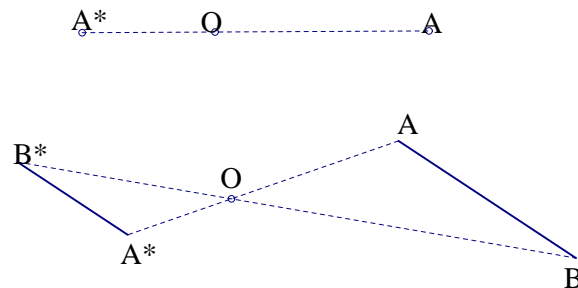
4 ΜΕΤΑΣΧΗΜΑΤΙΣΜΟΙ ΟΜΟΙΟΤΗΤΑΣ

Οι μετασχηματισμοί ομοιότητας είναι σημειακοί μετασχηματισμοί που απεικονίζουν ένα σχήμα σε ένα όμοιο του, δηλαδή διατηρούν τις γωνίες και τούς λόγους των αντιστοίχων αποστάσεων. Επομένως απεικονίζουν ένα ευθύγραμμο τμήμα σε ευθύγραμμο τμήμα, μία ευθεία σε άλλη ευθεία, ένα τρίγωνο $AB\Gamma$ σε ένα όμοιό του, ένα κανονικό πολύγωνο σε ένα επίσης κανονικό με ίδιο πλήθος πλευρών, ένα ζεύγος παραλλήλων ευθειών σε ζεύγος επίσης παραλλήλων ευθειών, ένα κύκλο σε ένα άλλο κύκλο. Όπως θα δούμε στην συνέχεια, για κάθε ζεύγος ομοίων σχημάτων υπάρχει ένας μοναδικός μετασχηματισμός ομοιότητας που απεικονίζει το ένα σχήμα στο άλλο.

4.1 ΟΜΟΙΟΘΕΣΙΑ



Σχήμα 102: Θετική ομοιοθεσία



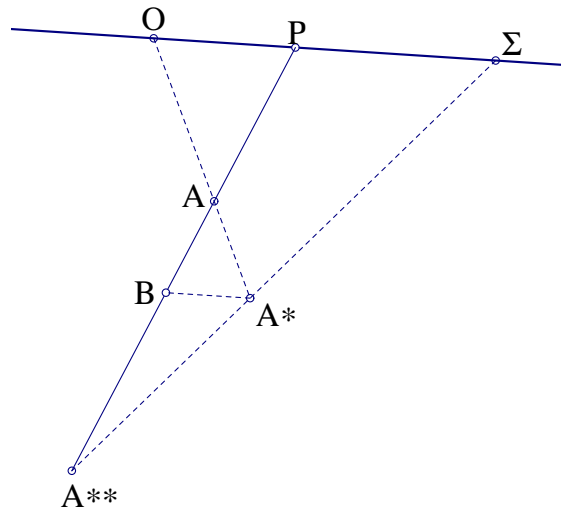
Σχήμα 103: Αρνητική ομοιοθεσία

Ορισμός 4.1 Έστω σημείο O του επιπέδου και αριθμός $k \in \mathbb{R}$. Ορίζουμε ομοιοθεσία $H(O, k)$ κέντρου O και λόγου k τον μετασχηματισμό $H : E \rightarrow E$ του επιπέδου στον εαυτό του που απεικονίζει κάθε σημείο A του E στο A^* έτσι ώστε $\overline{OA} : \overline{OA^*} = k$. Αν ο λόγος είναι θετικός, η εικόνα A^* βρίσκεται στην ημιευθεία OA (Σχήμα 102), ενώ για αρνητικό λόγο, οι ημιευθείες OA και OA^* είναι αντικείμενες (Σχήμα 103). Ομοιότητα λέγονται δύο σχήματα για τα οποία υπάρχει ομοιοθεσία $H(O, k)$ που απεικονίζει το ένα στο άλλο.

Ο αντίστροφος μετασχηματισμός $H^{-1}(O, k)$ είναι ομοιοθεσία $H(O, \frac{1}{k})$ κέντρου O και λόγου $\frac{1}{k}$. Παρατηρούμε ότι τα ομοιότητα ευθύγραμμο τμήματα AB και A^*B^* είναι σε κάθε περίπτωση παράλληλα μεταξύ τους και ο λόγος τους $A^*B^* : AB$ ισούται με την απόλυτη τιμή του λόγου ομοιοθεσίας.

ΣΥΝΘΕΣΗ ΟΜΟΙΟΘΕΣΙΩΝ

Η σύνθεση $H_2(\Sigma, k_2) \circ H_1(O, k_1)$ είναι όπως θα δούμε ομοιοθεσία $H(P, k)$ όπου $k = k_2 \cdot k_1$.



Σχήμα 104: Σύνθεση ομοιοθεσιών

Πρόταση 4.1 Δίνονται σχήμα X και ομοιοθεσίες $H(O, k_1)$ και $H(\Sigma, k_2)$ μέσω των οποίων το X απικονίζεται πρώτα στο X^* και μετά στο X^{**} . Έστω A^* η εικόνα σημείου A ενός σχήματος X μέσω ομοιοθεσίας $H(O, k_1)$ και A^{**} η εικόνα σημείου A^* του X^* μέσω ομοιοθεσίας $H(\Sigma, k_2)$. Τότε το σημείο A^{**} είναι εικόνα του A μέσω ομοιοθεσίας $H(P, k)$ το κέντρο P της οποίας είναι σημείο της ευθείας $O\Sigma$ τέτοιο ώστε $\frac{OP}{P\Sigma} = \frac{k_2 - 1}{k_1 k_2 - k_2}$ και $k = k_2 \cdot k_1$ (Σχήμα 104). Η ευθεία πάνω στην οποία βρίσκονται τα τρία κέντρα O, Σ και P των ομοιοθεσιών, ονομάζεται *άξονας ομοιότητας* των σχημάτων X, X^* και X^{**} .

Απόδειξη:

Έστω B η παράλληλη προς την $O\Sigma$ προβολή του A^* πάνω στην AP . Τότε έχουμε τις αναλογίες:

$$\frac{PO}{P\Sigma} = \frac{PO}{BA^*} \cdot \frac{BA^*}{P\Sigma} = \frac{PA}{AB} \cdot \frac{A^*A^{**}}{A^{**}\Sigma} = \frac{OA}{AA^*} \cdot \frac{A^*A^{**}}{A^{**}\Sigma} = \frac{1}{k_1 - 1} \cdot \frac{k_2 - 1}{k_2} = \frac{k_2 - 1}{k_1 k_2 - k_2}$$

Παρατήρηση:

Αν A_2 είναι η εικόνα του A μέσω της σύνθεσης $H_1(O, k_1)$ ο $H_2(\Sigma, k_2)$ τότε η ευθεία που ενώνει το A_2 με το A^{**} , είναι παράλληλη του άξονα ομοιότητας.

Η παραπάνω πρόταση μπορεί να αποδειχθεί και με χρήση του θεωρήματος του Μενελάου. Μπορούμε όμως να την χρησιμοποιήσουμε για να αποδείξουμε το Θεώρημα αυτό, όπως και το αντιστοιχο του *Ceva*.

4.2 ΘΕΩΡΗΜΑΤΑ ΜΕΝΕΛΑΟΥ-CEVA

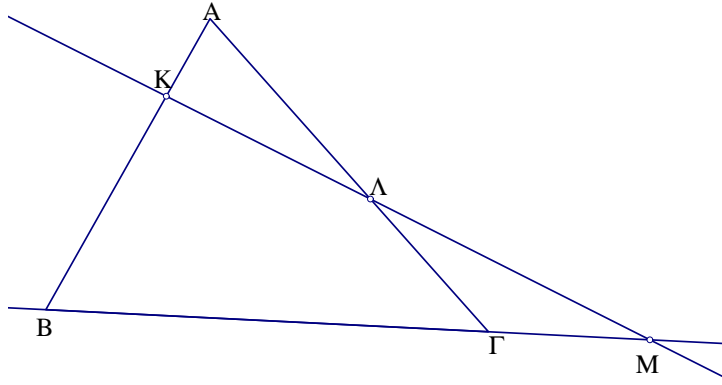
Πρόταση 4.2 Αν μία ευθεία τέμνει τις πλευρές AB, AG, BG (η τις προεκτάσεις τους) δοθέντος τριγώνου σε σημεία K, Λ, M αντίστοιχα, τότε

$$\frac{AK}{KB} \cdot \frac{BM}{MG} \cdot \frac{GL}{LA} = 1$$

(Θεώρημα Μενελάου).

Απόδειξη:

Θεωρούμε δύο ομοιοθεσίες $H_1(K, k_1)$ και $H_2(L, k_2)$ με λόγους $k_1 = \frac{AK}{KB}$ και $k_2 = \frac{GL}{LA}$ που απεικονίζουν το B στο A και το A στο G αντίστοιχα. Η σύνθεση τους $H_2 \circ H_1$ είναι ομοιοθεσία



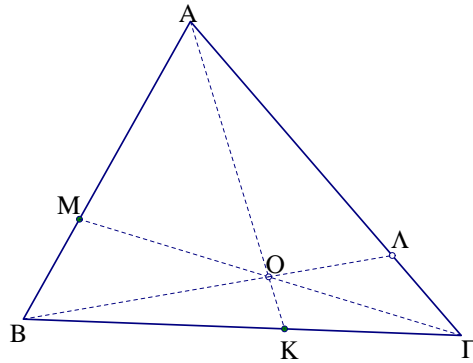
Σχήμα 105: Συνευθειακά σημεία

H_3 που απεικονίζει το B στο Γ. Το κέντρο όμως αυτής της ομοιοθεσίας, βρίσκεται πάνω στην ευθεία BΓ και στην ευθεία των κέντρων K και Λ, άρα είναι το σημείο M. Ο λόγος $k_3 = \frac{MΓ}{BM}$ της σύνθεσης αυτής ισούται με το γινόμενο $k_2 \cdot k_1$, από όπου προκύπτει το ζητούμενο. (Σχήμα 105)

Πρόταση 4.3 Αν K, Λ, M είναι σημεία των πλευρών BΓ, ΑΓ, ΑΒ αντίστοιχα, τυχαίου τριγώνου ABΓ και οι AK, ΒΛ, ΓΜ συντρέχουν στο O, τότε

$$\frac{AM}{MB} \cdot \frac{BK}{KΓ} \cdot \frac{ΓΛ}{ΛΑ} = 1$$

(Θεώρημα Ceva) Οι AK, ΒΛ, ΓΜ ονομάζονται σεβιανές του σημείου O για το τρίγωνο ABΓ.



Σχήμα 106: Συντρέχουσες ευθείες

Απόδειξη:

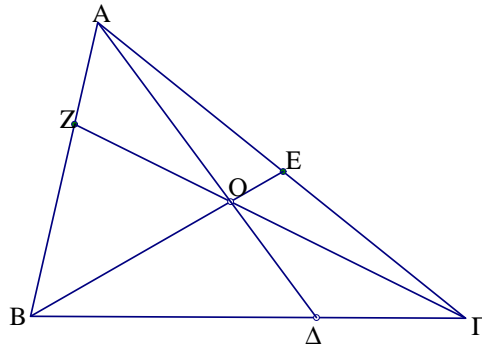
Θεωρούμε τις ομοιοθεσίες: $H_1(M, k_1)$, $H_2(O, k_2)$, $H_3(A, k_3)$ και $H_4(Γ, k_4)$ με $k_1 = \frac{MA}{MB}$, $k_2 = \frac{OB}{OΛ}$, $k_3 = \frac{ΑΓ}{ΑΛ}$ και $k_4 = \frac{ΓΑ}{ΓΛ}$. Από τους μετασχηματισμούς αυτούς έχουμε: $H_2(Λ) = B$, $H_1(B) = A$, $(H_2 \circ H_1)(Λ) = A$ άρα

$$\frac{OB}{OΛ} \cdot \frac{MA}{MB} = \frac{ΑΓ}{ΓΛ}$$

και όμοια $H_2(Λ) = B$, $H_1(B) = Γ$, $(H_2 \circ H_1)(Λ) = Γ$ άρα

$$\frac{OB}{OΛ} \cdot \frac{KΓ}{KB} = \frac{ΑΓ}{ΑΛ}$$

από τις οποίες με διαίρεση κατά μέλη προκύπτει το ζητούμενο. (Σχήμα 106)



Σχήμα 107: Σεβιανές σημείου O

Πρόταση 4.4 Αν οι ΑΔ, ΒΕ και ΓΖ είναι τρεις σεβιανές σημείου O τυχαίου τριγώνου ABΓ, τότε

$$\frac{AZ}{ZB} + \frac{AE}{EΓ} = \frac{AO}{OΔ}$$

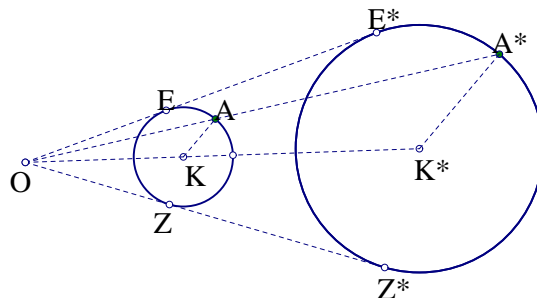
(Σχήμα 107) Η παραπάνω πρόταση, αναφέρεται σαν Θεώρημα *van Aubel* [19].

Απόδειξη:

Θεωρούμε τις ομοιοθεσίες: $H_1(Z, k_1)$, $H_2(E, k_2)$, $H_3(B, k_3)$ και $H_4(Γ, k_4)$ με $k_1 = \frac{AZ}{ZB}$, $k_2 = \frac{AE}{EΓ}$, $k_3 = \frac{BΓ}{BΔ}$ και $k_4 = \frac{BΓ}{ΓΔ}$. Το Δ απεικονίζεται μέσω της H_4 στο Β και αυτό με τη σειρά του, μέσω της H_1 στο Α. Άρα η εικόνα του Δ μέσω της σύνθεσης $(H_1 \circ H_4)$, είναι το Α. Η σύνθεση αυτή είναι ομοιοθεσία με κέντρο το κοινό σημείο των ΔΑ και ΓΖ, δηλαδή το O και λόγο $\frac{AO}{OΔ}$. Επομένως $\frac{AO}{OΔ} = \frac{BΓ}{ΓΔ} \cdot \frac{AZ}{ZB}$. Όμοια αποδεικνύουμε ότι: $\frac{AO}{OΔ} = \frac{BΓ}{BΔ} \cdot \frac{AE}{EΓ}$. Αλλά

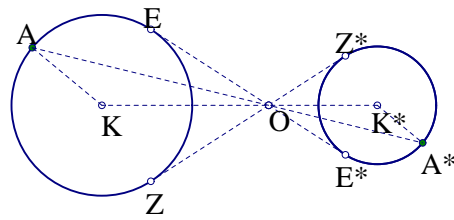
$$\left(\frac{ΓΔ}{BΓ}\right) + \left(\frac{BΔ}{BΓ}\right) = 1 \Rightarrow \frac{AZ}{\frac{AO}{OΔ}} + \frac{AE}{\frac{AO}{OΔ}} \Rightarrow \frac{AZ}{ZB} + \frac{AE}{EΓ} = \frac{AO}{OΔ}$$

ΟΜΟΙΟΘΕΤΑ ΣΧΗΜΑΤΑ



Σχήμα 108: Εξωτερικό κέντρο δύο κύκλων

Πρόταση 4.5 Μία ομοιοθεσία $H(O, κ)$ κέντρου O και λόγου κ, απεικονίζει κύκλο κέντρου K και ακτίνας ρ σε κύκλο κέντρου K* και ακτίνας ρ* ίσης με $|κ| \cdot ρ$. Αντίστροφα, δύο άνισοι κύκλοι με διαφορετικά κέντρα, είναι πάντα ομοιοθέτα σχήματα με κέντρο ομοιοθεσίας σημείο της διακέντρου αυτών και λόγο ίσο κατ' απόλυτη τιμή με τον λόγο των ακτίνων τους. Το κέντρο ομοιοθεσίας είναι το σημείο τομής των εσωτερικών η εξωτερικών τους εφαπτομένων στις περιπτώσεις που αυτές υπάρχουν. (Σχήμα 108 η Σχήμα 109) Γενικότερα και για τις

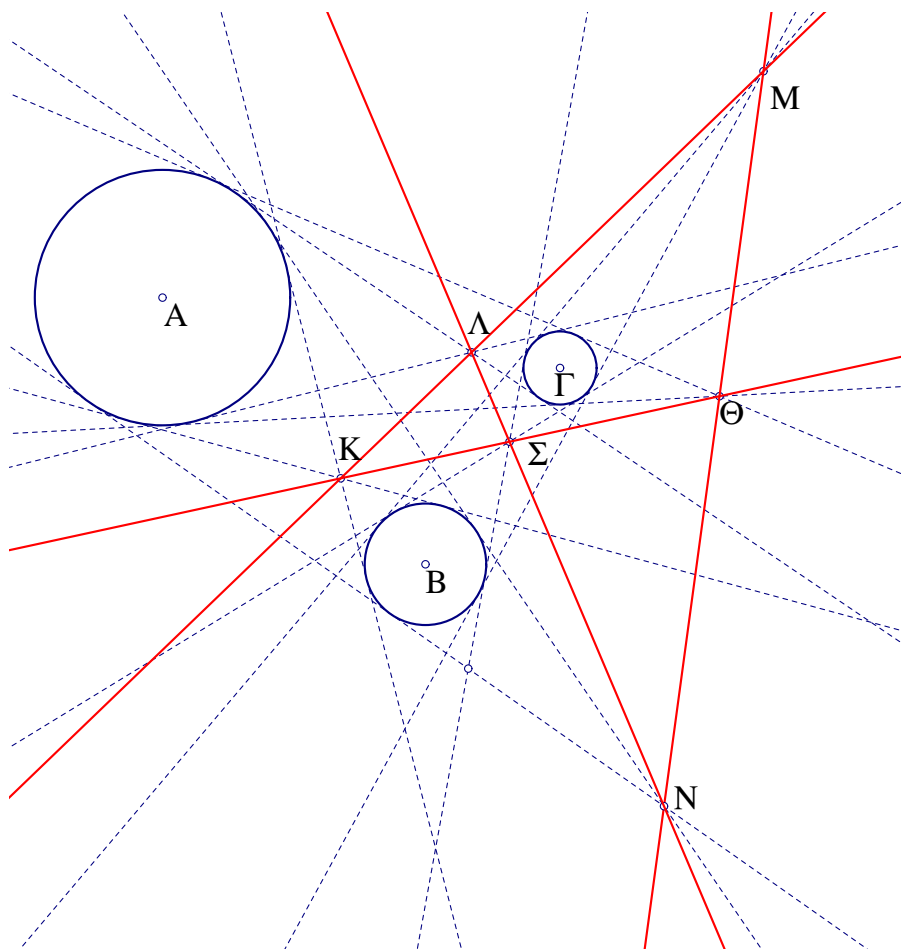


Σχήμα 109: Εσωτερικό κέντρο δύο κύκλων

περιπτώσεις εκείνες στις οποίες δεν υπάρχει κοινή εσωτερική ή εξωτερική εφαπτομένη, τα κέντρα ομοιοθεσίας χωρίζουν το ευθύγραμμο τμήμα KK^* των δύο κέντρων σε εσωτερικό και εξωτερικό λόγο ίσο με τον λόγο των αντιστοίχων ακτίνων τους.

Απόδειξη:

Το ομοιόθετο της τυχαίας ακτίνας KA είναι το K^*A^* παράλληλο του KA και με σταθερό λόγο. Το ομοιόθετο της κάθετης σε κοινή εφαπτομένη ακτίνας είναι η κάθετη από το K^* προς την κοινή εφαπτομένη. Αν A και A^* είναι άκρα παράλληλων ακτίνων των δύο κύκλων, η ευθεία AA^* περνά από το κέντρο ομοιοθεσίας.



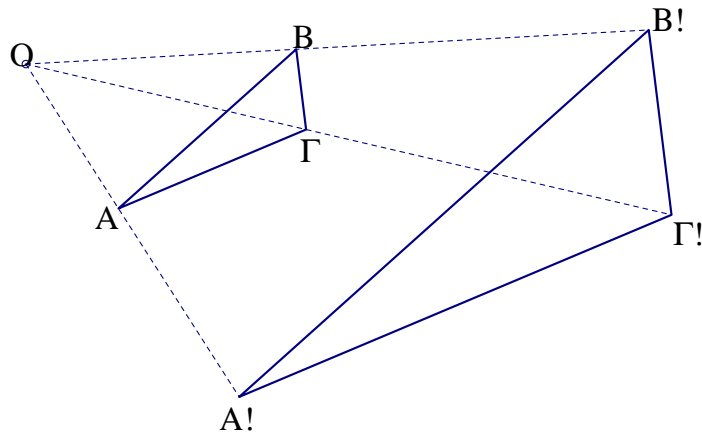
Σχήμα 110: Κέντρα ομοιοθεσίας τριών κύκλων

Πρόταση 4.6 Έστω τρεις κύκλοι διαφορετικών κέντρων και ακτίνων. Οι κύκλοι αυτοί

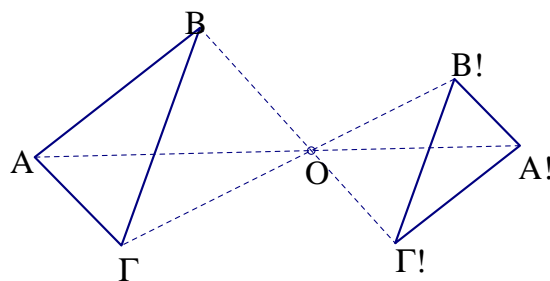
έχουν ανά δύο, ένα εσωτερικό και ένα εξωτερικό κέντρο ομοιοθεσίας. Τα έξι αυτά κέντρα βρίσκονται ανά τρία σε τέσσερις άξονες ομοιότητας των σχημάτων αυτών (Σχήμα 110). Συγκεκριμένα κάθε ένας από τους τρεις άξονες περιέχει ένα κέντρο θετικής και δύο αρνητικής ομοιοθεσίας και ο τέταρτος περιέχει τα τρία κέντρα θετικής ομοιοθεσίας.

Απόδειξη:

Η απόδειξη είναι άμεση από την πρόταση που αναφέρεται στη σύνθεση ομοιοθεσιών, παρατηρώντας ότι η σύνθεση δύο αρνητικών ομοιοθεσιών είναι θετική ομοιοθεσία.



Σχήμα 111: Θετικά ομοιόθετα τρίγωνα

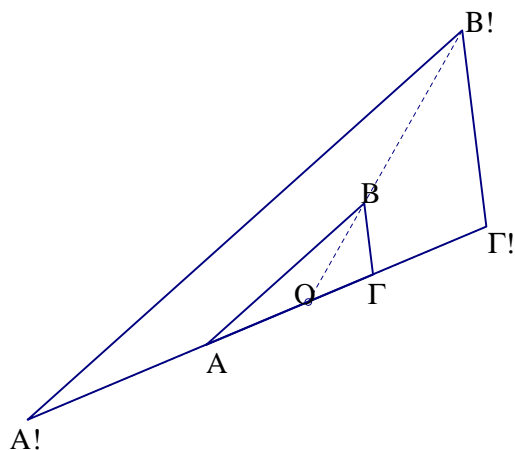


Σχήμα 112: Αρνητικά ομοιόθετα τρίγωνα

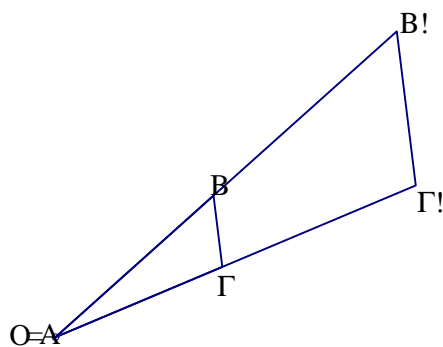
Πρόταση 4.7 Το ομοιόθετο τριγώνου $AB\Gamma$ ως προς ομοιοθεσία $H(O, \kappa)$ κέντρου O που δεν ανήκει σε πλευρά ούτε συμπίπτει με κορυφή του τριγώνου $AB\Gamma$, είναι τρίγωνο $A!B!\Gamma!$ όμοιο του αρχικού με λόγο ομοιότητας ίσο με $|\kappa|$ και πλευρές παράλληλες με τις αντίστοιχες του αρχικού. Αντίστροφα, δύο όμοια τρίγωνα με παράλληλες πλευρές είναι ομοιόθετα, με κέντρο ομοιοθεσίας το σημείο τομής των $AA!, BB!$ και $\Gamma\Gamma!$ οι οποίες εύκολα αποδεικνύεται ότι συντρέχουν. Αν το σημείο στο οποίο συντρέχουν οι παραπάνω ευθείες είναι εξωτερικό των αντίστοιχων ευθυγράμμων τμημάτων έχουμε θετική ομοιοθεσία (Σχήμα 111), ενώ σε αντίθετη περίπτωση έχουμε αρνητική ομοιοθεσία (Σχήμα 112). Αν το κέντρο ομοιοθεσίας συμπίπτει με κορυφή του αρχικού τριγώνου, τα δύο από τα τρία ζεύγη ομολόγων πλευρών έχουν κοινό φορέα, (Σχήμα 114) ενώ αν το κέντρο O ανήκει σε πλευρά του $AB\Gamma$, η πλευρά αυτή έχει κοινό φορέα με την ομολογή της.(Σχήμα 113)

Απόδειξη:

Τα τρίγωνα OAB και $OA!B!$ είναι όμοια με λόγο ομοιότητας κ , άρα AB και $A!B!$ είναι



Σχήμα 113: Το O ανήκει στην AG



Σχήμα 114: Το O ταυτίζεται με το A

παράλληλα και $A'B':AB=k$. Αν $AB \parallel A'B'$ και $A'B':AB=k$ τότε τα τρίγωνα $OA'B'$ και OAB είναι όμοια με λόγο ομοιότητας ίσο με k , όπου O είναι το σημείο τομής των AA' και BB' .

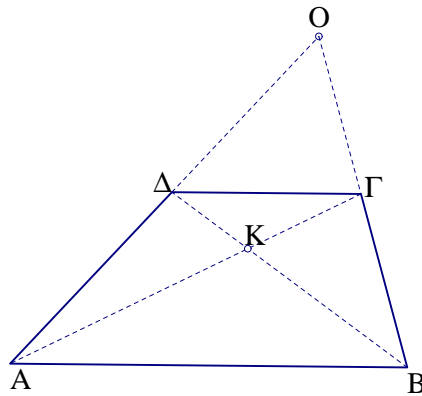
Πρόταση 4.8 Η ευθεία που ενώνει το σημείο τομής των διαγωνίων με εκείνο των μη παραλλήλων πλευρών ενός τραπέζιου $ABΓΔ$, περνά από τα μέσα των παραλλήλων πλευρών του.

Απόδειξη:

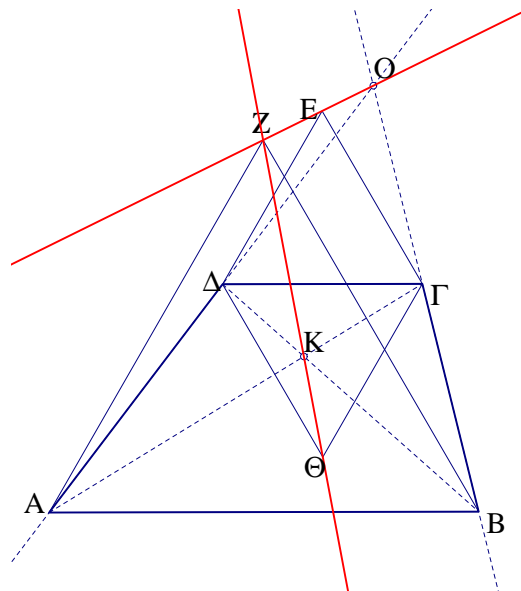
Οι παράλληλες πλευρές κάθε τραπέζιου είναι ομοιόθετα ευθύγραμμα τμήματα ως προς δύο ομοιοθεσίες. Μία θετική με κέντρο το σημείο τομής των μη παραλλήλων πλευρών του και μία αρνητική με κέντρο το σημείο τομής των διαγωνίων του. Και στις δύο αυτές ομοιοθεσίες, το μέσον της μίας πλευράς απεικονίζεται στο μέσον της άλλης. Η ευθεία που ορίζεται από δύο ομόλογα σημεία περνά από το κέντρο ομοιοθεσίας (Σχήμα 115).

4.3 ΕΦΑΡΜΟΓΗ ΤΗΣ ΟΜΟΙΟΘΕΣΙΑΣ ΣΕ ΠΡΟΒΛΗΜΑΤΑ

Πρόβλημα 4.1 Δίνεται τραπέζιο $ABΓΔ$. Με πλευρές τις παράλληλες πλευρές AB και $ΓΔ$, κατασκευάζουμε ισόπλευρα τρίγωνα ABZ , $ΓΔΕ$ και $ΓΔΘ$ όπως στο Σχήμα 116. Ναδειχθεί ότι η $Z\Theta$ περνά από το σημείο τομής των διαγωνίων και η ZE από το σημείο τομής των $ΑΔ$ και $BΓ$.



Σχήμα 115: Ομοιοθεσία στο τραπέζιο



Σχήμα 116: Ισόπλευρα σε τραπέζιο

Απόδειξη:

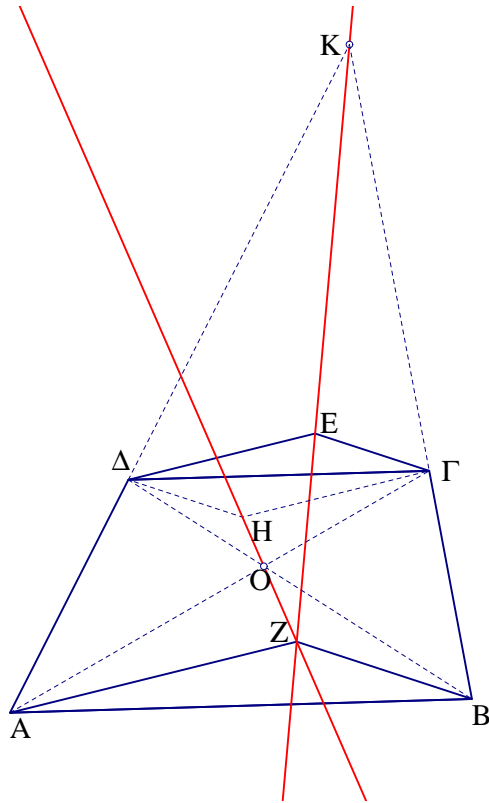
Τα τρίγωνα ABZ και $ΓΔΘ$ είναι ομοιόθετα με εσωτερικό κέντρο ομοιοθεσίας το K , ενώ τα ABZ και $ΓΔΕ$ είναι ομοιόθετα με εξωτερικό κέντρο ομοιοθεσίας το O (Σχήμα 116). Το ίδιο συμβαίνει αν αντί για ισόπλευρα, κατασκευάσουμε όμοια μεταξύ τους τρίγωνα (Σχήμα 117)

Πρόβλημα 4.2 Αν AB και $ΓΔ$ είναι οι παράλληλες πλευρές τραπέζιου $ABΓΔ$ και E το σημείο τομής των διαγωνίων του, ναδειχθεί ότι οι περιγεγραμμένοι κύκλοι των τριγώνων ABE και $ΓΔΕ$, εφάπτονται εξωτερικά στο E και η διάκεντρος τους περνά από το E .

Απόδειξη:

Το σημείο E είναι κέντρο αρνητικής ομοιοθεσίας που απεικονίζει την AB στην $ΓΔ$, άρα και το τρίγωνο ABE στο $ΓΔΕ$. Επομένως το σημείο E είναι κέντρο ομοιοθεσίας, άρα και σημείο επαφής των δύο κύκλων.

Πρόβλημα 4.3 Να εγγραφεί τετράγωνο σε δοθέν τρίγωνο $ABΓ$, με την μία πλευρά επί της $BΓ$ και τις άλλες δύο κορυφές επί των AB και $ΑΓ$.



Σχήμα 117: Όμοια τρίγωνα σε τραπέζιο

Απόδειξη:

Το τετράγωνο $BΓΔΘ$ πλευράς $BΓ$ είναι ομοιόθετο του ζητούμενου με κέντρο ομοιοθεσίας το A και λόγο $ΘΚ:ΔΕ$. Βρίσκοντας τα $Θ$ και K , προσδιορίζουμε τα $Δ$ και E . (Σχήμα 119)

Πρόβλημα 4.4 Σε δοθέν τετράπλευρο $ABΓΔ$ να εγγραφεί ρόμβος, με πλευρές παράλληλες προς τις πλευρές του τετραπλεύρου

Απόδειξη:

Έστω $KΛΜΝ$ ο ζητούμενος ρόμβος (Σχήμα 120). Κατασκευάζουμε ρόμβο $BΔZE$ με πλευρά την διαγώνιο $BΔ$ του τετραπλεύρου. Οι δύο ρόμβοι είναι ομοιόθετα σχήματα με κέντρο την κορυφή A , γιατί A είναι το εξωτερικό κέντρο των ομοιόθετων τμημάτων $BΔ$ και AK . Έτσι η ζητούμενη κατασκευή είναι πάντα δυνατή, καθώς οι AE και AZ τέμνουν πάντα τις $BΓ$ και $ΓΔ$, άρα τα σημεία M και N προσδιορίζονται.

Πρόβλημα 4.5 Να αχθεί ευθεία, διερχόμενη από δοθέν σημείο M και το σημείο τομής δύο δοθέντων τεμνόμενων ευθειών.

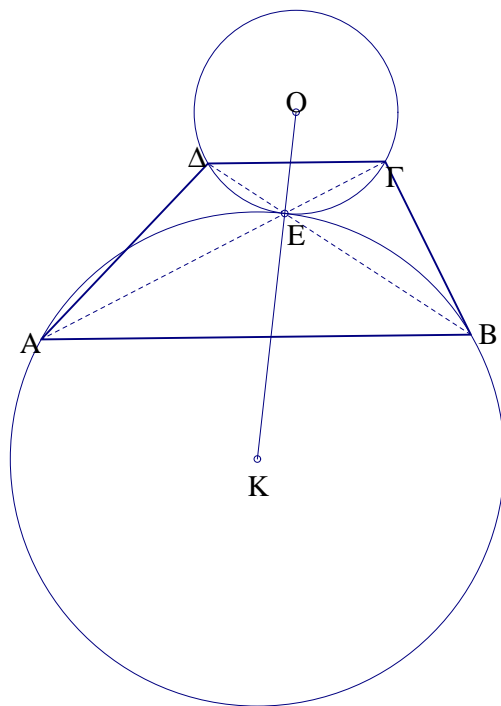
Απόδειξη:

Ορίζουμε ομοιοθεσία κέντρου M και λόγου αρκετά μικρού ώστε οι εικόνες των δοθέντων ευθειών μέσω του μετασχηματισμού αυτού να τέμνονται σε σημείο O που είναι προσεγγίσιμο. Η ευθεία OM διέρχεται και από το μη προσεγγίσιμο σημείο τομής των δοθέντων ευθειών, καθώς διέρχεται από το κέντρο ομοιοθεσίας και από την εικόνα του (Σχήμα 121) [2].

Πρόβλημα 4.6 Να αχθεί ευθεία διερχόμενη από δοθέν σημείο M και παράλληλη προς την ευθεία που ορίζεται από τα δύο σημεία τομής δύο δοθέντων ζευγών τεμνόμενων ευθειών, τα οποία δεν μπορούμε να προσεγγίσουμε σε κάποιο σχήμα.

Απόδειξη:

Έστω ϵ_1, ϵ_2 και ϵ_3, ϵ_4 δύο ζεύγη τεμνόμενων ευθειών. Κατασκευάζουμε τις εικόνες τους



Σχήμα 118: Εφαπτόμενοι κύκλοι

μέσω ομοιοθεσίας κέντρου M και λόγου αρκετά μικρού, ώστε οι εικόνες τους να τέμνονται σε σημεία που μπορούμε να προσεγγίσουμε (Σχήμα 122) [2].

Πρόβλημα 4.7 Να αποδειχθεί ότι το βαρύκεντρο ενός τριγώνου $AB\Gamma$ βρίσκεται στην ευθεία που ορίζεται από το ορθόκεντρο H και το περίκεντρο O (ευθεία του *Euler*) και χωρίζει το ευθύγραμμο τμήμα OH σε λόγο 1:2.

Απόδειξη:

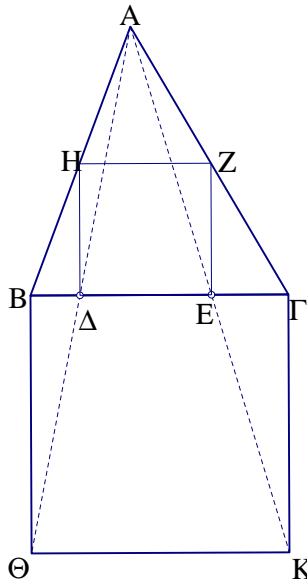
Το τρίγωνο MNA που ενώνει τα μέσα των πλευρών του $AB\Gamma$ είναι ομοίωτο αυτού με κέντρο Γ και λόγο $-\frac{1}{2}$. Το περίκεντρο O είναι ορθόκεντρο του MNA , άρα απεικονίζεται στο H , επομένως η ευθεία που ορίζουν περνά από το κέντρο ομοιοθεσίας Γ και $\frac{OG}{GH} = \frac{1}{2}$ (Σχήμα 123).

Πρόβλημα 4.8 Ναδειχθεί ότι οι ευθείες που άγονται από τα μέσα των πλευρών τυχαίου τριγώνου $AB\Gamma$ παράλληλες προς τις διχοτόμους των απέναντι γωνιών, συντρέχουν σε σημείο K που βρίσκεται πάνω στην ευθεία που ενώνει το έκκεντρο I με το βαρύκεντρο Γ του τριγώνου και $\frac{KG}{GI} = \frac{1}{2}$

Απόδειξη:

Όπως και στο προηγούμενο πρόβλημα, τα τρίγωνα MNA και $AB\Gamma$ είναι ομοίωτα. Οι ευθείες που φέραμε παράλληλα με τις διχοτόμους του $AB\Gamma$ είναι ομοίωτες με αυτές ως προς την ίδια ομοιοθεσία, άρα συντρέχουν σε σημείο K , που είναι η εικόνα του έκκεντρου I . (Σχήμα 124)

Πρόβλημα 4.9 Δίνεται τρίγωνο $AB\Gamma$, ο εγγεγραμμένος του κύκλος (I, ρ) , καθώς και οι τρεις παρεγγεγραμμένοι σε αυτό κύκλοι (I_α, ρ_α) , (I_β, ρ_β) και (I_γ, ρ_γ) . Ναδειχθεί ότι:
 α) Το αντιδιαμετρικό σημείο του σημείου επαφής του (I, ρ) με μία πλευρά του $AB\Gamma$ (έστω Z αντιδιαμετρικό του σημείου επαφής E με την α) και το σημείο επαφής του αντίστοιχου παρεγγεγραμμένου κύκλου με την ίδια πλευρά (έστω K), είναι συνευθειακά με την αντίστοιχη



Σχήμα 119: Εγγραφή τετραγώνου σε τρίγωνο

κορυφή (δηλαδή τα A, K και Z είναι συνευθειακά).

β) Οι AK, BΣ και ΓΡ συντρέχουν σε σημείο N, συνευθειακό με τα I και Γ και ισχύει $\frac{IG}{GN} = \frac{1}{2}$, όπου Σ και Ρ τα αντίστοιχα σημεία επαφής των (I_β, ρ_β) και (I_γ, ρ_γ) με τις αντίστοιχες πλευρές. Το σημείο N ονομάζεται σημείο *Nagel* του τριγώνου (Σχήμα 125).

Απόδειξη:

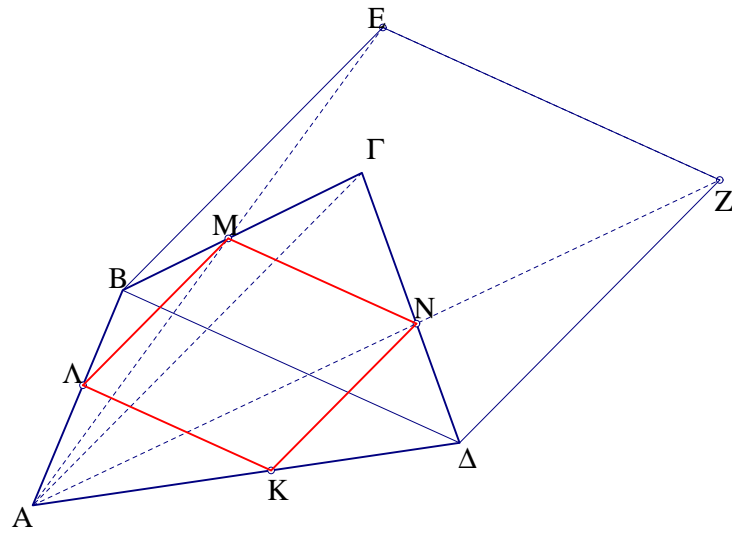
α) Φέρνουμε την παράλληλη από το Z προς την BΓ, η οποία εφάπτεται του εγγεγραμμένου κύκλου και τέμνει τις AB και AΓ στα Θ και Λ. Τα τρίγωνα AΘΛ και ABΓ είναι ομοιόθετα με κέντρο A και λόγο AΘ:AB, άρα το ίδιο ισχύει και για τους κύκλους (I, ρ) και (I_α, ρ_α) . Άρα το σημείο K είναι η εικόνα του Z.

β) Το μέσο M της BΓ είναι μέσο και της EK καθώς BE=KΓ=τ-β, όπου τ η ημιπερίμετρος του ABΓ. Άρα η AK είναι παράλληλη της IM και το ίδιο ισχύει για τις BΣ και ΓΡ με τις IE και ΙΠ αντίστοιχα. Έτσι οι AK, BΣ και ΓΡ συντρέχουν στο σημείο N με $\frac{IG}{GN} = \frac{1}{2}$ λόγω της ομοιοθεσίας των τριγώνων MEΠ και ABΓ με κέντρο το Γ.

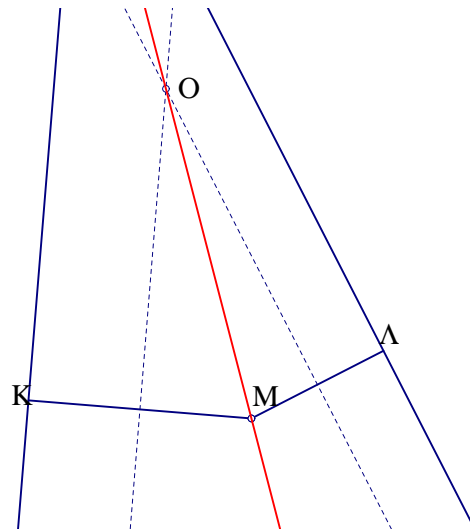
Πρόβλημα 4.10 Ναδειχθεί ότι τα μέσα Λ, M, N των πλευρών τυχαίου τριγώνου ABΓ, τα ίχνη των υψών του και τα μέσα των τμημάτων που ενώνουν τις κορυφές του με το ορθόκέντρο του, είναι ομοκυκλικά σημεία και το κέντρο του κύκλου τους είναι το μέσο της OΗ, όπου O το περίκέντρο και H το ορθόκέντρο του τριγώνου (Κύκλος των εννέα σημείων, η κύκλος του *Euler*).

Απόδειξη:

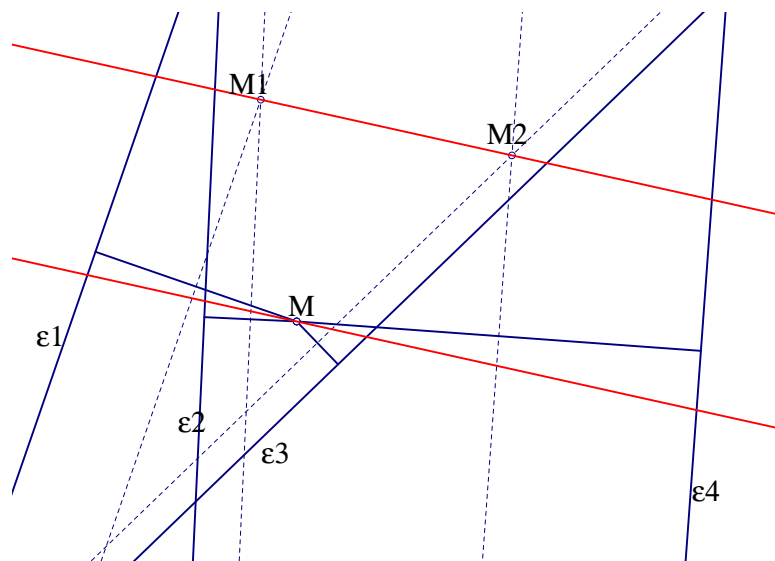
Το τρίγωνο LMN που όπως είδαμε είναι ομοιόθετο του αρχικού, έχει περίκέντρο το K, την εικόνα του O μέσω της ομοιοθεσίας κέντρου G και λόγου $\frac{1}{2}$. Άρα $\frac{GK}{GO} = \frac{1}{2}$. Επομένως το K είναι μέσο του HO και η ακτίνα του κύκλου είναι $\frac{R}{2}$, όπου R η ακτίνα του περικύκλου του ABΓ. Αρκεί να δείξουμε ότι και τα υπόλοιπα 6 σημεία ανήκουν στον κύκλο $(K, \frac{R}{2})$. Το τρίγωνο ΣΡΠ είναι ομοιόθετο του ABΓ με κέντρο H και λόγο $\frac{1}{2}$, άρα ο περικύκλος του είναι ο $(K, \frac{R}{2})$. Τα ίχνη τέλος των τριών υψών είναι σημεία του ίδιου κύκλου καθώς τα συμμετρικά τους ως προς άξονες κάθετους στις αντίστοιχες πλευρές, είναι τα μέσα των πλευρών αυτών. (Σχήμα 126).



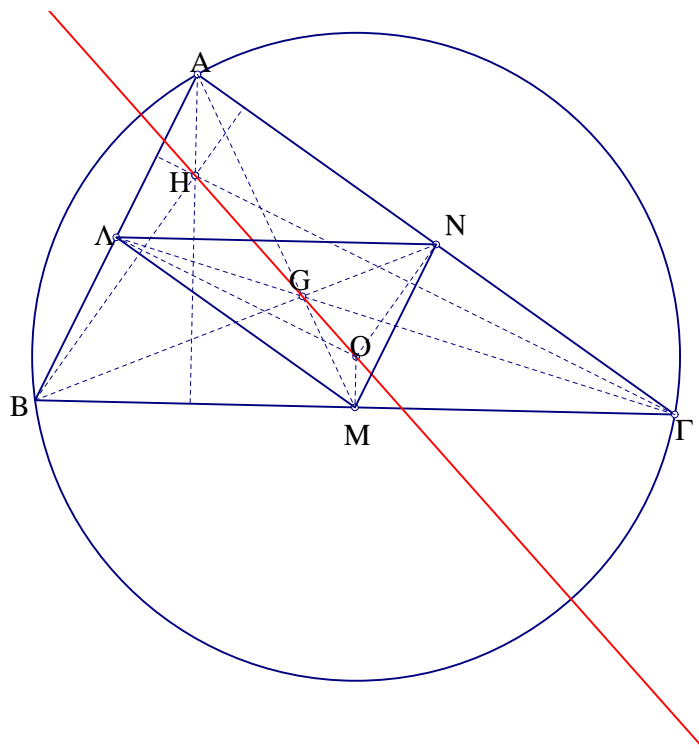
Σχήμα 120: Εγγραφή ρόμβου σε τετράπλευρο



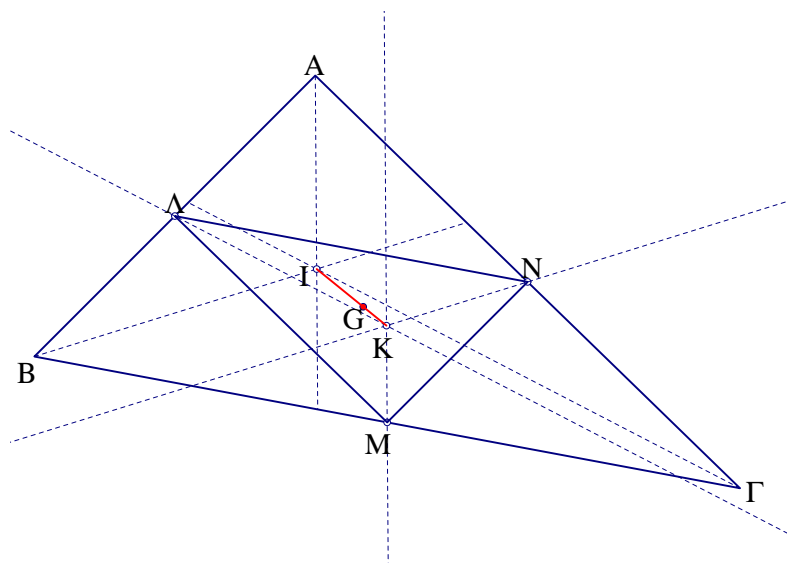
Σχήμα 121: Σημείο τομής δύο ευθειών



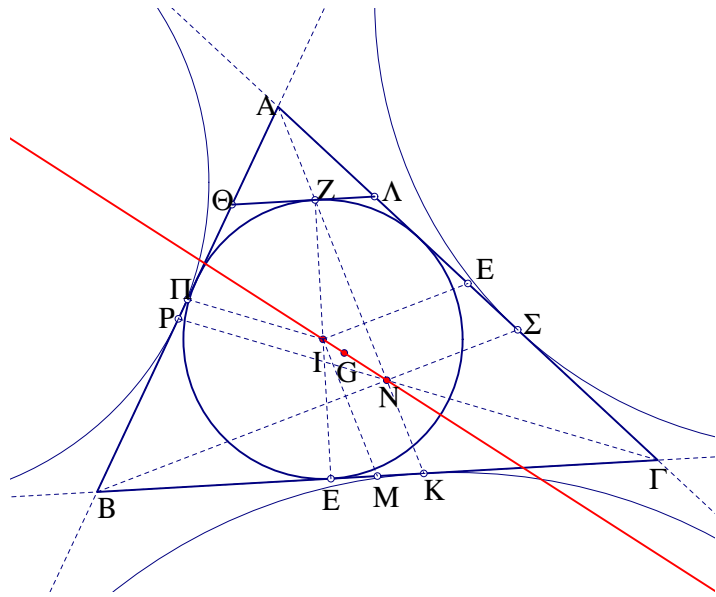
Σχήμα 122: Δύο ζεύγη τεμνόμενων ευθειών



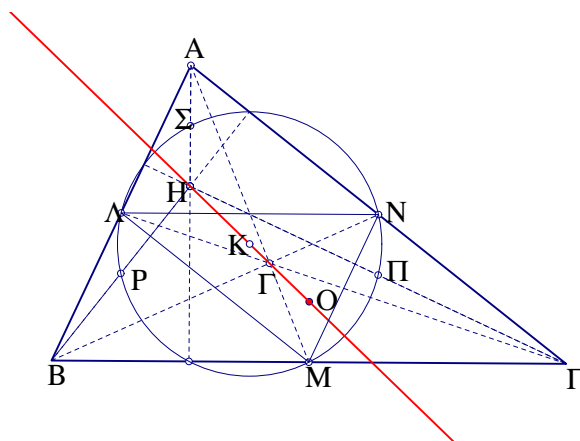
Σχήμα 123: Ευθεία Euler



Σχήμα 124: Συντρέχουσες ευθείες

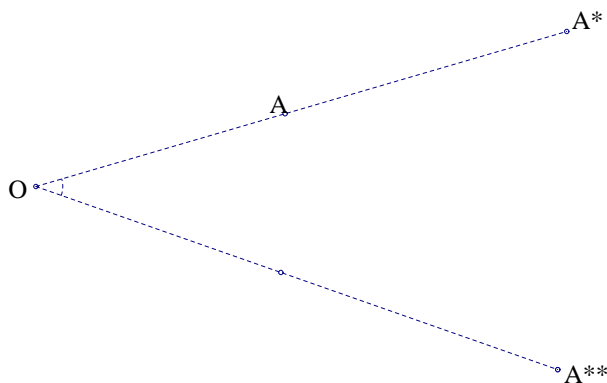


Σχήμα 125: Συνευθειακά κέντρα



Σχήμα 126: Κύκλος 9 σημείων

4.4 ΟΜΟΙΟΤΗΤΑ ΟΜΟΡΡΟΠΟΣ (*Spiral Similarity*)



Σχήμα 127: Ομόρροπη ομοιότητα

Ορισμός 4.2 Ονομάζουμε *ομόρροπο ομοιότητα* (*spiral similarity* ή *homology*) την οποία συνήθως ονομάζουμε απλά ομοιότητα, τον μετασχηματισμό που είναι σύνθεση μιάς ομοιοθεσίας $H(O, \kappa)$ και μιάς ομορρόπου ισότητας. Δηλαδή μία ομοιότητα, ισοδυναμεί πάντα με σύνθεση μιάς θετικής ομοιοθεσίας με μία στροφή $R(O, \theta)$ (Σχήμα 127). Το κέντρο O ονομάζεται *κέντρο* ή *διπλό σημείο* ομοιότητας του μετασχηματισμού.

Παρατήρηση Είναι εύκολο να παρατηρήσουμε ότι η παραπάνω σύνθεση είναι αντιμεταθετική. Αν η ομοιοθεσία $H(O, \kappa)$ είναι θετική, η αντίστοιχη σύνθεση με αρνητική ομοιοθεσία είναι ισοδύναμη με σύνθεση θετικής ομοιοθεσίας με στροφή κατά γωνία μεγαλύτερη κατά π καθώς η αρνητική ομοιοθεσία είναι σύνθεση της αντίστοιχης θετικής με μία ημιστροφή:

$$H(O, -\kappa) = H(O, \kappa) \circ R(O, \pi) \Rightarrow H(O, -\kappa) \circ R(O, \theta) = H(O, \kappa) \circ R(O, \pi) \circ R(O, \theta) = H(O, \kappa) \circ R(O, \pi + \theta)$$

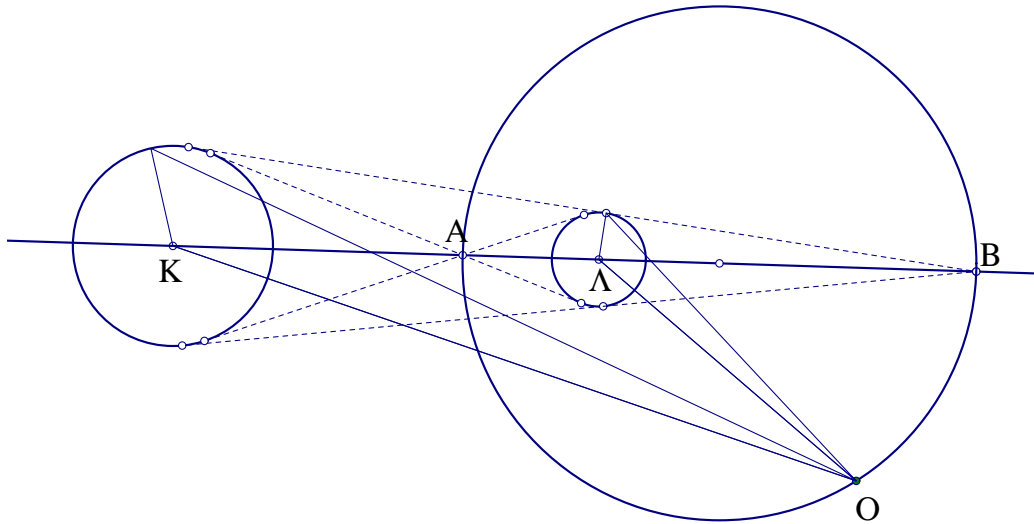
Πρόταση 4.9 Δεδομένων δύο ομορρόπως ομοίων σχημάτων X και Y , υπάρχει μία μοναδική ομοιότητα που απεικονίζει το X στο Y . Ομορρόπως όμοια, λέγονται δύο όμοια σχήματα X και Ψ , τέτοια ώστε αν X^* είναι η εικόνα του X μέσω θετικής ομοιοθεσίας λόγου ίσου με το λόγο ομοιότητας του Ψ προς το X , τα X^* και Y είναι ομορρόπως ίσα.

Κύκλος ομοιότητας Δίνονται δύο κύκλοι διαφορετικών κέντρων K και Λ και διαφορετικών ακτίνων. Ο Απολλώνιος κύκλος των K και Λ με λόγο ίσο με τον λόγο των αντίστοιχων ακτίνων τους, ονομάζεται *κύκλος ομοιότητας* (*similarity circle*) των δύο κύκλων και είναι ο γεωμετρικός τόπος των κέντρων ομοιοτήτων που απεικονίζουν τον ένα κύκλο στον άλλο (Σχήμα 128). Ο κύκλος ομοιότητας, στην περίπτωση ξένων μεταξύ τους κύκλων, έχει προφανώς διάμετρο το ευθύγραμμο τμήμα που έχει άκρα το εσωτερικό και το εξωτερικό κέντρο ομοιοθεσίας των δύο κύκλων. Στην περίπτωση τεμνόμενων κύκλων, ο κύκλος αυτός περνά από τα κοινά σημεία των δύο κύκλων (Σχήμα 129). Στην περίπτωση ομόκεντρων κύκλων, υπάρχει ένα μόνο κέντρο ομοιότητας, το κοινό τους κέντρο, το οποίο είναι κέντρο της ομοιοθεσίας που απεικονίζει τον ένα στον άλλο.

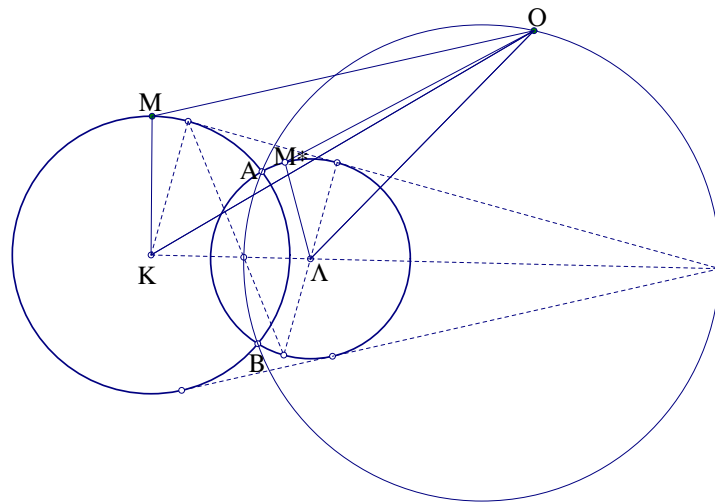
Πρόταση 4.10 Έστω δύο τεμνόμενοι σε σημεία A και B κύκλοι, κέντρων O και K . Κάθε ένα από τα σημεία τομής είναι κέντρο ομοιότητας γωνίας ίσης με την γωνία \widehat{OAK} και λόγου ίσου με τον λόγο των ακτίνων τους. Επίσης το ευθύγραμμο τμήμα που ενώνει δύο ομόλογα σημεία διέρχεται από το δεύτερο σημείο τομής των δύο κύκλων.

Απόδειξη:

Κέντρο ομοιότητας δύο κύκλων Έστω XX^* ένα ευθύγραμμο τμήμα με άκρα στους δύο κύκλους, που περνά από το B . Το τρίγωνο AXX^* παραμένει όμοιο προς εαυτό και όμοιο προς το σταθερό AOK .



Σχήμα 128: Κύκλος ομοιότητας



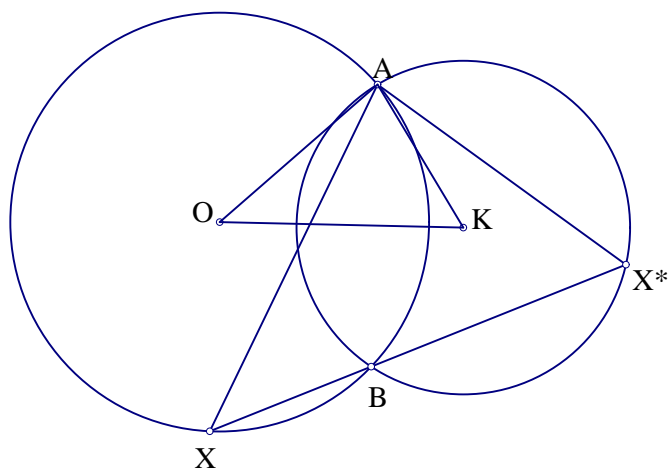
Σχήμα 129: Κύκλος ομοιότητας τεμνόμενων κύκλων

Πρόβλημα 4.11 Δίνεται ορθογώνιο $AB\Gamma\Delta$ εγγεγραμμένο σε κύκλο και σημείο Σ του κύκλου. Αν οι παράλληλες από το Σ προς τις πλευρές του ορθογωνίου τέμνουν τις πλευρές AB , $\Gamma\Delta$, $A\Delta$ και $B\Gamma$ (ή τις προεκτάσεις τους) στα σημεία E , Z , H και Θ αντίστοχα, ναδειχθεί ότι οι EH και ΘZ είναι κάθετες και τέμνονται πάνω στην διαγώνιο $B\Delta$ [10].

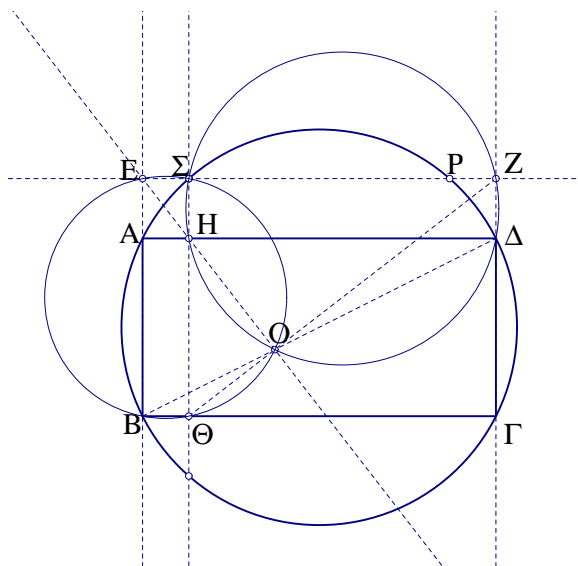
Απόδειξη:

Από την ομοιότητα των ορθογωνίων $E\Sigma\Theta B$ και $H\Sigma Z\Delta$, προκύπτει ότι το Σ είναι κέντρο ομοιότητας ορθής γωνίας που απεικονίζει τον περίκυκλο του πρώτου σε εκείνο του δεύτερου. Η εικόνα του B είναι το Δ , του Θ είναι το Z και του E το H . Επομένως τα ευθύγραμμα τμήματα $B\Delta$, ΘZ και EH περνάνε από το δεύτερο κοινό σημείο των δύο κύκλων, το O . Επί πλέον το Σ αποτρέπει και κέντρο ομοιότητας ορθής γωνίας, των ομοίων ορθογωνίων $\Sigma E A H$ και $\Sigma \Theta \Gamma Z$. Επομένως οι ομόλογες διαγώνιες τους EH και ΘZ τέμνονται κάθετα (Σχήμα 131).

Πρόταση 4.11 Έστω $A^*B^*\Gamma^*$ η εικόνα ενός τριγώνου $AB\Gamma$ μέσω μιάς ομοιότητας και $A!$, $B!$ και $\Gamma!$ σημεία που χωρίζουν τις AA^* , BB^* και $\Gamma\Gamma^*$ σε ίσους λόγους. Τό τριγώνο $A!B!\Gamma!$



Σχήμα 130: Κέντρο ομοιότητας δύο κύκλων



Σχήμα 131: Εγγεγραμμένο ορθογώνιο

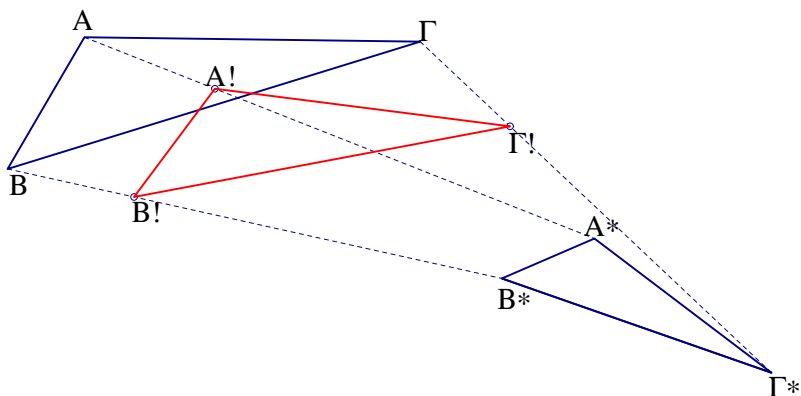
είναι όμοιο με το αρχικό.

Απόδειξη:

Αν O το σταθερό σημείο της αρχικής ομοιότητας, τότε είναι το σταθερό σημείο άλλης ομοιότητας που απεικονίζει το AA^* στο BB^* , άρα και το AA' στο BB' . Έτσι υπάρχει ομοιότητα κέντρου O και γωνίας ίσης με την $\widehat{AOA'}$ που απεικονίζει το AA' στο BB' . Άρα η ομοιότητα κέντρου O και γωνίας ίσης με \widehat{AOB} απεικονίζει το AB στο $A'B'$. Με τον ίδιο τρόπο αποδεικνύεται ότι η τελευταία ομοιότητα, απεικονίζει το $ΑΓ$ στο $A'Γ'$ και το $BΓ$ στο $B'Γ'$, δηλαδή τελικά το τρίγωνο $ΑΒΓ$ στο $A'B'Γ'$ (Σχήμα 132).

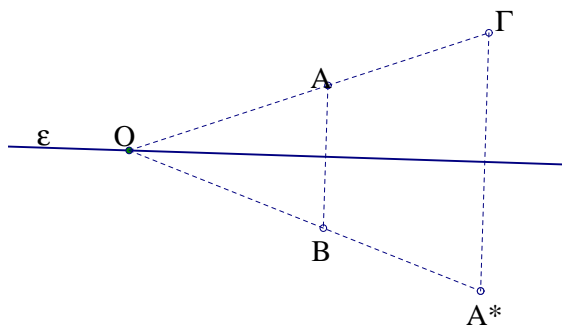
4.5 ΟΜΟΙΟΤΗΤΑ ΑΝΤΙΠΡΟΠΟΣ((Dilative Reflection)

Ορισμός 4.3 Αντίρροπος ή σπειροειδής ομοιότητα (*dilatative reflection* η *antihomology*) ονομάζεται ο μετασχηματισμός που είναι σύνθεση μιάς ομοιοθεσίας $H(O, κ)$ και μιάς αντίρροπης ισότητας. Δηλαδή μία αντίρροπος ομοιότητα, ισοδυναμεί πάντα με τη σύνθεση μιάς ομοιοθεσίας



Σχήμα 132: Όμοια τρίγωνα

κέντρου O και μιάς ανάκλασης σε άξονα ε που περνά από το O . Το σημείο O ονομάζεται κέντρο της αντίρροπης ομοιότητας. (Σχήμα 133)



Σχήμα 133: Αντίρροπος ομοιότητα

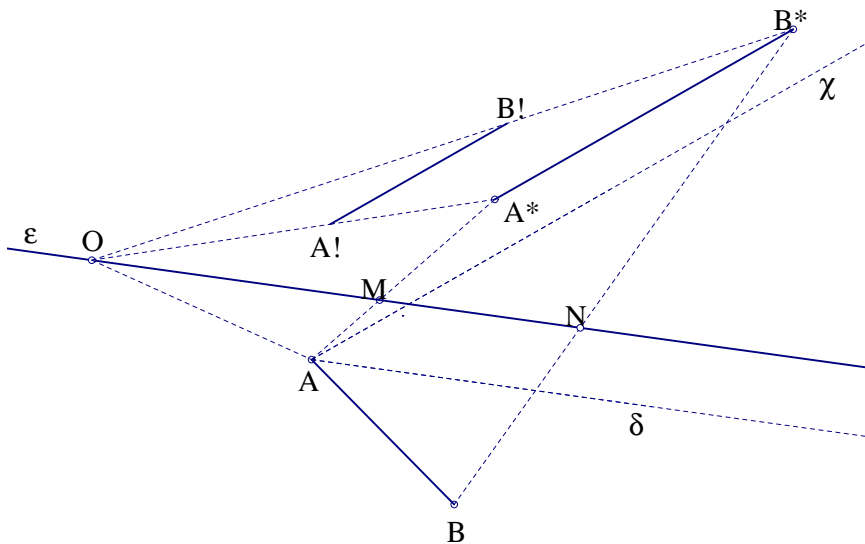
Πρόταση 4.12 Δεδομένων δύο αντιρρόπως ομοίων σχημάτων X και Ψ , υπάρχει μία μοναδική αντίρροπος ομοιότητα που απεικονίζει το X στο Ψ . Αντιρρόπως όμοια λέγονται δύο όμοια σχήματα X και Ψ , τέτοια ώστε αν X^* είναι η εικόνα του X μέσω ομοιοθεσίας λόγου ίσου με το λόγο ομοιότητας του Ψ προς το X , τα X^* και Ψ είναι αντιρρόπως ίσα.

Απόδειξη:

Έστω AB και A^*B^* δύο ομόλογα ευθύγραμμα τμήματα του μετασχηματισμού. Αν O είναι το διπλό σημείο του μετασχηματισμού, τότε οι λόγοι OA/OA^* και OB/OB^* είναι ίσοι με τον λόγο AB/A^*B^* . Επομένως ο άξονας ε του μετασχηματισμού περνά από τα σημεία M και N που χωρίζουν τα AA^* και BB^* σε λόγους ίσους με τους τρεις παραπάνω και διχοτομεί τις γωνίες που σχηματίζουν οι OA με OA^* , OB και με OB^* , όπως επίσης είναι παράλληλος της διχοτόμου δ της γωνίας που σχηματίζει το AB με την ημιευθεία $A\chi$, παράλληλη του A^*B^* . Έστω $A!B!$ το συμμετρικό του AB ως προς την ε . Το σημείο O προσδιορίζεται σαν κέντρο ομοιοθεσίας των $A!B!$ και AB (Σχήμα 134).

Παρατήρηση 1:

Με τον ίδιο τρόπο μπορούμε να εκφράσουμε την παραπάνω αντίρροπο ομοιότητα, σαν σύνθεση ανάκλασης σε ευθεία $\varepsilon!$ κάθετη στην ε και παράλληλη της εξωτερικής διχοτόμου της γωνίας που σχηματίζει το AB με την ημιευθεία $A\chi$ (Σχήμα 135). Και η $\varepsilon!$, όπως η ε , διέρχονται από το σημείο O , το οποίο είναι το σημείο τομής των Απολλώνιων κύκλων των ευθυγράμμων τμημάτων AA^* και BB^* με λόγο AB/A^*B^* . Το O είναι κέντρο θετικής



Σχήμα 134: Κέντρο ομοιότητας

ομοιοθεσίας του $A'B'$ με το AB , ενώ είναι κέντρο αρνητικής ομοιοθεσίας του $A''B''$, (είκόνας ανάκλασης του AB ως προς ϵ !) με το AB . Η ευθεία ϵ ονομάζεται *ευθεία των αναλόγων διαιρέσεων* για τις ευθείες AB και $A'B'$.

Παρατήρηση 2:

Στην περίπτωση που ο λόγος ομοιότητας είναι ίσος με 1, δηλαδή έχουμε $AB=A'B^*$, η ευθεία ϵ ονομάζεται *ευθεία των μέσων* όπως την ονόμασε πρώτος ο *Chasles* το 1860. Στην περίπτωση αυτή, το ένα τμήμα απεικονίζεται στο άλλο μέσω ολισθανάκλασης με άξονα την ϵ (Σχήμα 136).

Πρόταση 4.13 Έστω τυχαίο τετράπλευρο $AB\Gamma\Delta$, Λ, N τα αρμονικά συζυγή των B, Δ με λόγο ίσο προς $AB/\Gamma\Delta$ και K, M τα αρμονικά συζυγή των A, Γ με τον ίδιο λόγο. Τότε οι ΛK και MN τέμνονται κάθετα σε σημείο O που είναι κέντρο σπειροειδούς ομοιότητας που απεικονίζει την πλευρά AB στην $\Gamma\Delta$.

Απόδειξη:

Προκύπτει άμεσα από την προηγούμενη πρόταση, καθώς το σημείο O είναι κοινό σημείο των αντίστοιχων Απολλώνιων κύκλων των δύο διαγωνίων (Σχήμα 137).

Παρατήρηση:

Το δεύτερο κοινό σημείο Σ των δύο κύκλων είναι κέντρο ομόρροπης ομοιότητας που απεικονίζει την AB στην $\Gamma\Delta$, επομένως είναι κοινό σημείο και των κύκλων APB και $\Gamma P\Delta$, όπου P είναι το κοινό σημείο των $A\Gamma$ και $B\Delta$.

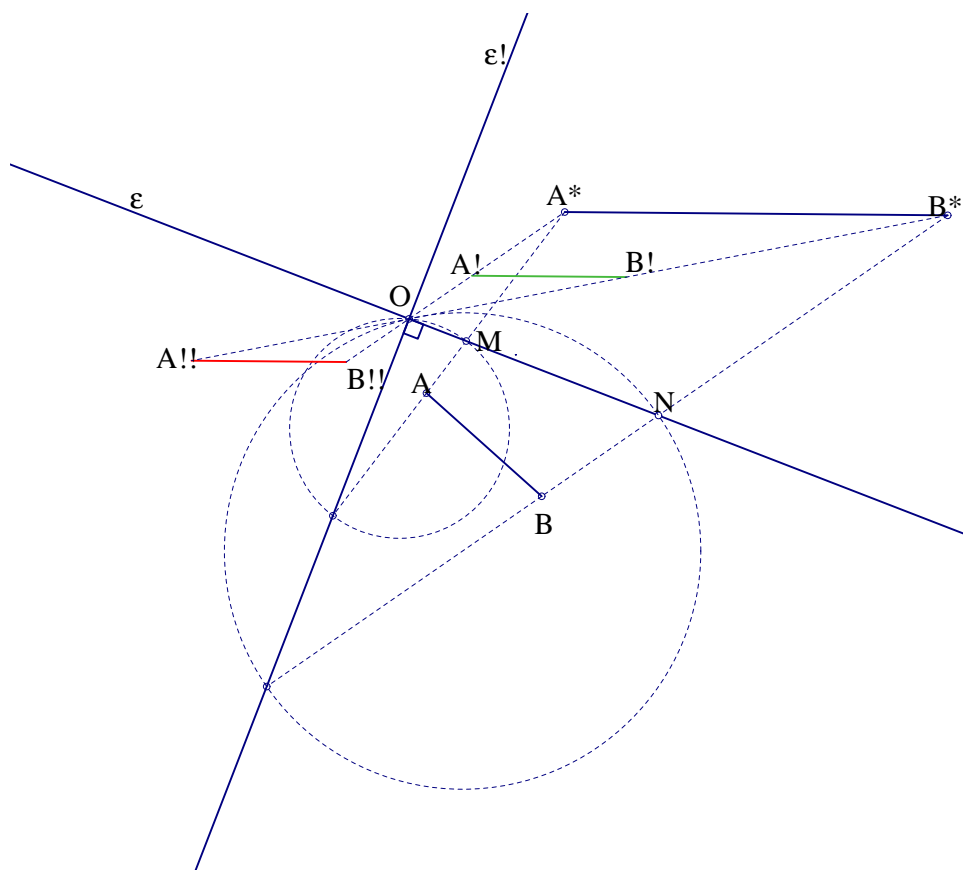
Πρόβλημα 4.12 Να κατασκευαστεί τετράπλευρο $AB\Gamma\Delta$ όταν δίνονται τα μήκη των τεσσάρων πλευρών του και το άθροισμα δύο απέναντι γωνιών του.

Απόδειξη:

Έστω $AB\Gamma\Delta$ το προς κατασκευή τετράπλευρο. Με πλευρά $B\Gamma$, κατασκευάζουμε τετράπλευρο $B\Gamma Z\epsilon$ όμοιο του αρχικού, έτσι ώστε το τελευταίο να είναι εικόνα του αρχικού, μέσω αντιρρόπου ομοιότητας που απεικονίζει το ευθύγραμμο τμήμα $A\Delta$ στο ΓB .

$$\widehat{\Delta AB} + \widehat{AB\Gamma} + \widehat{\Gamma B\epsilon} + \widehat{\epsilon BZ} = 360^\circ$$

Επομένως το $A\Delta Z\epsilon$ είναι τραπέζιο και κατασκευάζεται από τα γνωστά μήκη των τεσσάρων πλευρών του, καθώς οι πλευρές $A\epsilon$ και ΔZ είναι βάσεις τργώνων $A\epsilon B$ και $\Delta Z\Gamma$ αντίστοιχα, τα οποία έχουν γνωστά μήκη των άλλων δύο πλευρών και τις περιεχόμενες γωνίες ίσες με τα αθροίσματα των απέναντι γωνιών του $AB\Gamma\Delta$. (Σχήμα 138).



Σχήμα 135: Κέντρο ομοιότητας

Πρόβλημα 4.13 Να αποδειχθεί ότι από τα τετράπλευρα $AB\Gamma\Delta$ με δεδομένα μήκη πλευρών, το μέγιστο εμβαδόν έχει το εγγράψιμο.

Απόδειξη:

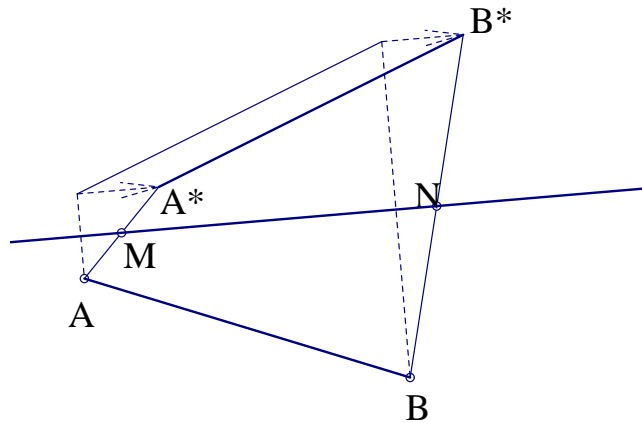
Εφαρμόζουμε την ομοιότητα του προηγούμενου προβλήματος και κατασκευάζουμε το τετράπλευρο $\Delta\Gamma\epsilon\zeta$. Στην θέση $ABMN$ που το αρχικό τετράπλευρο είναι εγγράψιμο, οι πλευρές NH και $M\Theta$ του όμοιού του $NM\Theta H$, είναι προεκτάσεις των AN και BM (Σχήμα 139). Επίσης αποδεικνύεται ότι η προβολή της πλευράς $H\Theta$ πάνω στην AB είναι σταθερή για τις διάφορες θέσεις των κορυφών Γ και Δ , αν κρατήσουμε σταθερή τη θέση της AB και τα μήκη των πλευρών του αρχικού τετραπλεύρου. Επομένως το τραπέζιο $AB\Theta H$ έχει το μέγιστο ύψος από όλα όσα σχηματίζονται, επομένως και το μέγιστο εμβαδόν.

4.6 ΣΗΜΕΙΑ *BROCARD*

Πρόταση 4.14 Έστω O_1 και O_2 τα σημεία *Brocard* τυχαίου τριγώνου $AB\Gamma$ και X το σημείο τομής των AO_1 και BO_2 , P το σημείο τομής των ΓO_1 και AO_2 και Y το σημείο τομής των BO_1 και ΓO_2 . Τότε τα O_1 και O_2 ισαπέχουν από το περίκεντρο O του $AB\Gamma$ και $\widehat{O_1 O O_2} = 2\omega$ όπου ω η γωνία *Brocard* του $AB\Gamma$. Επίσης το τρίγωνο $Y P X$ είναι αντιρρόπως όμοιο του $AB\Gamma$ και οι κορυφές του ανήκουν στον κύκλο $O_1 O_2 O$ (κύκλος *Brocard*). Το τρίγωνο $Y P X$ ονομάζεται πρώτο τρίγωνο *Brocard* του τριγώνου $AB\Gamma$.

Απόδειξη:

Έστω $\Delta\epsilon\zeta$ το τρίγωνο που ορίζεται από τα σημεία τομής με τον περίκυκλο του $AB\Gamma$, των ευθειών που ορίζονται από το O_1 και κάθε μία από τις κορυφές του αρχικού τριγώνου (Σχήμα 140). Τα τόξα $B\Delta$, $\Gamma\zeta$ και $A\epsilon$ έχουν μέτρο διπλάσιο της γωνίας *Brocard* ω . Επομένως το τρίγωνο $\Delta\epsilon\zeta$ είναι εικόνα του $AB\Gamma$ μέσω στροφής περί το O και γωνίας ίσης με 2ω . Από



Σχήμα 136: Ευθεία των μέσων

τις εγγεγραμμένες γωνίες $\widehat{ADE} = \widehat{BZ\Delta} = \widehat{\Gamma EZ} = \omega$, προκύπτει ότι το σημείο O_1 είναι δεύτερο σημείο *Brocard* του τριγώνου ΔEZ . Επομένως το O_1 είναι εικόνα του O_2 μέσω στροφής κέντρου O και γωνίας 2ω . Από τα τρίγωνα AXB , $B\Upsilon\Gamma$ και ΓPA , βλέπουμε ότι $\widehat{BXO_1} = \widehat{O_1\Upsilon O_2} = \widehat{APO_1} = 2\omega$, επομένως τα σημεία X , Υ και P ανήκουν στον κύκλο O_1OO_2 . Άρα γωνίες του τριγώνου $X\Upsilon P$ είναι:

$$\widehat{X} = \widehat{PO_1\Upsilon} = \widehat{\Gamma}, \widehat{\Upsilon} = \widehat{XO_2P} = \widehat{A}, \widehat{P} = \widehat{XO_1\Upsilon} = \widehat{B}$$

Πρόβλημα 4.14 Ναδειχθεί ότι το πρώτο τρίγωνο *Brocard* ενός τριγώνου $AB\Gamma$ έχει κοινό βαρύκεντρο με το $AB\Gamma$.

Απόδειξη:

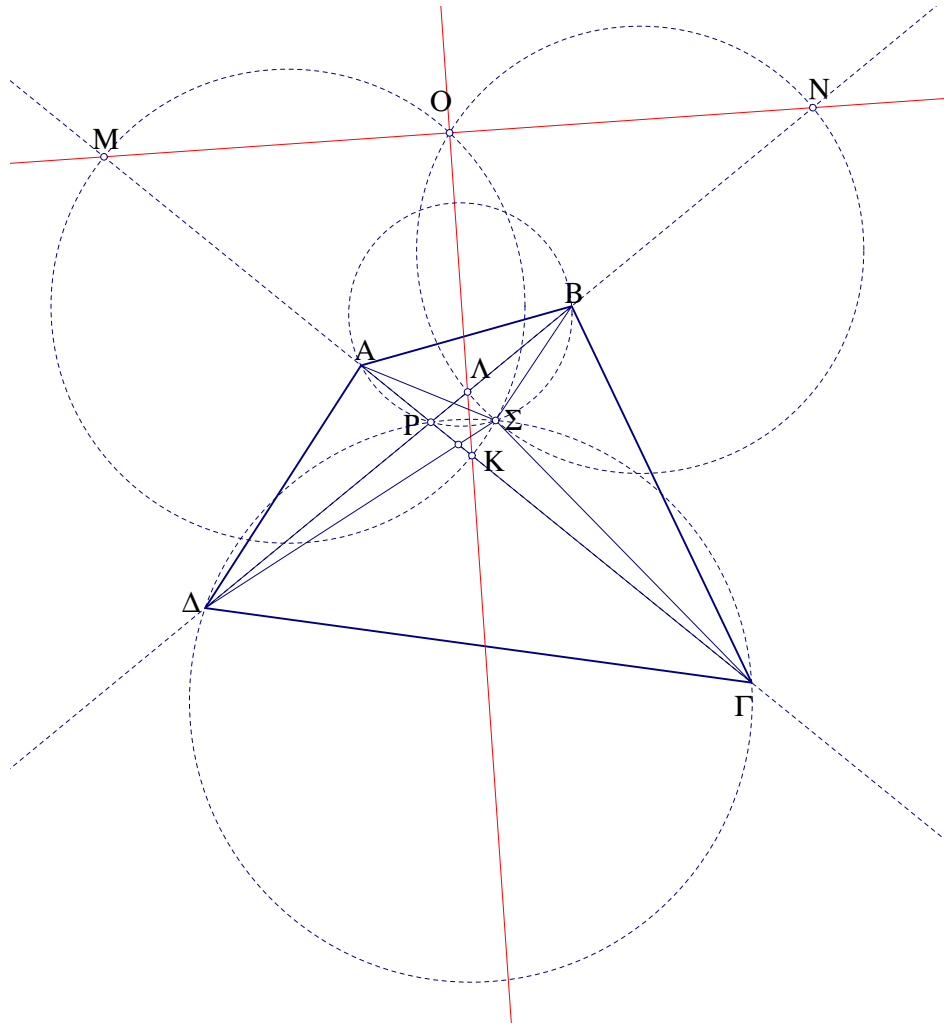
Έστω $P\Lambda\Sigma$ το πρώτο τρίγωνο *Brocard* και G το βαρύκεντρο του $AB\Gamma$. Αν X είναι το συμμετρικό του P ως προς την $B\Gamma$ (Σχήμα 141), τα τρίγωνα ΣBX και $\Lambda X\Gamma$ είναι ίσα μεταξύ τους καθώς είναι και τα δύο όμοια με το $AB\Gamma$ (με αντίστοιχα κέντρα ομοιότητας τα B και Γ) και επί πλέον έχουν $BX=X\Gamma$. Επομένως $A\Sigma=\Sigma B=\Lambda X$ και $\Sigma X=\Lambda\Gamma=A\Lambda$. Από το παραλληλόγραμμο $A\Sigma X\Lambda$ προκύπτει ότι οι AX και $\Sigma\Lambda$ διχοτομούνται. Άρα το σημείο G είναι βαρύκεντρο του APX , επομένως και του $P\Sigma\Lambda$.

Πρόβλημα 4.15 Ναδειχθεί ότι οι προβολές των δύο σημείων *Brocard* τυχαίου τριγώνου στις πλευρές του, είναι ομοκυκλικά σημεία και τα τρίγωνα που ορίζονται από τις προβολές αυτές είναι ίσα.

Απόδειξη:

Έστω O_1 και O_2 το πρώτο και δεύτερο σημεία *Brocard* του τριγώνου αντίστοιχα και $A_1, B_1, \Gamma_1, A_2, B_2, \Gamma_2$ οι προβολές τους στις πλευρές του (Σχήμα 142). Τα τρίγωνα $A_1B_1\Gamma_1$ και $A_2B_2\Gamma_2$ είναι εικόνες του $AB\Gamma$ ομοιοτήτων λόγου $\lambda = \frac{O_1A_1}{O_1A} = \frac{O_2A_2}{O_2A}$, γωνίας ίσης με ω (κατά αντίθετες φορές) και κέντρων O_1 και O_2 αντίστοιχα. Επομένως τα τρίγωνα αυτά είναι ίσα. Επίσης, οι εικόνες του περίκεντρου O του $AB\Gamma$ μέσω των παραπάνω μετασχηματισμών ταυτίζονται με το μέσο K του O_1O_2 καθώς το τρίγωνο O_1O_2O είναι ισοσκελές με γωνία κορυφής $\widehat{O} = 2\omega$ όπου ω είναι η γωνία *Brocard* του τριγώνου $AB\Gamma$.

Πρόβλημα 4.16 Έστω τρίγωνο $AB\Gamma$ και A_1, B_1, Γ_1 σημεία του περιγεγραμμένου του κύκλου, τέτοια ώστε οι ευθείες $AB_1, B\Gamma_1, \Gamma A_1$ να σχηματίζουν ίσες γωνίες με τις πλευρές $AB, B\Gamma, \Gamma A$ αντίστοιχα. Τότε το τρίγωνο ΔEZ που σχηματίζεται από τις ευθείες αυτές είναι



Σχήμα 137: Αναλλοίωτες ευθείες τετραπλεύρου

όμοιο με το $AB\Gamma$ με κοινό πρώτο σημείο *Brocard* (έστω O_1). Το τρίγωνο $A_1B_1\Gamma_1$ είναι ίσο με το αρχικό και έχει κοινό το δεύτερο σημείο *Brocard* (έστω O_2) με το ΔEZ . Επίσης το O_1 είναι κέντρο ομοιότητας των $AB\Gamma$ και ΔEZ και το O_2 είναι κέντρο ομοιότητας του ΔEZ με το $A_1B_1\Gamma_1$.

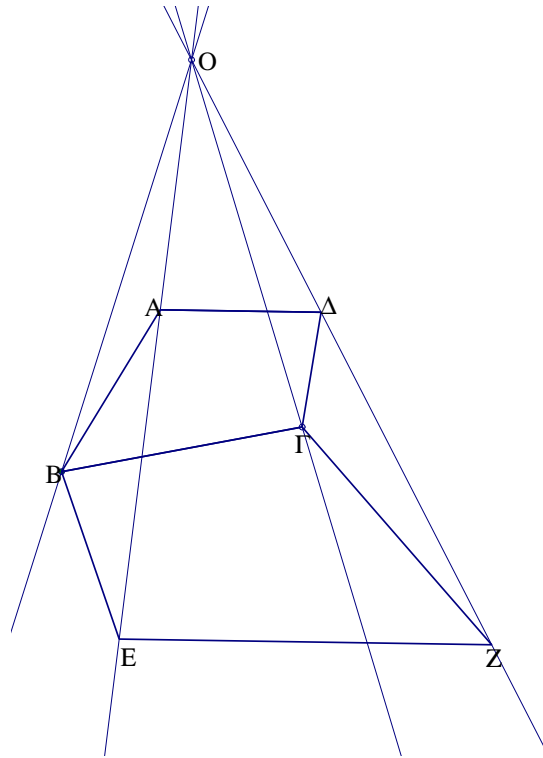
Απόδειξη:

Απο τα εγγεγραμμένα τετράπλευρα $AO_1\Delta B, \Gamma O_1ZA$ και $BO_1E\Gamma$ προκύπτουν οι ισότητες γωνιών:

$$\widehat{ZO_1\Delta} = \widehat{ABO_1}, \widehat{O_1\Delta E} = \widehat{O_1AB} = \widehat{O_1B\Gamma} \Rightarrow \widehat{B} = \widehat{Z\Delta E}$$

και όμοια αποδεικνύεται ότι $\widehat{\Delta EZ} = \widehat{\Gamma}$ και $\widehat{\Delta ZE} = \widehat{A}$ (Σχήμα 143). Από τις παραπάνω ισότητες προκύπτει επίσης ότι το O_1 είναι κέντρο ομοιότητας που απεικονίζει το $AB\Gamma$ στο ΔEZ . Το τρίγωνο $A_1B_1\Gamma_1$ είναι ίσο με το αρχικό $AB\Gamma$, καθώς είναι στροφή του $AB\Gamma$ κατά γωνία ίση με το μισό των ίσων τόξων $BB_1, \Gamma\Gamma_1, AA_1$. Αν θεωρήσουμε τώρα σαν αρχικό τρίγωνο το $A_1B_1\Gamma_1$, προκύπτει το ίδιο συμπέρασμα για τα τρίγωνα ΔEZ και $A_1B_1\Gamma_1$ με κέντρο ομοιότητας το O_2 .

Πρόβλημα 4.17 Δίνονται τρεις κύκλοι $(O_1, r_1), (O_2, r_2)$ και (O_3, r_3) , ανα δύο τεμνόμενοι. Έστω A, B τα σημεία τομής των δυο πρώτων κύκλων, Γ, Δ του δεύτερου με τον τρίτο και E, Z του τρίτου με τον πρώτο, όλα διαφορετικά μεταξύ τους. Έστω P_1 τυχαίο σημείο του πρώτου κύκλου, P_2 το δεύτερο σημείο τομής της P_1A με τον δεύτερο, P_3 το δεύτερο σημείο τομής της $P_2\Gamma$ με τον τρίτο και P_4 το αντίστοιχο σημείο τομής της P_3E με τον πρώτο κύκλο.



Σχήμα 138: Ομοιότητα τετραπλεύρου

Όμοια ορίζουμε τα σημεία P_5, P_6 και P_7 με χρήση των άλλων σημείων τομής, B, Δ και Z . Ναδειχθεί ότι το P_7 ταυτίζεται με το P_1 (Σχήμα 144).

Απόδειξη:

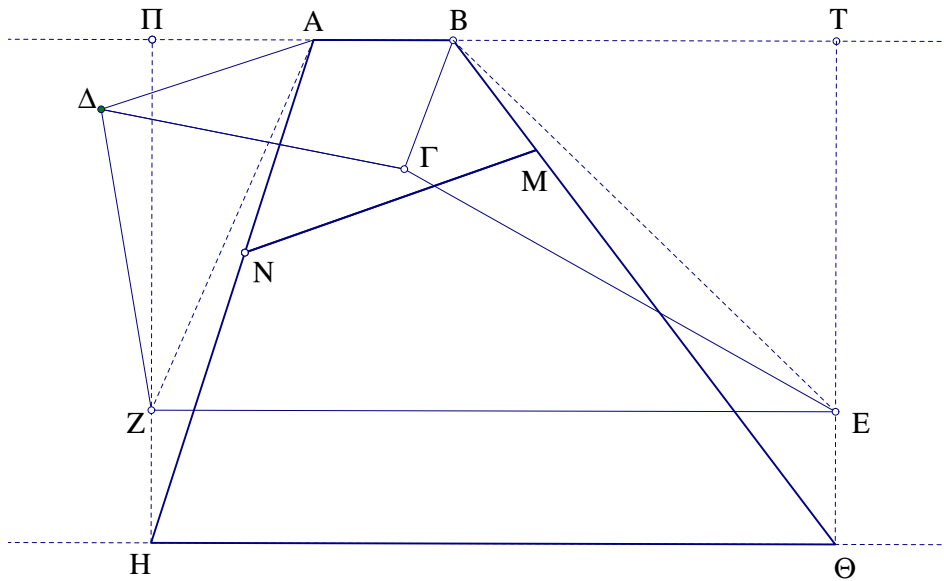
Το P_2 είναι εικόνα του P_1 μέσω μετασχηματισμού ομοιότητας κέντρου A που απεικονίζει το O_1 στο O_2 . Όμοια ορίζονται και τα P_2, P_3 και P_4 . Έτσι το P_4 είναι εικόνα του R_1 μέσω σύνθεσης τριών ομοιοτήτων των οποίων το γινόμενο των λόγων ισούται με $\frac{r_1 r_2 r_3}{r_2 r_3 r_1} = 1$, άρα είναι στροφή κέντρου O_1 και γωνίας ίσης με το άθροισμα των τριών ομοιοτήτων. Όμοια το P_7 είναι εικόνα του P_4 μέσω σύνθεσης αντίστοιχων ομοιοτήτων ίδιων λόγων αλλά αντίθετων γωνιών με τις προηγούμενες. Έτσι το P_7 είναι εικόνα του P_4 μέσω αντίστροφου μετασχηματισμού αυτού που απεικονίζει το P_1 στο P_4 . Επομένως το P_7 ταυτίζεται με το P_1 .

4.7 ΤΡΙΓΩΝΟ ΟΜΟΙΟΤΗΤΑΣ-ΚΥΚΛΟΣ ΟΜΟΙΟΤΗΤΑΣ

Πρόταση 4.15 Έστω Σ_1, Σ_2 και Σ_3 τρία όμοια σχήματα και O_1, O_2 και O_3 τα κέντρα ομοιότητας των $(\Sigma_2, \Sigma_3), (\Sigma_1, \Sigma_3)$ και (Σ_1, Σ_2) αντίστοιχα. Το τρίγωνο $O_1O_2O_3$ ονομάζεται *τρίγωνο ομοιότητας* των τριών σχημάτων και ο περιγεγραμμένος του κύκλος ονομάζεται *κύκλος ομοιότητας* των σχημάτων αυτών. Αν A_1B_1, A_2B_2, A_3B_3 τρία αντίστοιχα τμήματα των σχημάτων αυτών και KMN το τρίγωνο που σχηματίζεται από τους φορείς των τριών τμημάτων (Σχήμα 145), τότε: α) Οι ευθείες NO_1, MO_2, KO_3 συντρέχουν σε σημείο του κύκλου ομοιότητας. β) Οι περίκυκλοι των τριγώνων A_1A_2K, A_2A_3N και A_1A_3M έχουν κοινό σημείο που βρίσκεται στον κύκλο ομοιότητας των τριών σχημάτων.

Απόδειξη:

Έστω P το σημείο τομής των MO_2 και KO_2 . Από τα εγγράψιμα τετράπλευρα XO_2B_1M και XB_1KO_3 προκύπτει ότι οι γωνίες $\widehat{OXO_3}$ και \widehat{MPK} είναι παραπληρωματικές. Επομένως τα σημεία O_2, O_3, P και X είναι ομοκυκλικά. Με όμοιο τρόπο αποδεικνύεται ότι τα σημεία O_2, O_3, P και Y είναι ομοκυκλικά. Επομένως οι MO_2 και KO_2 τέμνονται πάνω στον κύκλο XYO_2 (ο \bullet οποίος περνά και από το σημείο O_3). Όμοια αποδεικνύουμε ότι και οι MO_2 και



Σχήμα 139: Ομοιότητα τετραπλεύρου

NO_1 τέμνονται •πάνω στον ίδιο κύκλο (Σχήμα 145).

Πρόταση 4.16 Δίνονται δύο ευθύγραμμα τμήματα, το A_1B_1 και το A_3B_3 και το σημείο O_2 που είναι κέντρο της ομοιότητας $S(O_2)$ που απεικονίζει το πρώτο στο δεύτερο. Αν απεικονίσουμε τώρα το A_1B_1 στο A_3B_3 μέσω σύνθεσης ομοιοθεσίας $H(O_3, \lambda)$ τυχαίου κέντρου O_3 και λόγου $\lambda = \frac{A_3B_3}{A_1B_1}$ με στοφή $R(O_1)$ κατάλληλου κέντρου O_1 , το τρίγωνο $O_1O_2O_3$ παραμένει όμοιο προς εαυτό, ανεξάρτητα από την επιλογή του σημείου O_3 .

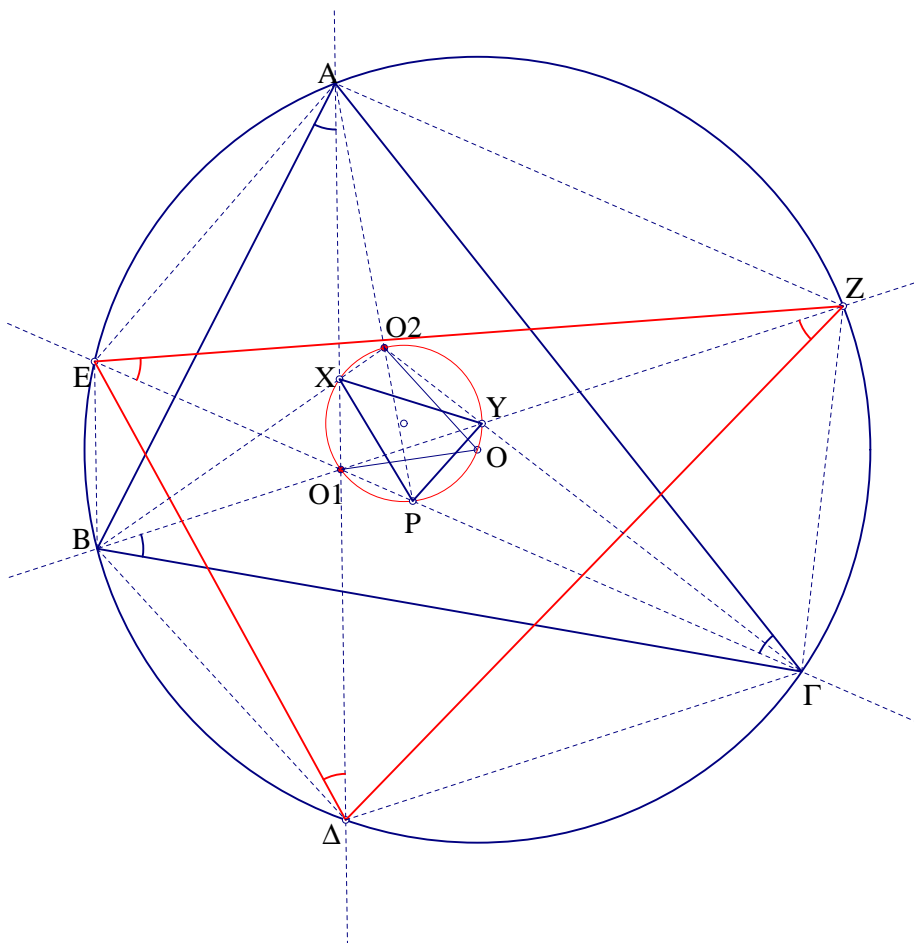
Απόδειξη:

Έστω Λ η αντίστροφη εικόνα του O_1 μέσω της $H(O_3, \lambda)$. Τότε, το Λ είναι επίσης αντίστροφη εικόνα του O_1 μέσω της ομοιότητας $S(O_2)$. Επομένως το τρίγωνο $O_1O_2\Lambda$ παραμένει όμοιο προς εαυτό. καθώς όμως το Λ διαιρεί το O_1O_3 σε σταθερό λόγο, έτσι και το τρίγωνο $O_1O_2O_3$ παραμένει όμοιο προς εαυτό (Σχήμα 146). Στην ουσία, η πρόταση αυτή αποτελεί ειδική περίπτωση της προηγούμενης, γιά την περίπτωση που το A_1B_1 είναι παράλληλο με το A_2B_2 .

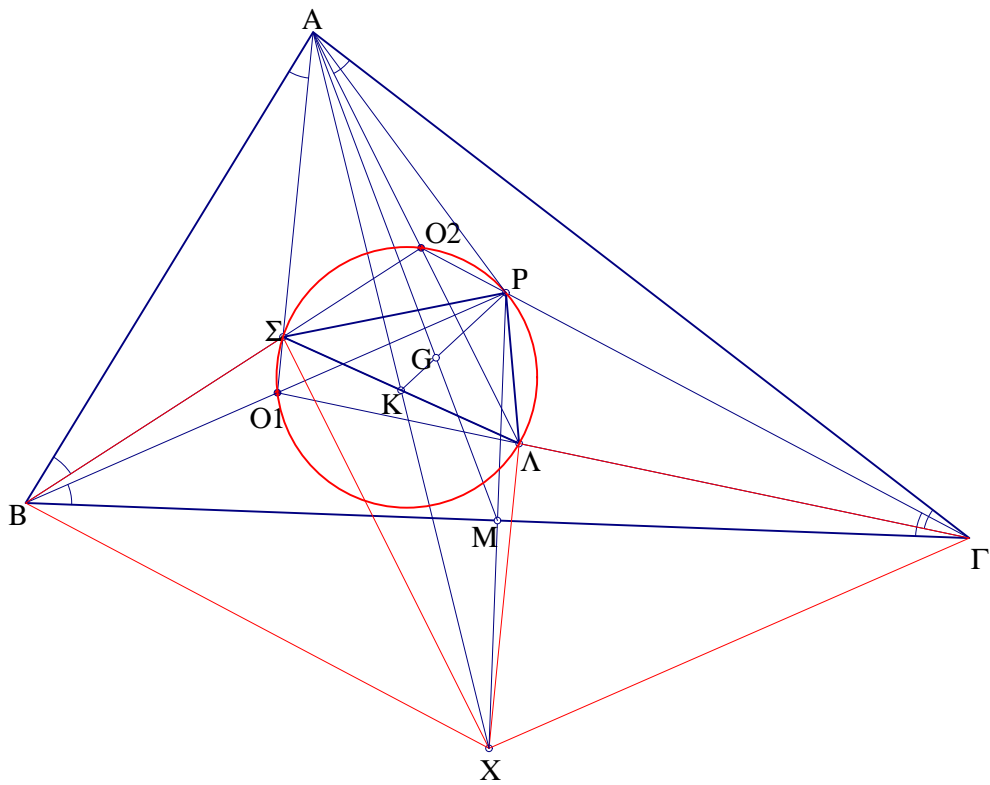
Πρόβλημα 4.18 Δίνεται τετράπλευρο $AB\Gamma\Delta$ εγγεγραμμένο σε κύκλο (O, ρ) . Ναδειχθεί ότι τα βαρύκεντρα των τριγώνων $AB\Gamma$, $AB\Delta$, $B\Gamma\Delta$ και $A\Gamma\Delta$ είναι κορυφές τετραπλεύρου όμοιου με το αρχικό. Το ίδιο συμβαίνει με τα κέντρα των τεσσάρων κύκλων *Euler* των παραπάνω τριγώνων. Οι κύκλοι *Euler* αυτοί διέρχονται από κοινό σημείο [16].

Απόδειξη:

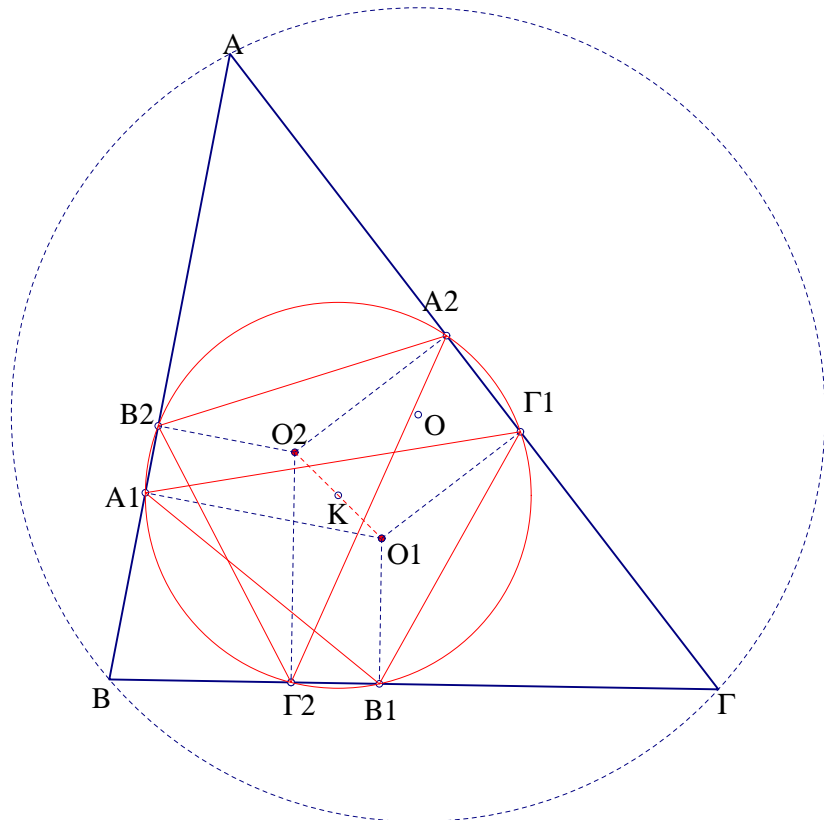
Το τετράπλευρο $H_1H_2H_3H_4$ των ορθοκέντρων των τεσσάρων κύκλων *Euler* τριγώνων είναι εικόνα ημιστροφής του αρχικού, με κέντρο το σημείο K . Τα τετράπλευρα των βαρυκεντρών και των κέντρων των κύκλων *Euler* των παραπάνω τριγώνων είναι ομοιόθετα του $H_1H_2H_3H_4$ με κέντρο O . Οι κύκλοι *Euler* και των τεσσάρων τριγώνων περνάνε από το σημείο K (Σχήμα 147).



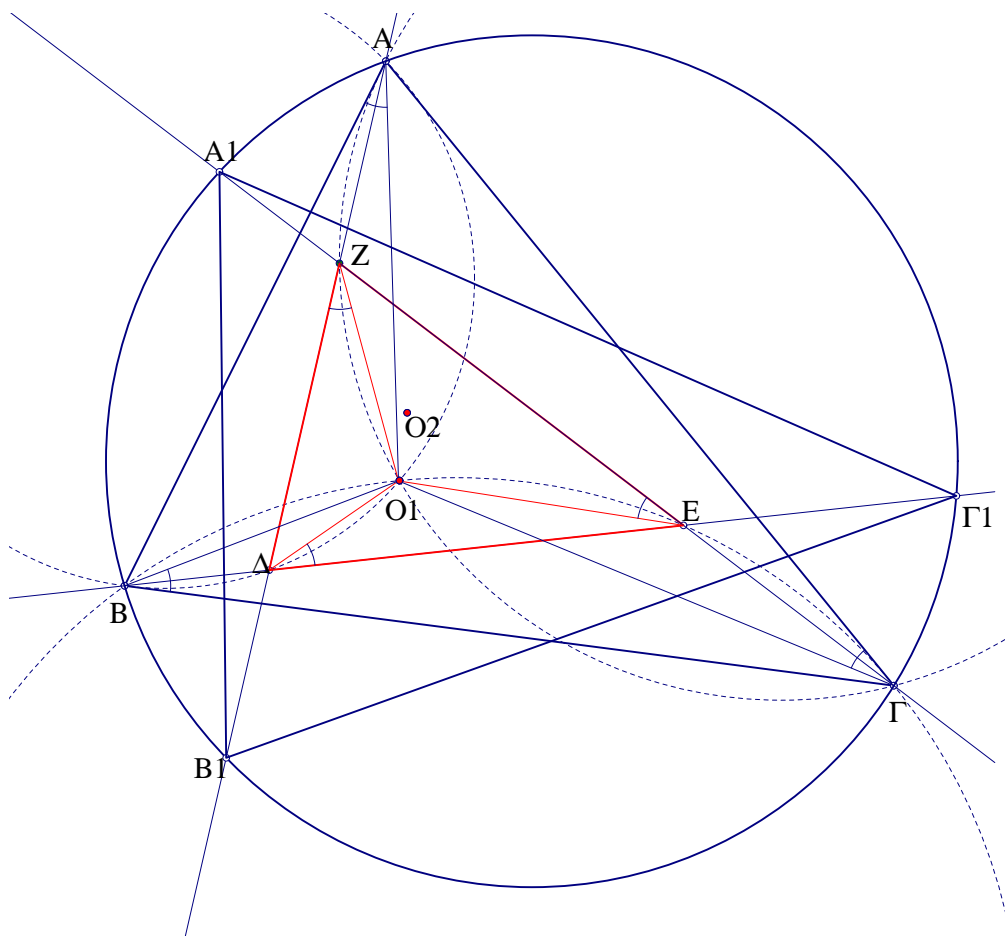
Σχήμα 140: 6 ομοκυκλικά σημεία



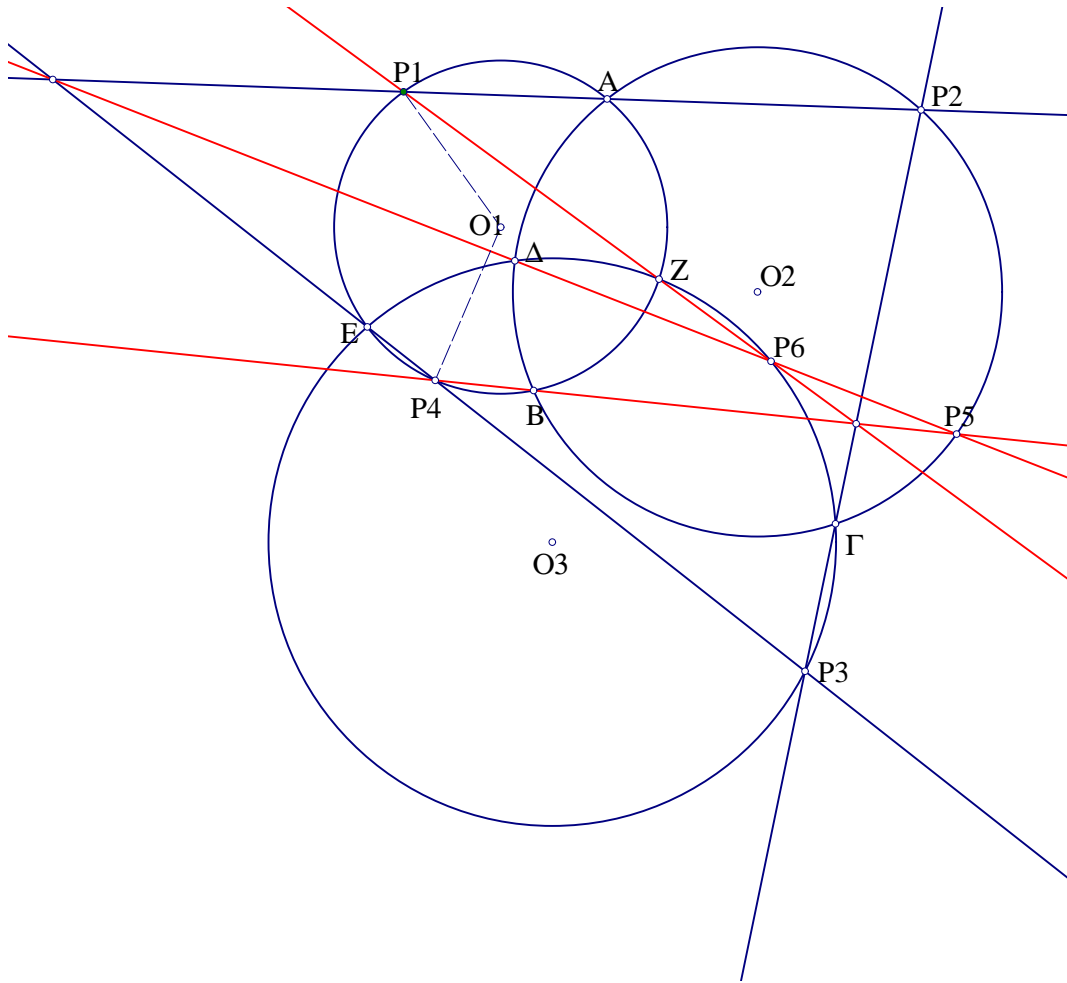
Σχήμα 141: Κέντρο βάρους τριγώνου *Brocard*



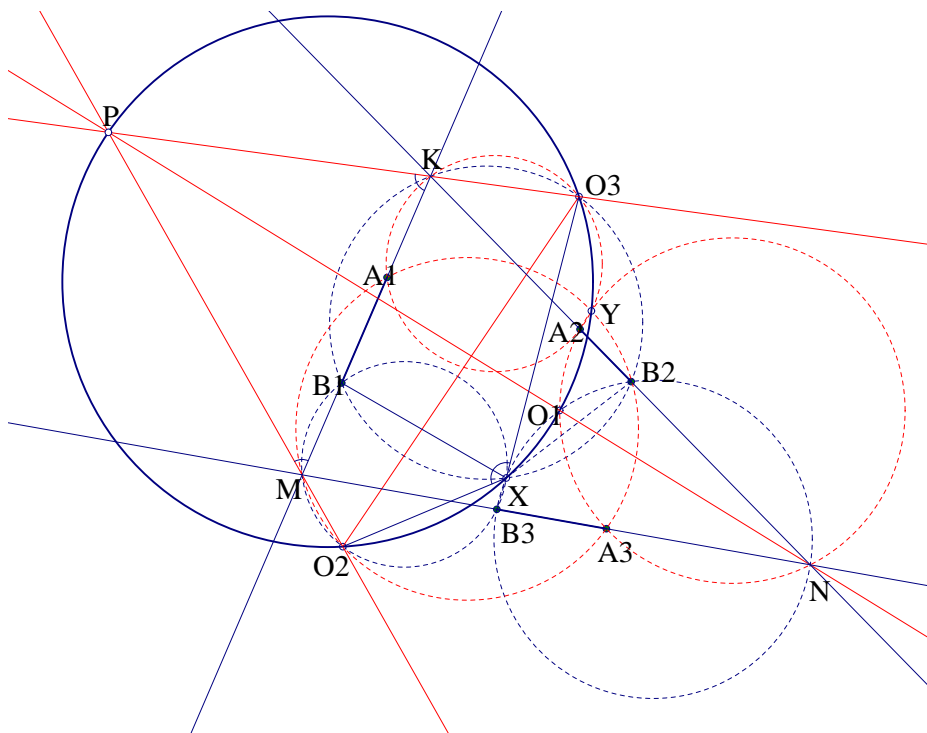
Σχήμα 142: 6 ομοκυκλικά σημεία



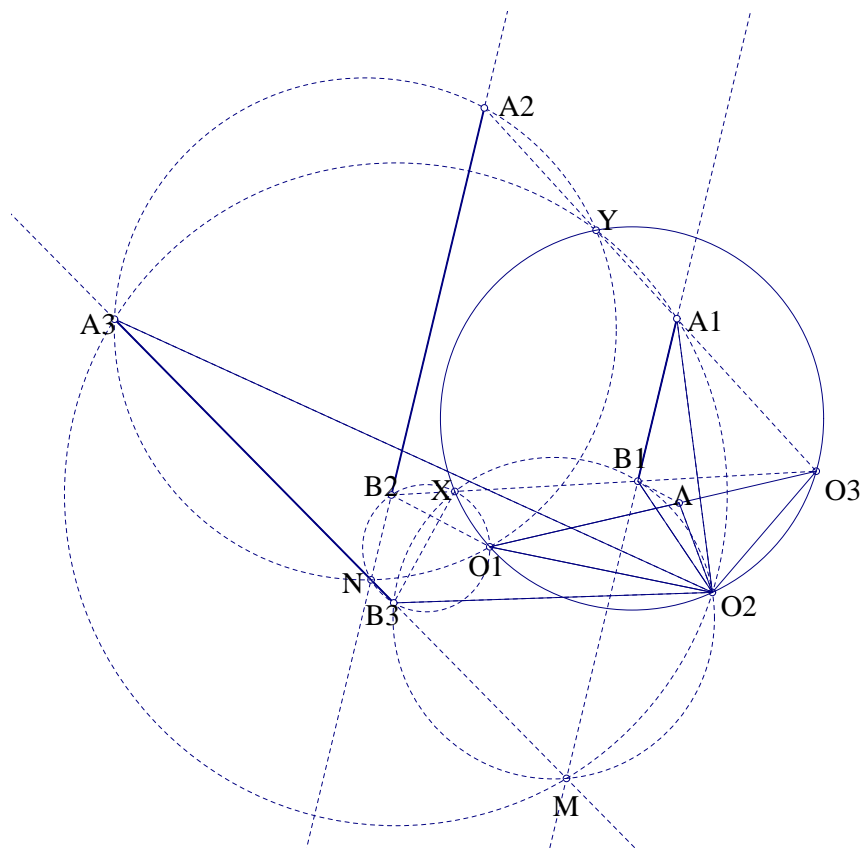
Σχήμα 143: Κοινό σημείο *Brocard*



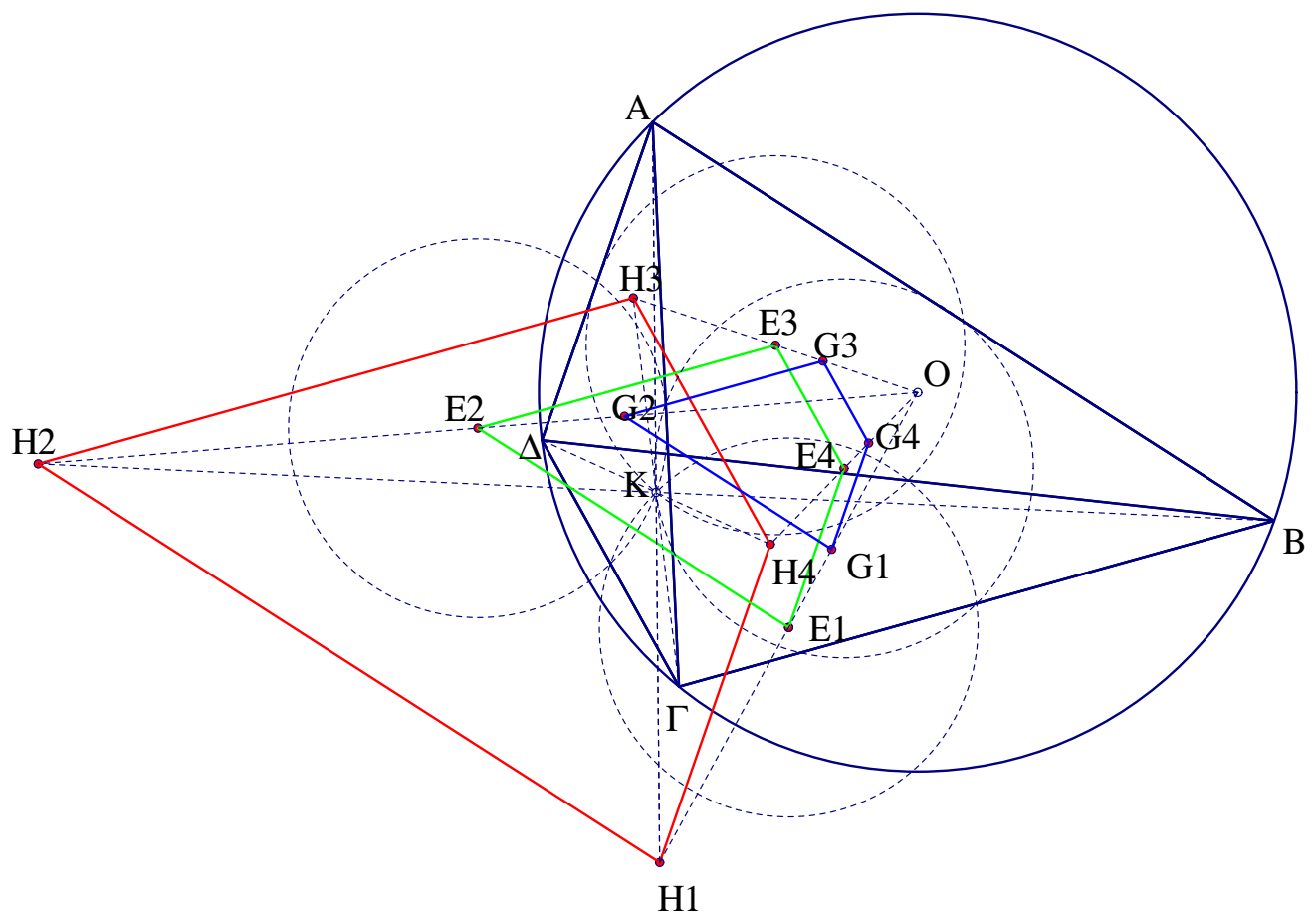
Σχήμα 144: Διαδοχικές ομοιότητες



Σχήμα 145: Τρίγωνο ομοιότητας



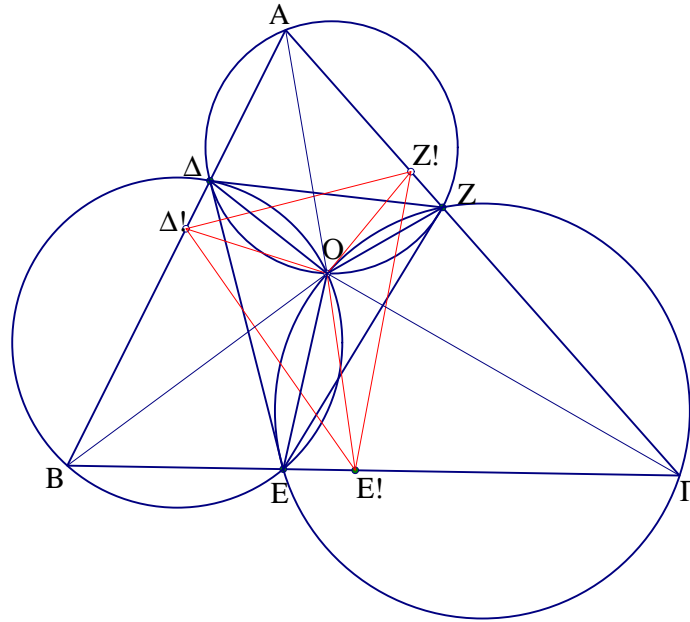
Σχήμα 146: Κέντρα ομοιότητας



Σχήμα 147: Ομοιόθετα τετράπλευρα

4.8 ΚΕΝΤΡΟ ΕΓΓΡΑΦΗΣ ΤΡΙΓΩΝΟΥ

Πρόταση 4.17 Έστω τρίγωνο $AB\Gamma$ και τρία τυχαία σημεία Δ, E, Z , από ένα σε κάθε πλευρά του $AB, B\Gamma, \Gamma A$ αντίστοιχα. Οι περίκυκλοι $A\Delta Z, B\Delta E$ και ΓEZ έχουν κοινό σημείο O το οποίο είναι κέντρο ομοιότητας του τριγώνου ΔEZ με το τυχαίο τρίγωνο $\Delta!E!Z!$ εγγεγραμμένο στο αρχικό και όμοιο προς το ΔEZ .



Σχήμα 148: Κέντρο εγγραφής τριγώνου

Απόδειξη:

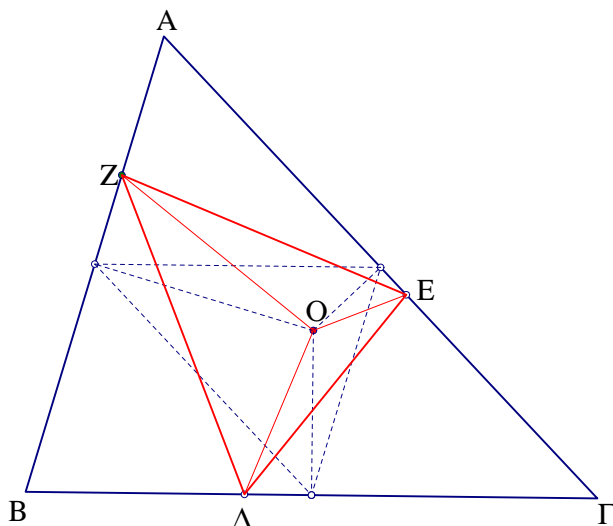
Αν θεωρήσουμε το O σαν σημείο τομής των κύκλων $A\Delta Z$ και $B\Delta E$, ο κύκλος ΓEZ περνά από το O καθώς το τετράπλευρο $\Gamma E O Z$ είναι εγγράψιμο όπως προκύπτει από την ισότητα των γωνιών $\widehat{BEO} = \widehat{O\Delta A} = \widehat{OZ\Gamma}$. Αν στρέψουμε τις ημιευθείες $O\Delta, OE$ και OZ κατά γωνία ω περί το O και ονομάσουμε $\Delta!, E!$ και $Z!$ τα νέα σημεία τομής με τις πλευρές του $AB\Gamma$, έχουμε τρία νέα εγγράψιμα τετράπλευρα, τα $BE!O\Delta!, \Gamma E!OZ!$ και $AZ!O\Delta!$. Από τις ισότητες γωνιών που προκύπτουν, καταλήγουμε ότι τα τρίγωνα $\Delta!E!Z!$ και ΔEZ είναι όμοια και το O έχει την ίδια θέση και στα δύο αυτά τρίγωνα. Έτσι η θέση του σημείου O εξαρτάται μόνο από τα μέτρα των γωνιών του τριγώνου ΔEZ που θα εγγράψουμε στο $AB\Gamma$. (Σχήμα 148)

Πρόβλημα 4.19 Σε δοθέν τρίγωνο $AB\Gamma$, να εγγραφεί τρίγωνο ΔEZ όμοιο με το αρχικό, με την κορυφή Δ πάνω στην $B\Gamma$, την E στην ΓA , την Z στην AB και κάθε γωνία του ΔEZ να ισούται με την απέναντι του $AB\Gamma$. Ναδειχθεί ότι το κέντρο ομοιότητας των δύο τριγώνων είναι το περίκεντρο του $AB\Gamma$.

Απόδειξη:

Σύμφωνα με την προηγούμενη πρόταση, αρκεί να βρούμε το κέντρο ομοιότητας του $AB\Gamma$ με ένα οποιοδήποτε εγγεγραμμένο όμοιό του. Επιλέγουμε το τρίγωνο που ορίζεται από τα μέσα των πλευρών του $AB\Gamma$, το οποίο είναι ομοιοθέτο αυτού με κέντρο το O . (Σχήμα 149)

Πρόβλημα 4.20 Στις πλευρές δοθέντος τριγώνου $AB\Gamma$, κατασκευάζουμε τα τρίγωνα $AB\Delta, B\Gamma E$ και ΓAZ , ομορρόπως όμοια μεταξύ τους. Ναδειχθεί ότι τα τρίγωνα $AB\Gamma$ και ΔEZ έχουν κοινό κέντρο βάρους.



Σχήμα 149: Εγγραφή ομοίου τριγώνου

Απόδειξη:

Έστω G το κέντρο βάρους του $AB\Gamma$. Θεωρούμε ότι η κορυφή A μετακινείται στην θέση Δ και οι άλλες δύο κορυφές παραμένουν σταθερές. Τότε το κέντρο βάρους μετακινείται από το G στο σημείο Θ , όπου το διάνυσμα $\vec{G\Theta}$ είναι ομοιόθετο του $\vec{A\Delta}$ με λόγο $1/3$ και κέντρο το μέσο της $B\Gamma$, δηλαδή έχουμε $\vec{G\Theta} = \frac{1}{3} \vec{A\Delta}$. Αν μετακινήσουμε τώρα την κορυφή B στο E , έχουμε αντίστοιχη μετακίνηση του κέντρου βάρους Θ στο σημείο Z με $\vec{\Theta Z} = \frac{1}{3} \vec{BE}$. Τέλος, μετακινώντας το Γ στο Z , έχουμε μετακίνηση του τελευταίου κέντρου βάρους, από το σημείο Z , κατά διάνυσμα ίσο με $\frac{1}{3} \vec{\Gamma Z}$. Επομένως, $\vec{A\Delta} + \vec{BE} + \vec{\Gamma Z} = \frac{1}{3}(\vec{A\Delta} + \vec{BE} + \vec{\Gamma Z}) = \vec{0}$, καθώς τα $\vec{A\Delta}$, \vec{BE} και $\vec{\Gamma Z}$ είναι εικόνες ομοιοτήτων ίδιων λόγων και γωνιών, των διανυσμάτων \vec{AB} , $\vec{B\Gamma}$ και $\vec{\Gamma A}$. Σχήμα 150

Πρόβλημα 4.21 Δίνονται δύο ίσα τρίγωνα $AB\Gamma$ και ΔEZ , εγγεγραμμένα στον ίδιο κύκλο κέντρου O , και έστω Σ , X και Ψ τα σημεία τομής των ζευγών των ίσων πλευρών τους. Τότε το τρίγωνο $\Sigma X\Psi$ είναι όμοιο των δύο αρχικών.

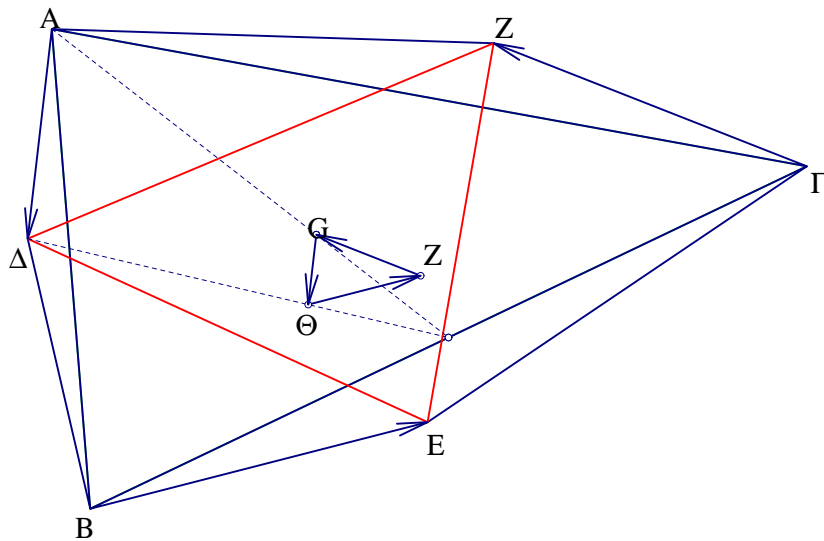
Απόδειξη:

Το ΔEZ είναι εικόνα στροφής του $AB\Gamma$ με κέντρο το O και γωνία ω . Το σημείο O είναι κοινό σημείο των διχοτόμων των γωνιών που σχηματίζονται από τις ίσες πλευρές των δύο τριγώνων. Επομένως, αν M , N και Λ είναι τα μέσα των AB , $B\Gamma$ και ΓA , οι OM , ON και OL σχηματίζουν με τις $O\Sigma$, OX και $O\Psi$ γωνίες ίσες με $\frac{\omega}{2}$. Άρα το τρίγωνο $\Sigma X\Psi$ είναι εικόνα του MNL , μέσω ομοιότητας κέντρου O , γωνίας $\frac{\omega}{2}$ και λόγου ίσου με $\frac{O\Sigma}{OM}$ (Σχήμα 151)

Πρόβλημα 4.22 Σε δοθέν τρίγωνο $AB\Gamma$ να εγγραφεί τρίγωνο όμοιο με αυτό και με πλευρές κάθετες στις αντίστοιχες του αρχικού.

Απόδειξη:

Αν χρησιμοποιήσουμε τα δύο σημεία *Brocard* (πρώτο και δεύτερο σημείο στροφής), βλέπουμε ότι υπάρχουν δύο τρίγωνα εγγεγραμμένα στο αρχικό, το $A_1B_1\Gamma_1$ που προκύπτει με ομοιότητα κέντρου O_1 και γωνία ορθή με θετική φορά (με το A_1 πάνω στην AB) και το $A_2B_2\Gamma_2$ με ομοιότητα αρνητικής ορθής γωνίας (με το A_2 πάνω στην AG). Τα δύο αυτά τρίγωνα είναι ίσα λόγω των ίσων (κατά μέτρο) γωνιών ομοιότητας και τα περίκεντρά τους



Σχήμα 150: Τρίγωνα με κοινό κέντρο βάρους

συμπίπτουν με το αντιδιαμετρικό στον κύκλο OO_1O_2 (κύκλος *Brocard*) σημείο του περικεντρου O , έστω σημείο Λ . Αυτό συμβαίνει γιατί οι γωνίες $\widehat{\Lambda OO_1}$ και $\widehat{\Lambda OO_2}$ είναι ίσες με την γωνία *Brocard* ω , επομένως οι λόγοι $O_1\Lambda/O_1O = O_2\Lambda/O_2O$ ισούνται με τον κοινό λόγο των αντίθετων ομοιοτήτων που μετασχηματίζουν το $AB\Gamma$ στα δύο ζητούμενα τρίγωνα (Σχήμα 152). Το σημείο Λ είναι το σημείο τομής των συμμετροδιαμέσων του $AB\Gamma$ ή σημείο *Lemoine*. Το τελευταίο προκύπτει αν παρατηρήσουμε ότι η A_1A_2 είναι αντιπαράλληλος της $B\Gamma$ και το Λ είναι μέσο αυτής καθώς έχουμε:

$$\frac{AA_1}{AA_2} = \frac{A_1\Gamma_1}{A_2B_2} = \frac{A\Gamma}{AB}$$

Πρόβλημα 4.23 Δίνονται τρεις κύκλοι (O, R_1) , (K, R_2) και (I, R_3) με κοινή χορδή AB . Ναδειχθεί ότι κάθε εφαπτομένη στο α σε κάθε ένα από αυτούς, διαιρείται από τις άλλες δύο σε τμήματα ανάλογα. Έστω M και N τα σημεία τομής της εφαπτομένης στο A του (O, R_1) με τους (K, R_2) και (I, R_3) αντίστοιχα, καθώς και P , Σ τα αντίστοιχα σημεία τομής της εφαπτομένης στο A του (K, R_2) με τους άλλους κύκλους και E , Z τα σημεία τομής εφαπτομένης στο A του (I, R_3) με τους άλλους κύκλους. Τότε θα δείξουμε ότι:

$$\frac{AN}{MN} = \frac{AE}{AZ} = \frac{AP}{P\Sigma}$$

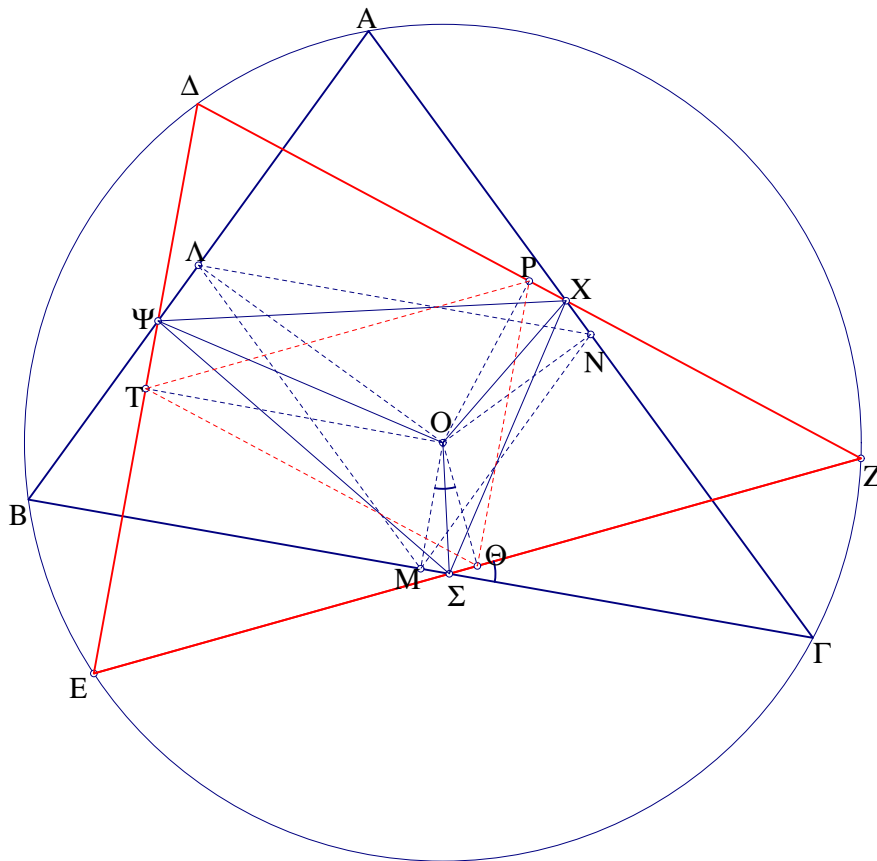
(Σχήμα 153)

Απόδειξη:

Έστω M και N τα σημεία τομής της εφαπτομένης στο A του (O, R_1) με τους (K, R_2) και (I, R_3) αντίστοιχα, καθώς και P , Σ τα αντίστοιχα σημεία τομής της εφαπτομένης στο A του (K, R_2) με τους άλλους κύκλους και E , Z τα σημεία τομής εφαπτομένης στο A του (I, R_3) με τους άλλους κύκλους. Τότε θα δείξουμε ότι:

$$\frac{AN}{MN} = \frac{AE}{AZ} = \frac{AP}{P\Sigma}$$

(Σχήμα 153)



Σχήμα 151: Ίσα τρίγωνα εγγεγραμμένα σε κύκλο

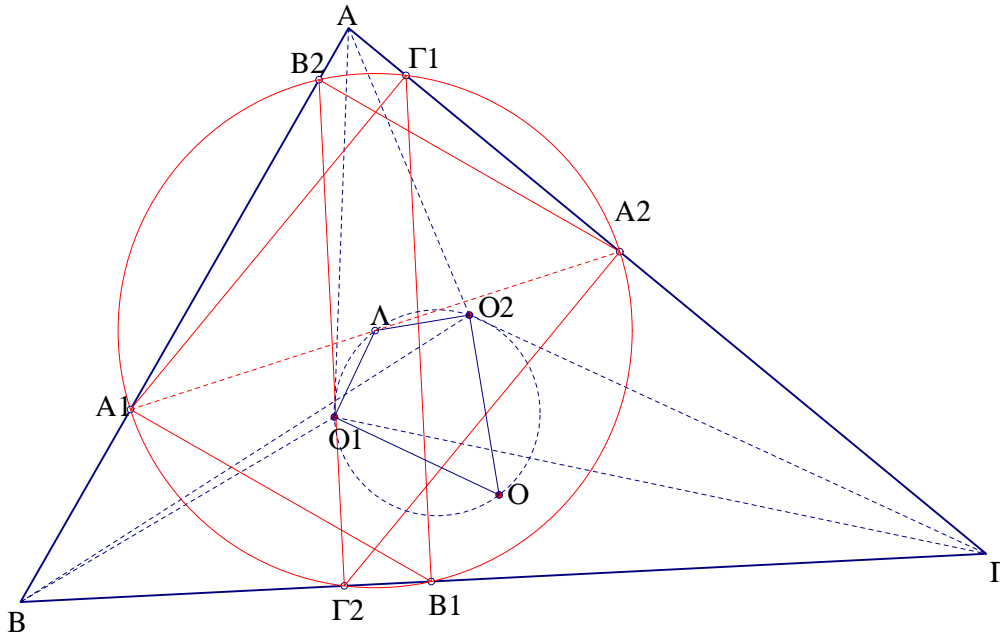
Το σημείο B είναι κέντρο ομοιότητας λόγου ίσου με R_1/R_2 που απεικονίζει τον κύκλο (K, R_2) στον (O, R_1) με το σημείο M να απεικονίζεται στο A και το E στο Z. Επίσης, το B είναι κέντρο άλλης ομοιότητας που απεικονίζει τον (I, R_3) στον (O, R_1) με το σημείο N να απεικονίζεται στο A και το A στο Z. Από την ομοιότητα των τριγώνων $MBA \approx EBZ$ και $BNA \approx BAZ$ προκύπτει ότι $\frac{AN}{MN} = \frac{AE}{AZ}$. Όμοια αποδεικνύεται και η άλλη ισότητα.

Πρόβλημα 4.24 Ναδειχθεί ότι οι περίκυκλοι των τεσσάρων τριγώνων που σχηματίζονται από τέσσερις ανά δύο τεμνόμενες ευθείες, μη διερχόμενες τρεις από το ίδιο σημείο, έχουν κοινό σημείο. Το σημείο αυτό, ονομάζεται σημείο *Miquel* της τετράδας αυτής. Επίσης, τα κέντρα των τεσσάρων κύκλων είναι ομοκυκλικά σημεία.

Απόδειξη:

Έστω ABK , BGM , $A\Delta M$ και $\Gamma\Delta K$ τα τέσσερα σχηματιζόμενα τρίγωνα με περίκεντρα τα Σ , N , P και E αντίστοιχα. Αν θεωρήσουμε το O σαν κοινό σημείο των κύκλων ABK και BGM , τότε το σημείο αυτό, είναι κέντρο ομοιότητας που απεικονίζει το AK στο $M\Gamma$. Επομένως τα τρίγωνα $OK\Gamma$ και OAM είναι όμοια, με κέντρο ομοιότητας το O . Άρα το O είναι κοινό σημείο και των κύκλων $A\Delta M$ και $\Gamma\Delta K$. Η γωνία $\widehat{\Sigma OE}$ ισούται με τη γωνία $\widehat{BM\Gamma}$, όπως προκύπτει από την ομοιότητα κέντρου O , του τριγώνου OAB με το $O\Gamma\Delta$. Τέλος, από τις ομοιότητες των τριγώνων $O\Delta E$ με $O\Delta\Delta$ και OEN με $O\Delta M$, προκύπτει ότι και τα τρίγωνα ΣEN και $A\Delta M$ είναι όμοια με κέντρο το O . Επομένως τα σημεία Σ , N , P και E είναι ομοκυκλικά (Σχήμα 154).

Πρόβλημα 4.25 Έστω τυχαίο τρίγωνο $AB\Gamma$ και δύο τρίγωνα, το MKA και το $PT\Sigma$, εγ-



Σχήμα 152: Σημείο *lemin*

γεγραμμένα στο αρχικό, που σχηματίζουν ίσες γωνίες με τις αντίστοιχες πλευρές του $AB\Gamma$, με το M να ανήκει στην AB , το K στην $B\Gamma$ και το Λ στην AG για το πρώτο, ενώ το P ανήκει στην AG , το T στην AB και το Σ στην $B\Gamma$. Ναδειχθεί ότι τα τρίγωνα αυτά είναι ίσα και οι κορυφές τους αποτελούν ομοκυκλική εξάδα σημείων.

Απόδειξη:

Τα δύο τρίγωνα, είναι προφανώς εικόνες ομοιοτήτων κέντρων O_1 και O_2 αντίστοιχα (σημεία *Brocard* του $AB\Gamma$) και αντιθέτων γωνιών. Από την ομοιότητα των τριγώνων O_1MA και O_2PA προκύπτει ότι οι δύο ομοιοότητες έχουν ίδιο λόγο. Επομένως τα τρίγωνα MKA και PTS είναι ίσα. Έστω σημείο X ρης διχοτόμου της γωνίας $\widehat{O_1OO_2}$ τέτοιο ώστε οι γωνίες $\widehat{XO_1O}$ και $\widehat{XO_2O}$ να είναι ίσες με την γωνία των δύο ομοιοτήτων. Από την ομοιότητα των ίσων τριγώνων XO_1O και XO_2O με τα O_1MA και O_2PA , προκύπτει ότι το σημείο X είναι η εικόνα του περίκεντρου O μέσω και των δύο ομοιοτήτων, άρα το X είναι κοινό περίκεντρο των MKA και PTS . (Σχήμα 155)

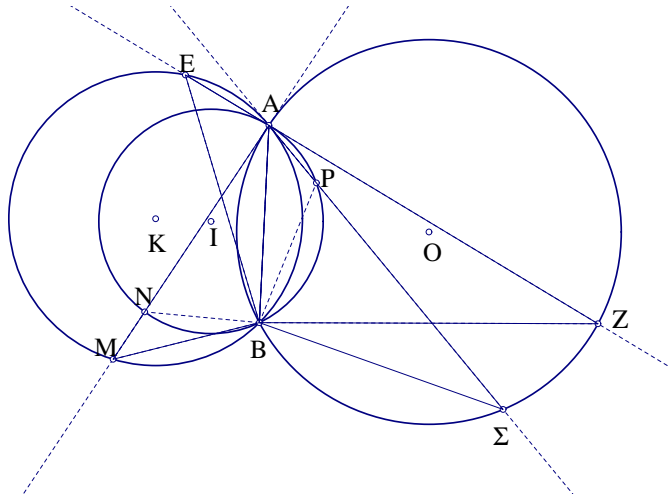
Πρόβλημα 4.26 α) Το ορθικό τρίγωνο τριγώνου $AB\Gamma$ είναι ομοιόθετο του τριγώνου που σχηματίζεται από τις εφαπτόμενες του περίκυκλου του $AB\Gamma$ στις τρεις κορυφές του (Σχήμα 156). β) Το τρίγωνο των σημείων επαφής του εγγεγραμμένου σε τρίγωνο $AB\Gamma$ κύκλου, είναι ομοιόθετο του τριγώνου που ορίζεται από τα κέντρα των παρεγγεγραμμένων κύκλων του $AB\Gamma$ (Σχήμα 157)[17].

Απόδειξη:

α) Οι πλευρές του ορθικού τριγώνου είναι αντιπαράλληλες των αντιστοίχων πλευρών του $AB\Gamma$. Οι εφαπτόμενες του περίκυκλου του $AB\Gamma$ στις τρεις κορυφές του είναι και αυτές αντιπαράλληλες προς τις απέναντι πλευρές. Επομένως το ορθικό τρίγωνο έχει πλευρές παράλληλες προς τις αντίστοιχες εφαπτόμενες. β) Οι πλευρές του τριγώνου επαφής είναι κάθετες στις αντίστοιχες εσωτερικές διχοτόμους, άρα παράλληλες προς τις εξωτερικές διχοτόμους .

Πρόβλημα 4.27 α) Το ορθικό τρίγωνο του τριγώνου επαφών ενός τριγώνου $AB\Gamma$ είναι ομοιόθετο του $AB\Gamma$ (Σχήμα 158).

β) Το τρίγωνο επαφών του ορθικού τριγώνου ενός τριγώνου $AB\Gamma$ είναι ομοιόθετο του τριγώ-



Σχήμα 153: Εφαπτόμενες τριών τεμνόμενων κύκλων

νου που σχηματίζεται από τις εφαπτόμενες του περικύκλου του $AB\Gamma$ στις τρεις κορυφές του (Σχήμα 159).

Απόδειξη:

α) Προκύπτει άμεσα με εφαρμογή του α) του προηγούμενου προβλήματος στο τρίγωνο επαφών του $AB\Gamma$.

β) Προκύπτει άμεσα με εφαρμογή του β) του προηγούμενου προβλήματος στο ορθικό τρίγωνο του $AB\Gamma$, καθώς οι πλευρές του $AB\Gamma$ είναι εξωτερικές διχοτόμοι του ορθικού τριγώνου.

Πρόβλημα 4.28 Έστω μη ορθογώνιο τρίγωνο $AB\Gamma$, H το ορθόκεντρο του και μία τυχαία ευθεία ϵ διερχόμενη από το H . Ναδειχθεί ότι οι εικόνες της ϵ μέσω ανακλάσεων στις τρεις πλευρές του $AB\Gamma$ τέμνονται σε σημείο του περικύκλου του τριγώνου. Επίσης, αν μία άλλη ευθεία εφάπτεται σε σταθερό κύκλο κέντρου H , τότε οι εικόνες της μέσω των παραπάνω ανακλάσεων, εφάπτονται κύκλου της ίδιας ακτίνας, το κέντρο του οποίου είναι σημείο του περικύκλου του τριγώνου [2].

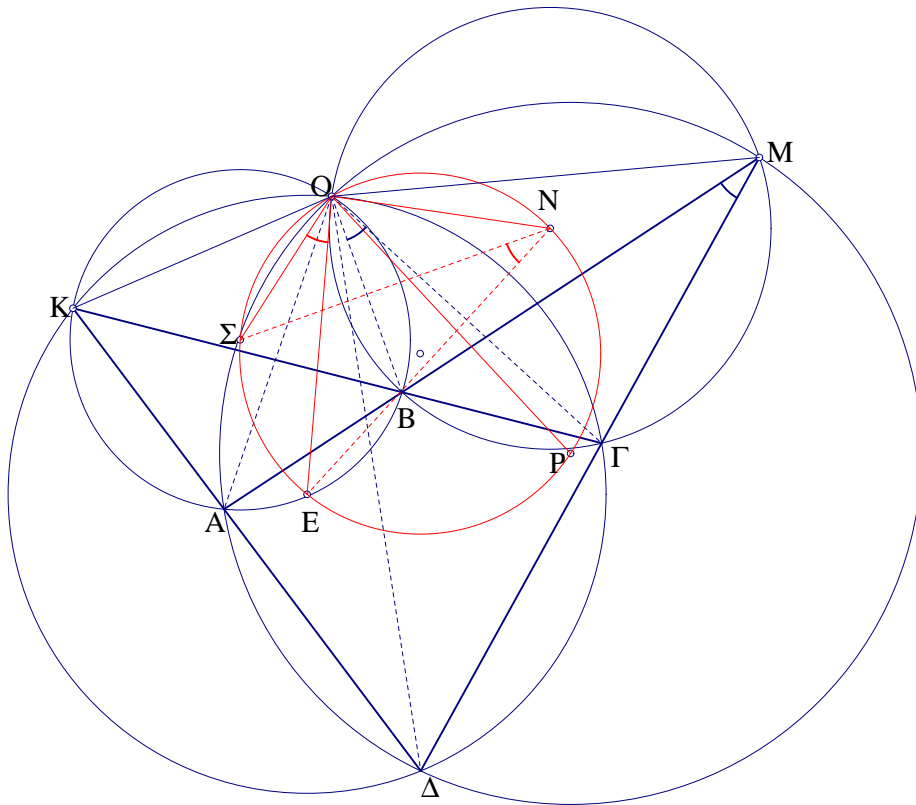
Απόδειξη:

Τα συμμετρικά του ορθοκέντρου είναι σημεία του περιγεγραμμένου κύκλου ενός τριγώνου. Επομένως οι συμμετρικές της ϵ ως προς τις AB και AG περνάνε από τα σημεία K και Λ αντίστοιχα (Σχήμα 160). Επί πλέον η μεταξύ τους γωνία είναι διπλάσια της A , καθώς η μία είναι εικόνα της άλλης μέσω στροφής γωνίας διπλάσιας της A (διαφορετικής της ευθείας γωνίας) όπως προκύπτει από την σύνθεση ανάκλασεων σε τεμνόμενες ευθείες. Το τόξο $K\Lambda$ έχει μέτρο ίσο με $180^\circ - 2\hat{A}$. Άρα το σημείο τομής των συμμετρικών της ϵ ως προς AB και AG βρίσκεται πάνω στον περικύκλο του $AB\Gamma$. Αν η αρχική ευθεία ϵ δεν περνά από το H αλλά εφάπτεται κύκλου κέντρου H , φέρνουμε την παράλληλη της ϵ από το H . Οι συμμετρικές της ως προς τις AB , AG και $B\Gamma$, εφάπτονται συμμετρικών κύκλων ως προς τις τρεις πλευρές, ενώ και οι τρεις εφάπτονται κύκλου ίδιας ακτίνας και κέντρου O (Σχήμα 160).

Πρόβλημα 4.29 Αν οι συμμετρικές μίας ευθείας ϵ ως προς τις πλευρές μη ορθογωνίου τριγώνου συντρέχουν σε σημείο O , τότε η ϵ περνά από το ορθόκεντρο H και το O ανήκει στον περικύκλο του $AB\Gamma$. Αν οι ευθείες δεν συντρέχουν, τότε το τρίγωνο που σχηματίζουν παραμένει όμοιο προς εαυτό και το έγκεντρο του ανήκει στον περικύκλο του $AB\Gamma$ [2].

Απόδειξη:

Από το προηγούμενο πρόβλημα προκύπτει ότι το τρίγωνο των τριών εικόνων της ϵ έχει εξωτερικές γωνίες ίσες με το διπλάσιο των αντιστοίχων γωνιών του $AB\Gamma$. Η μόνη περίπτωση



Σχήμα 154: Σημείο *miquel*

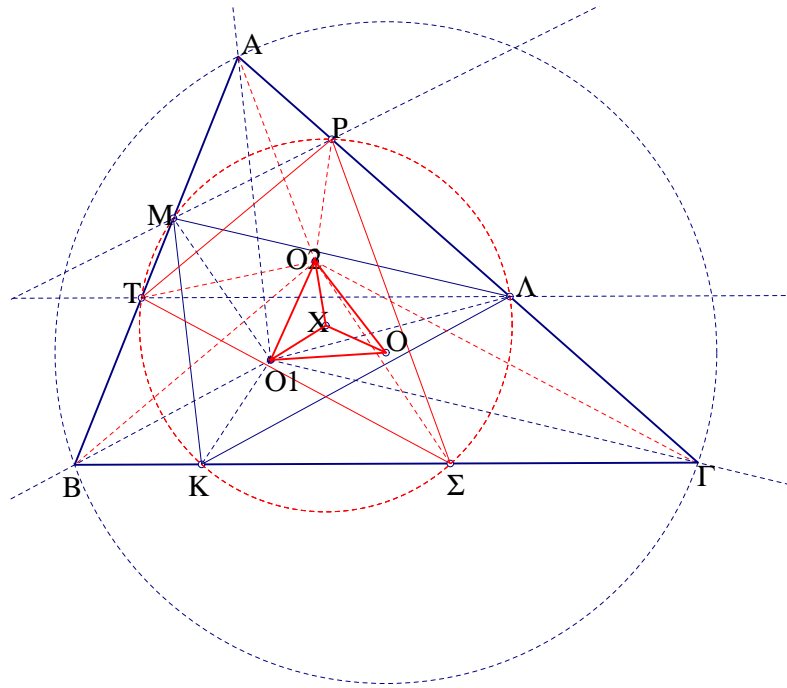
αυτές οι τρεις ευθείες να συντρέχουν, είναι η αρχική ευθεία ϵ να περνά από το ορθόκентρο H Ανακλάσεις ευθείας στις πλευρές τριγώνου.

Πρόβλημα 4.30 Δίνονται τρεις ίσοι κύκλοι διερχόμενοι από κοινό σημείο A και τεμνόμενοι εκ νέου στα σημεία P , Θ και N . Έστω $H\Sigma X$ το τρίγωνο που σχηματίζεται από τις κοινές τους εφαπτόμενες. Ναδειχθεί ότι το εμβαδόν του $H\Sigma X$ είναι τουλάχιστον εννέα φορές μεγαλύτερο από εκείνο του $P\Theta N$.

Απόδειξη:

Έστω K , Λ και M τα κέντρα των τριών κύκλων. Το σημείο O είναι περίκентρο του $K\Lambda M$ και το τρίγωνο $P\Theta N$ έχει για κορυφές του τα συμμετρικά του O ως προς τις πλευρές του $K\Lambda M$. Επομένως το τρίγωνο που ορίζεται από τα μέσα των πλευρών του $K\Lambda M$ είναι ομοιόθετο του $P\Theta N$ ως προς ομοιοθεσία $H(O, 1/2)$. Και το τρίγωνο $K\Lambda M$ όμως είναι ομοιόθετο του τριγώνου των μέσων των πλευρών του ως προς ομοιοθεσία $H(G, -2)$ όπου G το βαρύκентρο του $K\Lambda M$. Η σύνθεση όμως των παραπάνω ομοιοθεσιών είναι ομοιοθεσία $H(E, -1)$ όπου E είναι το κέντρο του κύκλου των εννέα σημείων του $K\Lambda M$ ο οποίος είναι και κύκλος των εννέα σημείων για το τρίγωνο $P\Theta N$. Επομένως τα τρίγωνα $P\Theta N$ και $K\Lambda M$ είναι ίσα. Αν R και ρ είναι οι ακτίνες του περιγεγραμμένου και εγγεγραμμένου κύκλου του $K\Lambda M$, ο λόγος ομοιότητας του $H\Sigma X$ προς το $K\Lambda M$ είναι $\lambda = \frac{R+\rho}{\rho} = 1 + \frac{R}{\rho} \geq 3$ λόγω του θεωρήματος του *Euler*: $R \geq 2\rho$. Επομένως $\frac{(H\Sigma X)}{K\Lambda M} \geq 9$. (Σχήμα 162)

Πρόβλημα 4.31 Δίνονται δύο όμοια τρίγωνα $AB\Gamma$ και $A^*B^*\Gamma^*$. Αν από τυχαίο σημείο O του επιπέδου φέρουμε τμήματα παράλληλα και ίσα των τμημάτων AA^* , BB^* και $\Gamma\Gamma^*$ που συνδέουν ομόλογες κορυφές, τότε το τρίγωνο $A!B!\Gamma!$ είναι όμοιο προς τα δύο δοθέντα.



Σχήμα 155: Ίσα εγγεγραμμένα τρίγωνα

Απόδειξη:

Μεταφέρουμε τα $OA!$, $OB!$ και $OG!$ κατά διάνυσμα $\vec{v} = \vec{OG}$. Η εικόνα του $\Gamma!$ είναι προφανώς το Γ^* και έστω Δ και E οι εικόνες των $A!$ και $B!$ αντίστοιχα. Τότε τα $A^*\Delta$ και B^*E είναι παράλληλα και ίσα με τα $A\Gamma$ και $B\Gamma$ αντίστοιχα. Επομένως $\frac{A^*\Gamma^*}{A^*\Delta} = \frac{\Gamma^*B^*}{B^*E}$ και $\widehat{\Delta A^*\Gamma^*} = \widehat{EB^*\Gamma^*}$. Επομένως τα τρίγωνα $\Delta A^*\Gamma^*$ και $EB^*\Gamma^*$ είναι όμοια με κέντρο ομοιότητας το σημείο Γ^* . Άρα και τα $A^*B^*\Gamma^*$ και $\Gamma^*\Delta E$ είναι όμοια με το ίδιο κέντρο ομοιότητας (Σχήμα 163).

Θεώρημα 4.1 Αν ένα σχήμα κινείται στο επίπεδο (παραμένοντας αναλλοίωτο) με τρόπο ώστε δύο μη παράλληλες ευθείες του να διέρχονται από δύο σταθερά σημεία, τότε κάθε άλλη ευθεία του, διέρχεται από σταθερό σημείο, ή εφάπτεται σταθερού κύκλου.

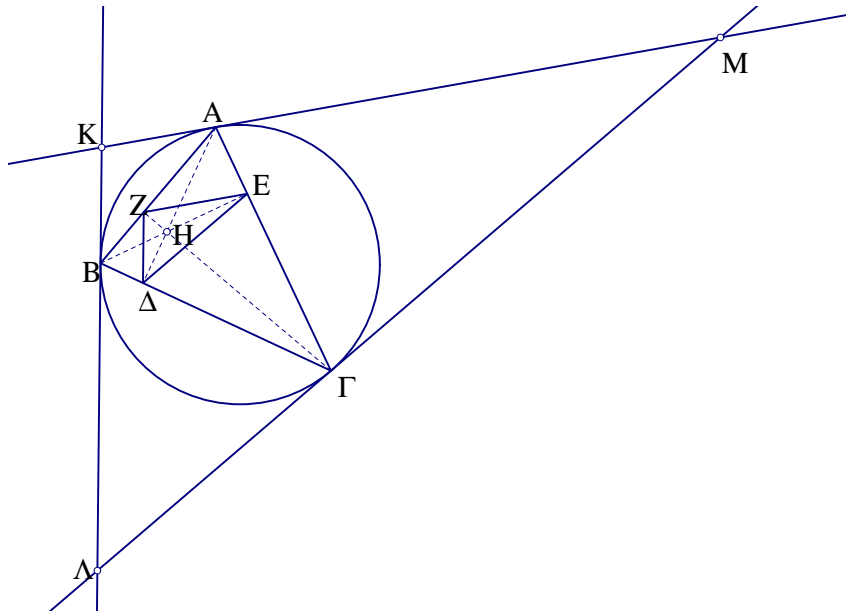
Απόδειξη:

Έστω A και B τα σταθερά σημεία και O το κοινό σημείο των δύο ευθειών. Το σημείο O κινείται στο τόξο AOB του σταθερού κύκλου AOB . Κάθε ευθεία ϵ του Σ που διέρχεται από το O , τέμνει τον κύκλο αυτό σε σταθερό σημείο K . Κάθε άλλη ευθεία παράλληλη της ϵ , εφάπτεται σε σταθερό κύκλο κέντρου K και ακτίνας ίσης με την απόσταση του K από αυτήν, καθώς η απόσταση αυτή, παραμένει σταθερή κατά τη κίνηση του Σ [2](Σχήμα 164).

Θεώρημα 4.2 Αν ένα σχήμα κινείται στο επίπεδο (παραμένοντας αναλλοίωτο) με τρόπο ώστε δύο σημεία του να κινούνται σε δύο τεμνόμενες σε σημείο O ευθείες, τότε υπάρχει ένας κύκλος, όλα τα σημεία του οποίου κινούνται σε ευθείες, διερχόμενες από το O .

Απόδειξη:

Έστω A, B και A^*, B^* δύο διαφορετικές θέσεις των σημείων του σχήματος, τα οποία κινούνται σε δύο τεμνόμενες στο O ευθείες. Αν M και M^* είναι οι διαφορετικές θέσεις τυχαίου σημείου του Σ που ανήκουν στους κύκλους AOB και $A^*O B^*$, τα σημεία O, M και M^* είναι συνευθειακά, καθώς τα αντίστοιχα τόξα των δύο κύκλων είναι ίσα [2] (Σχήμα 165).



Σχήμα 156: Ορθικό τρίγωνο

Θεώρημα 4.3 Αν ένα σχήμα Σ κινείται στο επίπεδο έτσι ώστε να παραμένει όμοιο προς τον εαυτό του και τρία σημεία του κινούνται σε ευθείες, τότε κάθε σημείο του κινείται σε ευθεία.

Απόδειξη:

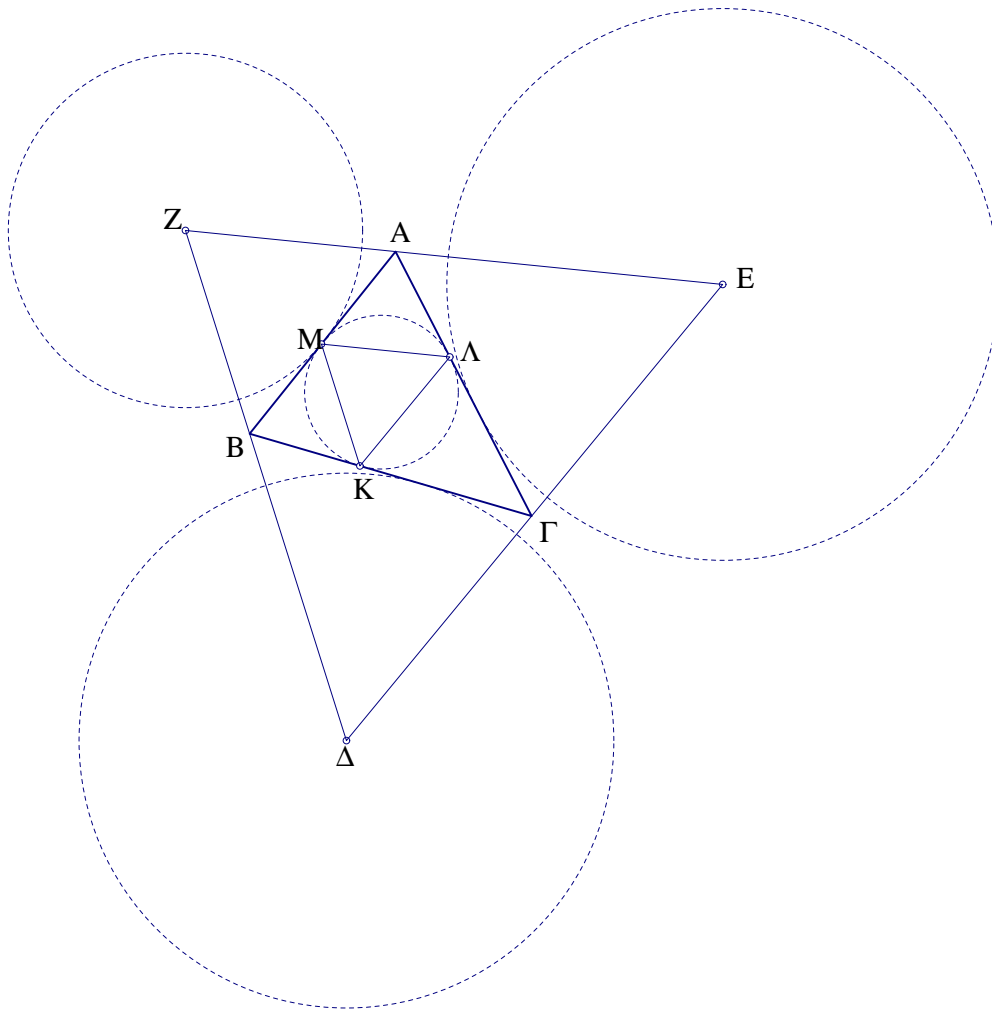
Έστω Σ και Σ^* δύο διαφορετικές θέσεις του σχήματός μας. Αν K, Λ και M τα σημεία τομής των τριών ευθειών και A, A^*, B, B^* και Γ, Γ^* οι διαφορετικές θέσεις τριών σημείων του σχήματος, οι κύκλοι $ABK, A\Gamma M$ και $B\Gamma\Lambda$ έχουν κοινό σημείο O , το οποίο είναι σταθερό και ανεξάρτητο από τις θέσεις των A, B και Γ πάνω στις αντίστοιχες ευθείες (Σχήμα 166). Το ίδιο συμβαίνει και στην περίπτωση που οι τρεις ευθείες συντρέχουν [2] (Σχήμα 167).

Θεώρημα 4.4 Αν ένα σχήμα Σ κινείται στο επίπεδο έτσι ώστε να παραμένει όμοιο προς τον εαυτό του και τρεις μη συντρέχουσες ευθείες του διέρχονται από τρία σταθερά σημεία, τότε κάθε ευθεία του Σ διέρχεται από σταθερό σημείο και κάθε σημείο του κινείται σε κύκλο.

Απόδειξη:

Έστω Σ και Σ^* δύο διαφορετικές θέσεις του σχήματός μας. Αν A, A^*, B, B^* και Γ, Γ^* τα σημεία τομής των τριών ευθειών στις δύο αυτές θέσεις, οι τετράδες σημείων που σχηματίζονται από ένα από τα προηγούμενα ζευγάρια σημείων και δύο από τα τρία σταθερά σημεία, είναι ομοκυκλικές και οι αντίστοιχοι κύκλοι είναι σταθεροί και τέμνονται σε σταθερό σημείο O . Επομένως το O είναι κέντρο ομοιότητας που απεικονίζει ένα τυχαίο σημείο του σχήματος στο σημείο A . Άρα το σημείο M κινείται σε κύκλο που είναι η εικόνα μέσω της παραπάνω ομοιότητας, του κύκλου, πάνω στον οποίο κινείται το A . Επίσης, αν μία ευθεία ϵ του σχήματος περνά από σταθερό σημείο P διαφορετικό του O , κάθε άλλη ευθεία δ του σχήματος, θα περνά από άλλο σταθερό σημείο P^* , το οποίο θα είναι η εικόνα του P μέσω της ομοιότητας κέντρου O που απεικονίζει την ϵ στην δ [2] (Σχήμα 168).

Πρόβλημα 4.32 Στα *Οπτικά* και συγκεκριμένα στο βιβλίο *V* του *Ibn Al – Haytam*, γνωστού και σαν *Alhazen* εμφανίζεται το πρόβλημα της ανάκλασης σε σφαιρικούς, κυλινδρικούς ή κωνικούς καθρέφτες. Ο συγγραφέας στηρίζει την λύση του σε έξι γεωμετρικά λήμματα. Ένα από αυτά είναι το παρακάτω: Από δεδομένο σημείο κύκλου δεδομένης διαμέτρου $\delta = Z\Lambda$, να αχθεί ευθεία, η οποία να τέμνει τον κύκλο και την διάμετρο σε σημεία Σ και P , των οποίων η απόσταση να ισούται με δοσμένο μήκος α . Κατασκευή: Θεωρούμε την ισοσκελή



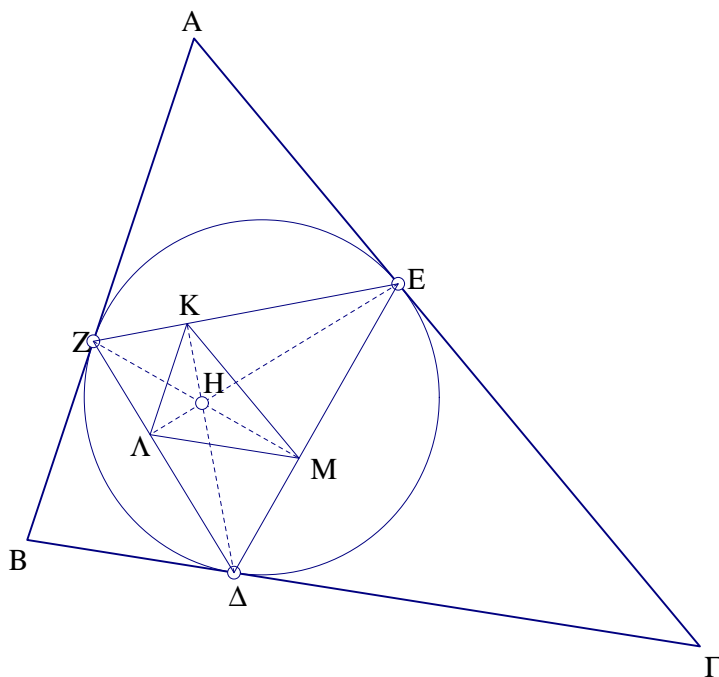
Σχήμα 157: Τρίγωνο σημείων επαφής

υπερβολή κέντρου O , διερχόμενη από το σημείο M αντιδιαμετρικό του O και με ασύμπτωτες τις ευθείες OZ και OA . Με κέντρο το M και ακτίνα ίση με δ^2/α η οποία τέμνει την υπερβολή σε σημείο T (μπορεί να υπάρχουν μέχρι τέσσερα τέτοια σημεία). Η παράλληλη από το O προς την MT είναι η ζητούμενη.

Απόδειξη:

Έστω Σ και P τα σημεία τομής της ζητούμενης ευθείας με τον κύκλο και την διάμετρο αντίστοιχα. Αρκεί να αποδείξουμε ότι τα τρίγωνα OMT και $P\Sigma\Theta$ είναι όμοια όπου Θ είναι το σημείο τομής της MT με τον κύκλο, καθώς επίσης και το αντιδιαμετρικό του Σ . Η ιδιότητα των έγγεγραμμένων γωνιών M και Σ είναι προφανής. Έστω N το μέσον της MT . Από γνωστή ιδιότητα της υπερβολής προκύπτει ότι το N είναι μέσο και του $X\Upsilon$, όπου X και Υ τα σημεία τομής της MT με τις δύο ασύμπτωτες της υπερβολής. Η γωνία $\widehat{ON\Upsilon}$ είναι διπλάσια της $\widehat{OX\Upsilon}$ η οποία ισούται με την ημιδιαφορά των τόξων ZM και $O\Theta$, δηλαδή του μισό του τόξου $\Theta\Lambda$. Επομένως το μέτρο της γωνίας $\widehat{ON\Upsilon}$ ισούται με το μέτρο του τόξου $\Theta\Lambda$. Άρα οι γωνίες $\widehat{ON\Upsilon}$ και $\widehat{PK\Sigma}$ είναι ίσες. Επομένως τα τρίγωνα $P\Sigma\Theta$ και OMT είναι όμοια, με τις PK και ON να είναι διάμεσοι των τριγώνων $P\Sigma\Theta$ και OMT αντίστοιχα. Άρα

$$P\Sigma\Theta \approx OMT \Rightarrow \frac{\Sigma P}{OM} = \frac{\Sigma\Theta}{MT} \Rightarrow \Sigma P = \frac{\delta^2}{MT} = \alpha$$



Σχήμα 158: Ορθικό τριγώνου επαφών

(Σχήμα 169)

Θεώρημα 4.5 Από τυχαίο σημείο O στο εσωτερικό τυχαίου τριγώνου XYZ , φέρουμε παράλληλες προς τις πλευρές του. Θεωρούμε τα τρία όμοια τρίγωνα που σχηματίζουν αυτές οι ευθείες με τις πλευρές του XYZ . Αν στρέψουμε τα τρίγωνα αυτά περί το O σε τυχαίες θέσεις OAB , $OΓΔ$ και OEZ (Σχήμα 170), τότε το τρίγωνο που ορίζεται από τα μέσα Λ , M και K των $BΓ$, $ΔE$ και AZ αντίστοιχα, είναι πάντα όμοιο με το αρχικό (Θεώρημα *Clifford – Cayley*)

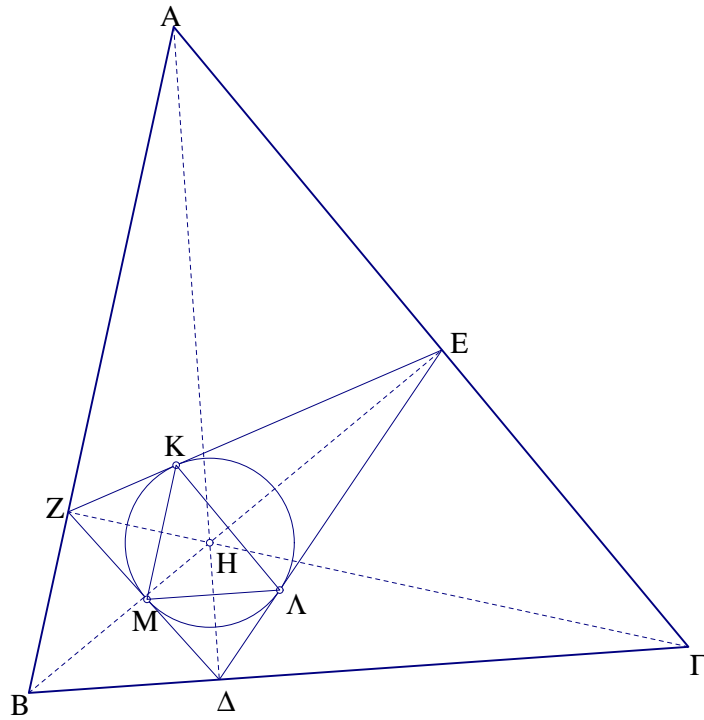
Απόδειξη:

Τα τρίγωνα ZEO και $OΔΓ$ είναι όμοια. Επομένως και το τρίγωνο $ΣMP$ που ορίζεται από τα μέσα των ευθυγράμμων τμημάτων ZO , $EΔ$ και $ΟΓ$ που ενώνουν τις ομόλογες κορυφές, (Πρόταση) είναι όμοιο με αυτά. Επίσης παρατηρούμε ότι τα τμήματα $ΣK$ και $P\Lambda$, σαν παράλληλα και ίσα με τα μισά των OA και OB αντίστοιχα, έχουν λόγο ίσο με τον λόγο $\frac{OA}{OB} = \frac{MΣ}{MP}$ και γωνία ίση με την $\widehat{AOB} = \widehat{ΣMP}$. Επομένως τα τρίγωνα $MΣK$ και $MP\Lambda$ είναι όμοια, με κέντρο ομοιότητας το M , άρα και τα $ΣMP$ και KML είναι όμοια με το ίδιο κέντρο ομοιότητας.

Πρόταση 4.18 Έστω $ABΓ$ και $A'B'Γ'$ δύο (ομορρόπως όμοια τρίγωνα). Με πλευρές τα ευθύγραμμα τμήματα που ενώνουν τις ομόλογες κορυφές, κατασκευάζουμε τρία όμοια μεταξύ τους τρίγωνα $AA'A^*$, $BB'B^*$ και $ΓΓ'Γ^*$. Τότε το τρίγωνο $A^*B^*Γ^*$ είναι όμοιο με τα δύο αρχικά (Σχήμα 171). Η πρόταση εξακολουθεί να ισχύει αν τα σημεία A^* , B^* και $Γ^*$ χωρίζουν τα AA' , BB' και $ΓΓ'$ σε ίσους λόγους (Σχήμα 172).

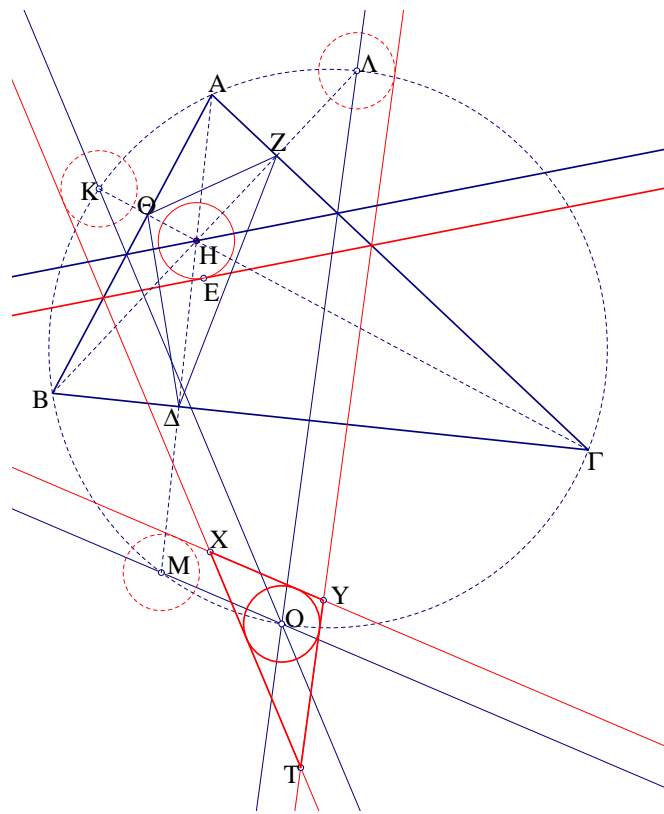
Απόδειξη:

Έστω O το κέντρο ομοιότητας των αρχικών τριγώνων $ABΓ$ και $A'B'Γ'$ που απεικονίζει το AB στο $A'B'$. Το O είναι κέντρο άλλης ομοιότητας που απεικονίζει το AA' στο BB' , άρα

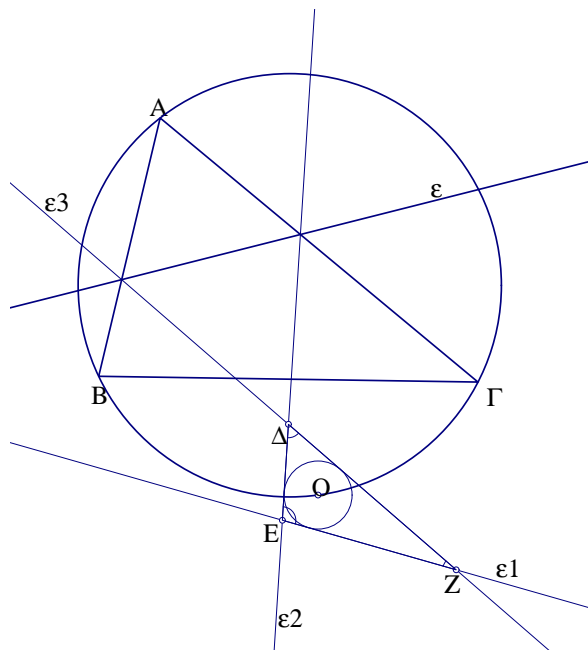


Σχήμα 159: Τρίγωνο επαφών ορθικού

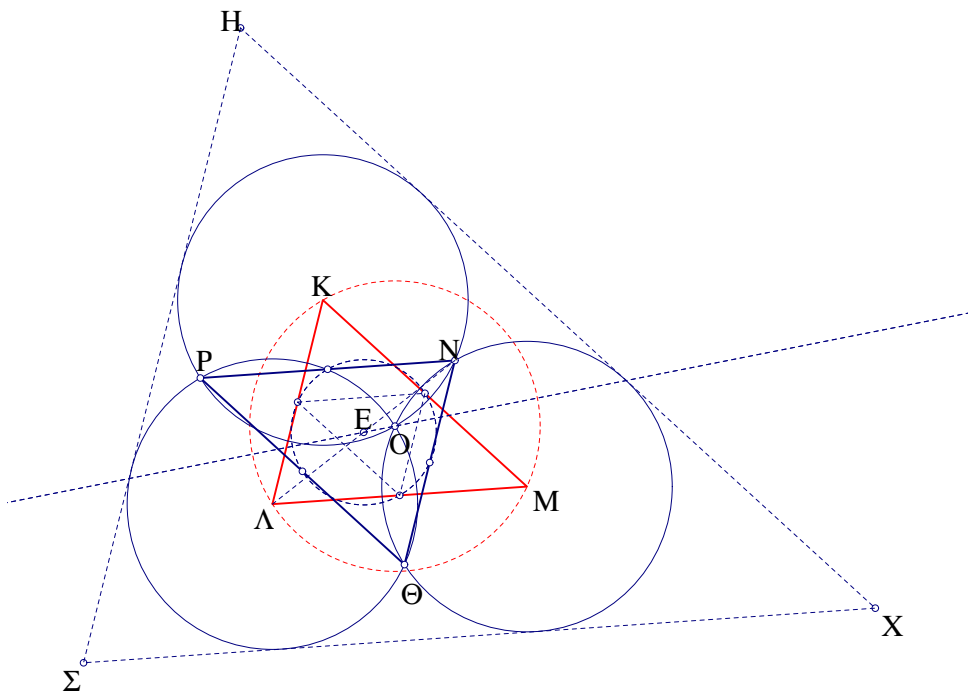
και το τρίγωνο $AA'A^*$ στο $BB'B^*$. Δηλαδή ηομοιότητα αυτή απεικονίζει το AA^* στο BB^* . Επομένως υπάρχει ομοιότητα κέντρου O που απεικονίζει το AB στο A^*B^* . Όμοια, συμπεραίνουμε ότι υπάρχει ομοιότητα κέντρου O που απεικονίζει το $A\Gamma$ στο $A^*\Gamma^*$. Οι δύο όμως τελευταίες ομοιότητες είναι ίσες καθώς απεικονίζουν το A στο A^* . Επομένως η ομοιότητα αυτή απεικονίζει το τρίγωνο $AB\Gamma$ στο $A^*B^*\Gamma^*$.



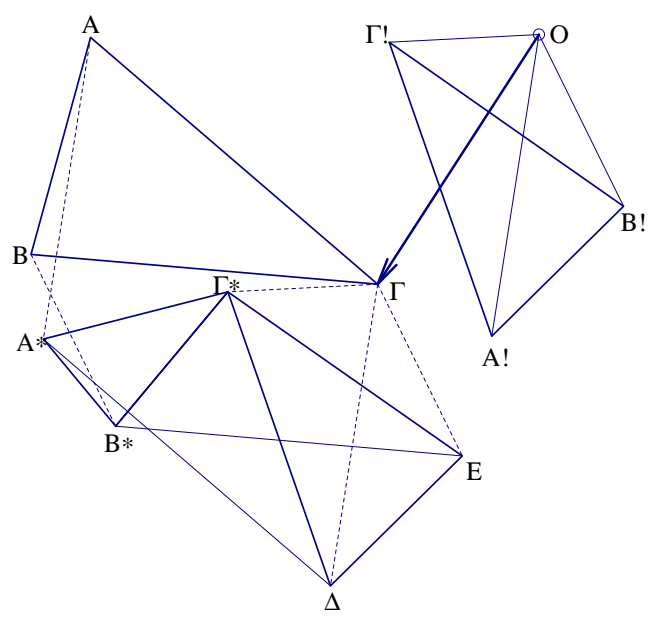
Σχήμα 160: Ανακλάσεις στις πλευρές τριγώνου



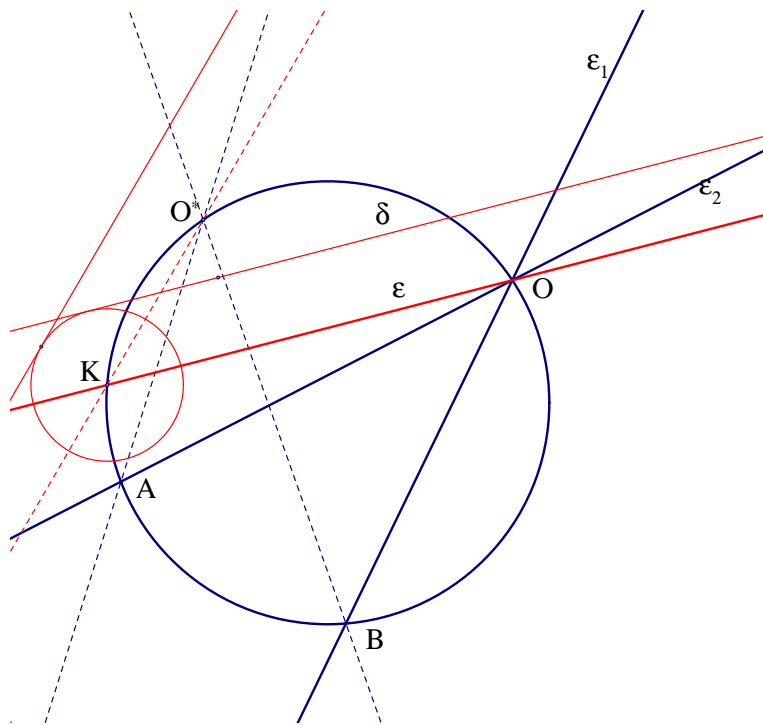
Σχήμα 161: Ανακλάσεις στις πλευρές τριγώνου



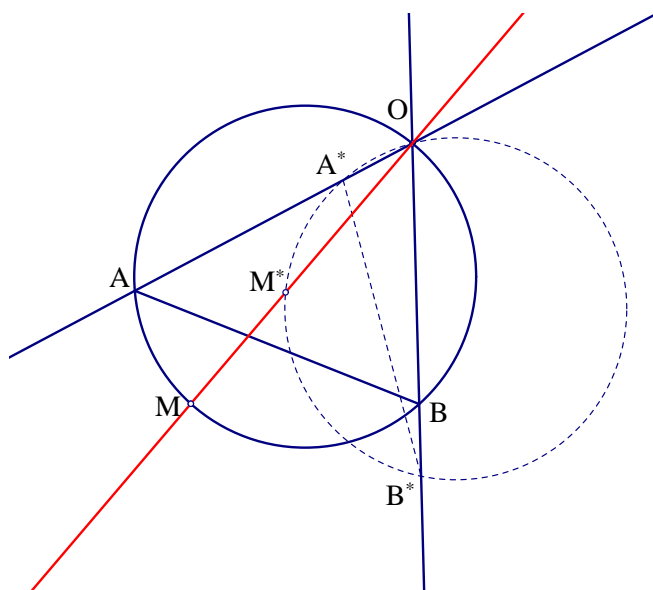
Σχήμα 162: Τρεις ίσοι κύκλοι



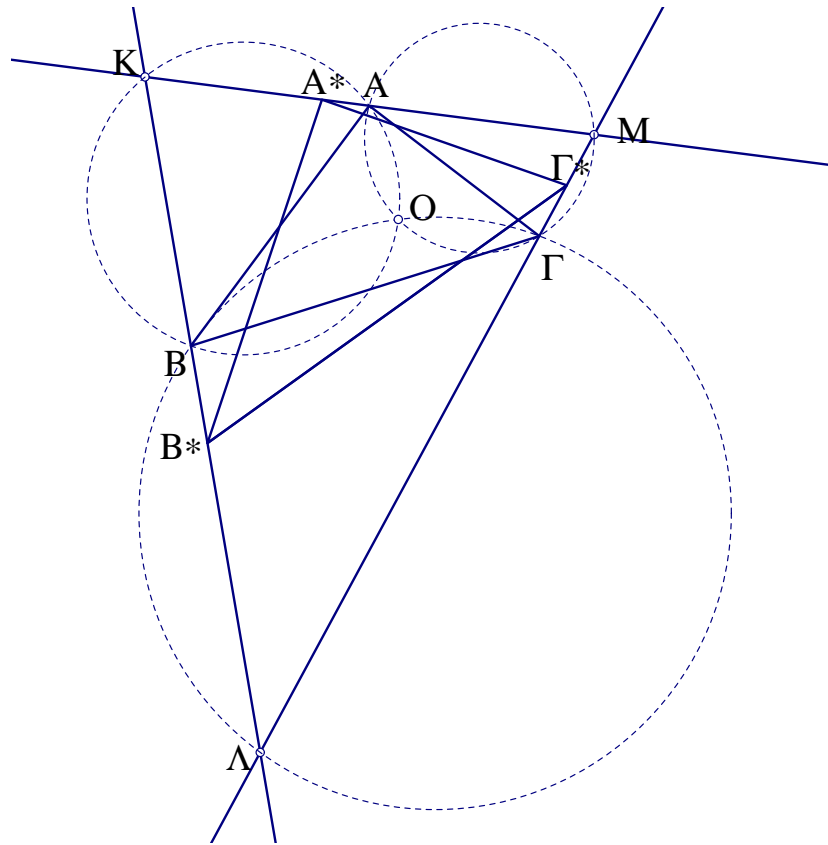
Σχήμα 163: Ομοιότητα τριγώνων



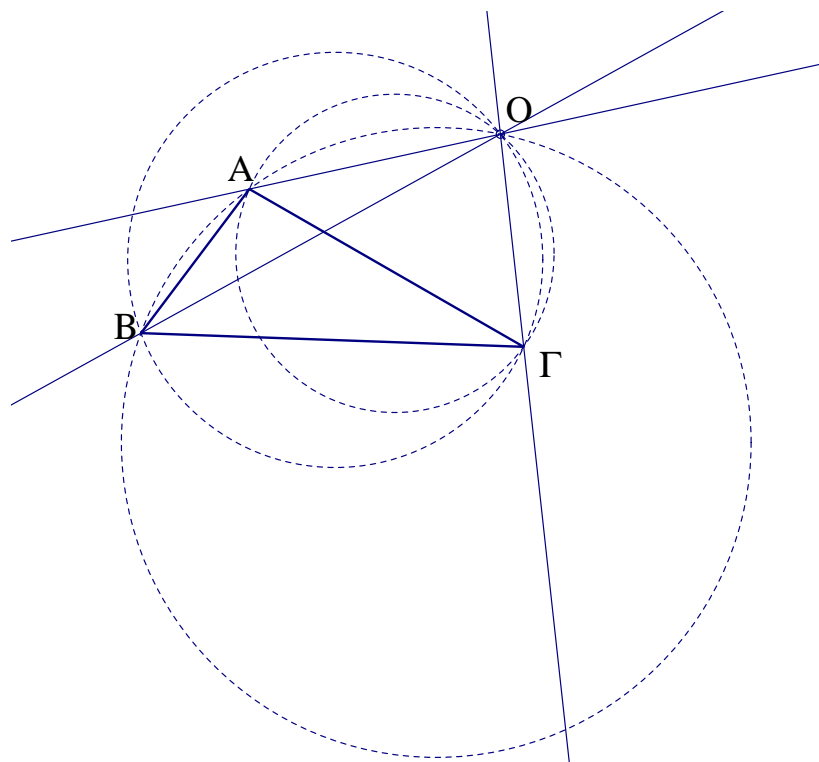
Σχήμα 164: Θεώρημα 1



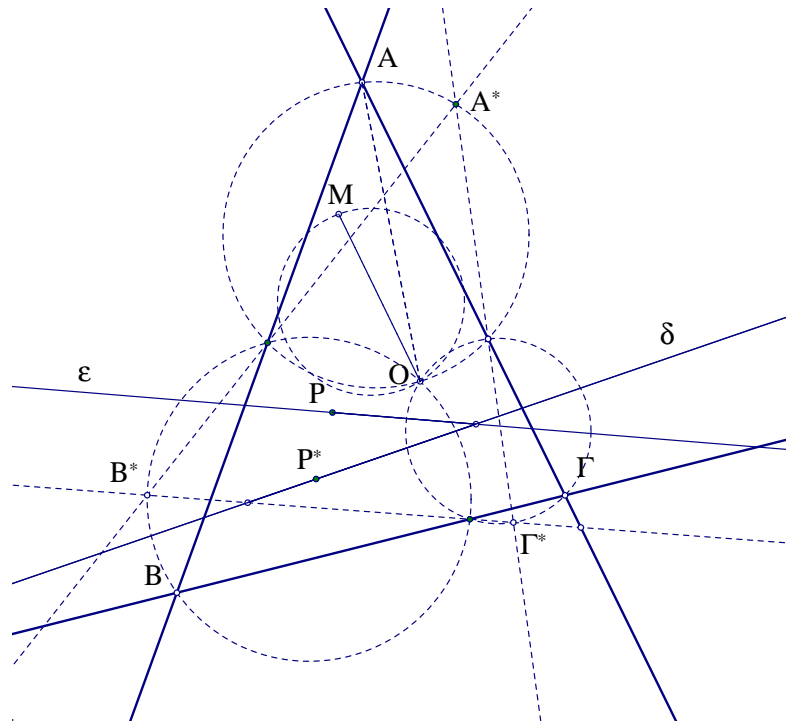
Σχήμα 165: Θεώρημα 2



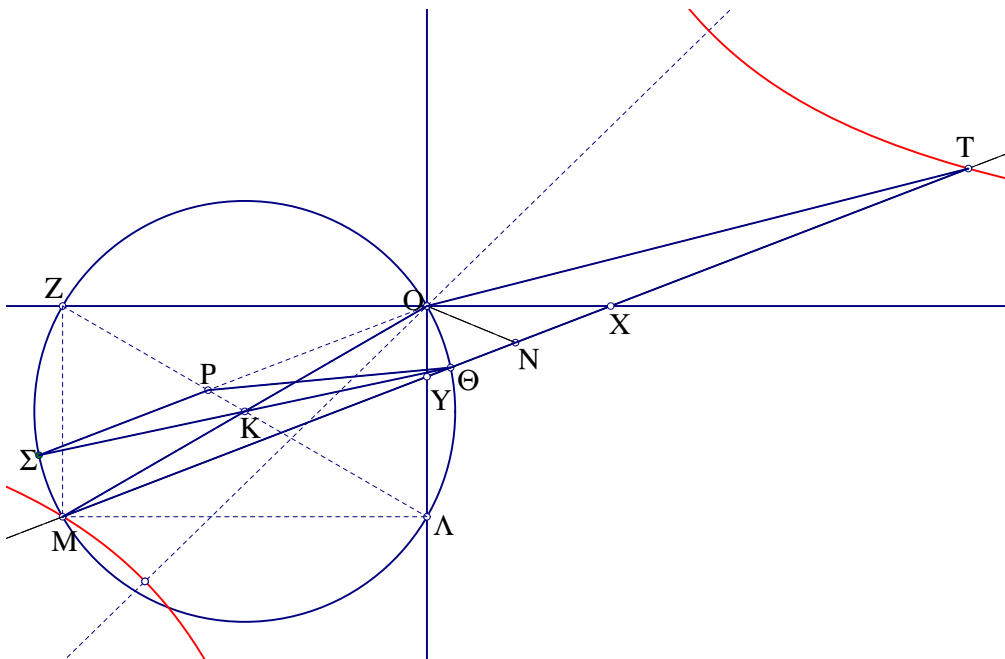
Σχήμα 166: Θεώρημα



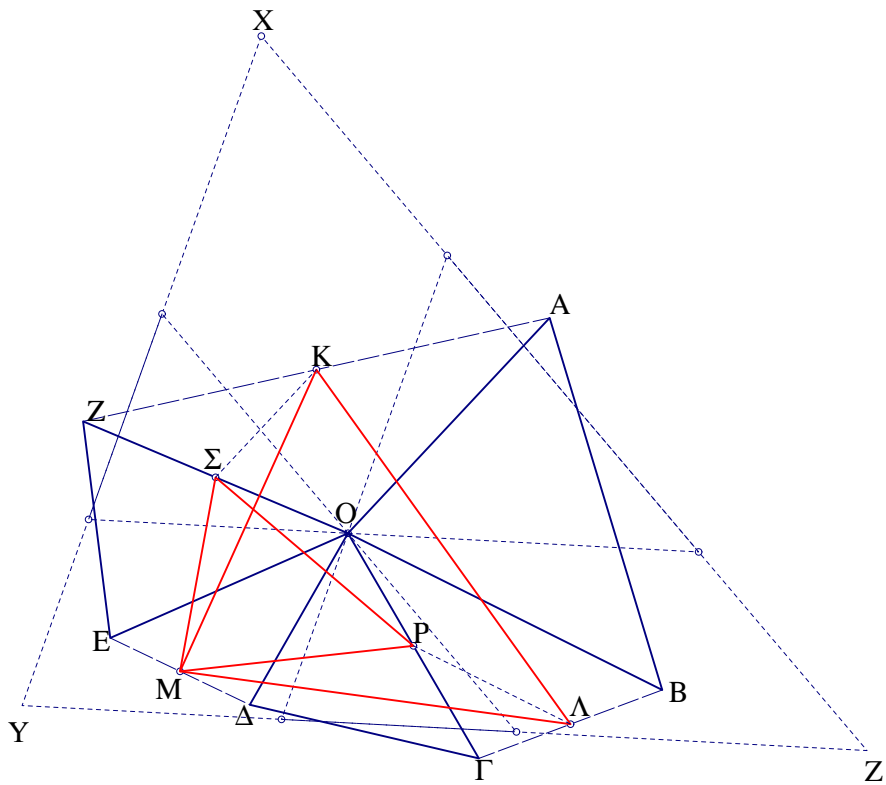
Σχήμα 167: Θεώρημα



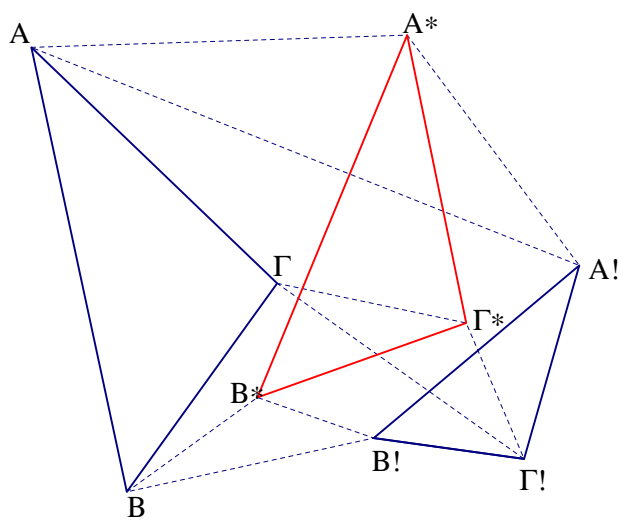
Σχήμα 168: Θεώρημα



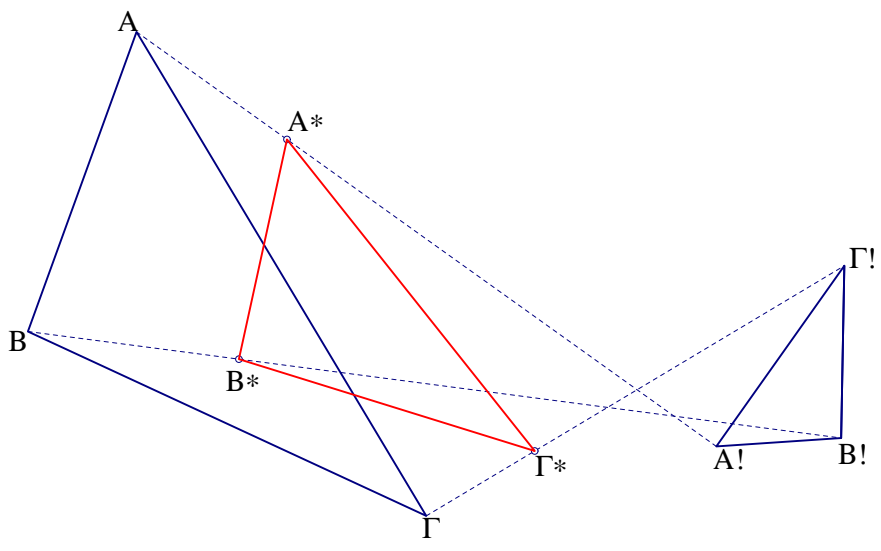
Σχήμα 169: Κατασκευή Alhazen



Σχήμα 170: Θεώρημα *Clifford – Cayley*



Σχήμα 171: Θεώρημα *Napoleon*



Σχήμα 172: Θεώρημα *Napoleon*

5 Βιβλιογραφία

Αναφορές

- [1] M. YAGLOM (1962), *Geometric Transformations I, The Mathematical Association of America.*
- [2] M. YAGLOM (1968), *Geometric Transformations II, The Mathematical Association of America.*
- [3] ΠΑΡΗ ΠΑΜΦΙΛΟΥ , *Εισαγωγή στην Γεωμετρία (2000), Πανεπιστήμιο Κρήτης.*
- [4] HOWARD EVES, *A Survey of Geometry, Volume I Allyn and Bacon, Boston 1963*
- [5] ROSS HONSBERGER, *Episodes in nineteenth and twentieth century Euclidean Geometry The Mathematical Association of America. 1995*
- [6] ROGER A JOHNSON *Advanced Euclidean Geometry Dover Publications, Inc New York 1960*
- [7] ΣΤΡΑΤΗ ΠΑΠΑΔΟΠΟΥΛΟΥ , *Θεμέλια και βασική δομή της Ευκλείδειας Γεωμετρίας, Εκδόσεις Gutenberg , Αθήνα 1985.*
- [8] ΣΠΥΡΟΥ Γ. ΚΑΝΕΛΛΟΥ, *Ευκλείδειος Γεωμετρία Επίπεδος, Εκδοτικός Οίκος Αφών Παπαδημητρόπουλου, Αθήνα 1973.*
- [9] MURRAY S. KLAMKIN, *U.S.A. Mathematical Olympiads 1972-1986 , Mathematical Association of America 1988*
- [10] BORIS PRITSKER, *Γύρω από το κέντρο των προβλημάτων, Περιοδικό QUANTUM, Ελληνική Έκδοση, Τόμος 3, Τεύχος 4 (Ιούλιος Αύγουστος 1996) Εκδόσεις Κάτοπτρο*
- [11] VLADIMIR DUBROVSKY, *Διαδοχικές αποκαλύψεις, Περιοδικό QUANTUM, Ελληνική Έκδοση, Τόμος 3, Τεύχος 4 (Ιούλιος Αύγουστος 1996) Εκδόσεις Κάτοπτρο*
- [12] HEINRICH DORRIE *100 Great Problems of Elementary Mathematics Dover Publications, Inc New York 1960*
- [13] F.G. – M., *Ασκήσεις Γεωμετρίας (ΙΗΣΟΥΗΤΩΝ), Εκδόσεις Α. Καραβία Αθήνα 1952*
- [14] NATHAN ALTSHILLER–COURT *College Geometry Barnes Noble, U.S.A. 1952*
- [15] R. L. FINNEY, *Dynamic Proofs of Euclidean Theorems, Mathematics Magazine Vol43, (1970)*
- [16] FLOR CARTUYVELS, *A Special Point in a Quadrilateral, The American Mathematical Monthly, Vol.73, No.6, pp.616 – 619*
- [17] SANDOR KISS, *The Orthic of Intouch and the Intouch of Orthic Triangles, Forum Geometricum 177*
- [18] <http://www.cut-the-knot.org>
- [19] <http://www.mathworld.wolfram.com/>

Περιεχόμενα

1	ΟΙ ΜΕΤΑΣΧΗΜΑΤΙΣΜΟΙ ΓΕΝΙΚΑ	1
1.1	ΟΡΙΣΜΟΙ-ΣΥΜΒΟΛΙΣΜΟΙ	1
1.2	ΠΡΟΣΑΝΑΤΟΛΙΣΜΕΝΟ ΕΠΙΠΕΔΟ	2
1.3	ΓΕΩΜΕΤΡΙΚΑ ΠΡΟΒΛΗΜΑΤΑ	2
2	ΙΣΟΜΕΤΡΙΕΣ	4
2.1	ΜΕΤΑΦΟΡΑ	4
2.2	ΕΦΑΡΜΟΓΕΣ ΤΗΣ ΜΕΤΑΦΟΡΑΣ ΣΕ ΓΕΩΜΕΤΡΙΚΑ ΠΡΟΒΛΗΜΑΤΑ	5
2.3	ΣΤΡΟΦΗ	9
2.4	ΕΦΑΡΜΟΓΕΣ ΤΗΣ ΣΤΡΟΦΗΣ ΣΕ ΓΕΩΜΕΤΡΙΚΑ ΠΡΟΒΛΗΜΑΤΑ . . .	12
2.5	ΗΜΙΣΤΡΟΦΗ	27
2.6	ΑΝΑΚΛΑΣΗ	31
2.7	ΕΦΑΡΜΟΓΕΣ ΤΗΣ ΑΝΑΚΛΑΣΗΣ ΣΕ ΓΕΩΜΕΤΡΙΚΑ ΠΡΟΒΛΗΜΑΤΑ .	32
2.8	ΣΥΝΘΕΣΗ ΙΣΟΜΕΤΡΙΩΝ ΓΕΝΙΚΑ- ΚΑΘΟΛΙΚΟΤΗΤΑ ΑΝΑΚΛΑΣΕΩΝ	34
2.9	ΕΦΑΡΜΟΓΕΣ ΤΩΝ ΙΣΟΜΕΤΡΙΩΝ ΣΕ ΓΕΩΜΕΤΡΙΚΑ ΠΡΟΒΛΗΜΑΤΑ .	38
2.10	ΟΛΙΣΘΑΝΑΚΛΑΣΗ	40
3	ΙΣΟΤΗΤΑ ΣΧΗΜΑΤΩΝ	55
3.1	ΓΕΝΙΚΑ ΠΡΟΒΛΗΜΑΤΑ	57
4	ΜΕΤΑΣΧΗΜΑΤΙΣΜΟΙ ΟΜΟΙΟΤΗΤΑΣ	63
4.1	ΟΜΟΙΟΘΕΣΙΑ	63
4.2	ΘΕΩΡΗΜΑΤΑ ΜΕΝΕΛΑΟΥ- <i>CEVA</i>	64
4.3	ΕΦΑΡΜΟΓΗ ΤΗΣ ΟΜΟΙΟΘΕΣΙΑΣ ΣΕ ΠΡΟΒΛΗΜΑΤΑ	69
4.4	ΟΜΟΙΟΤΗΤΑ ΟΜΟΡΡΟΠΟΣ(<i>Spiral Similarity</i>)	77
4.5	ΟΜΟΙΟΤΗΤΑ ΑΝΤΙΡΡΟΠΟΣ(<i>Dilative Reflection</i>)	79
4.6	ΣΗΜΕΙΑ <i>BROCARD</i>	82
4.7	ΤΡΙΓΩΝΟ ΟΜΟΙΟΤΗΤΑΣ-ΚΥΚΛΟΣ ΟΜΟΙΟΤΗΤΑΣ	85
4.8	ΚΕΝΤΡΟ ΕΓΓΡΑΦΗΣ ΤΡΙΓΩΝΟΥ	93
5	Βιβλιογραφία	112